



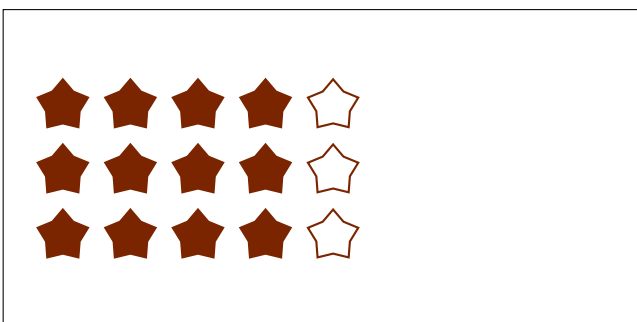

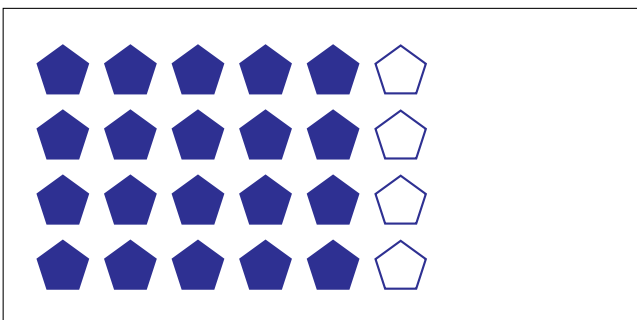
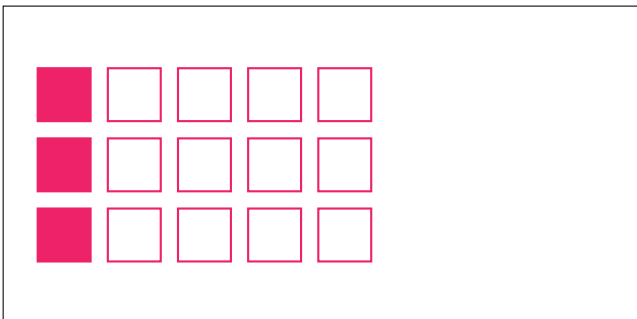

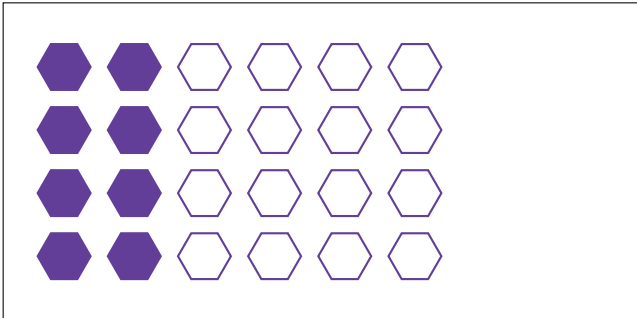
Partes de Un Grupo (E)




En este grupo
hay 15 formas y
12 están rellenas.

$$\frac{12 \text{ formas rellenas}}{15 \text{ formas en el grupo}} = \frac{12}{15} = \frac{4}{5}$$

Escriba una fracción para cada uno de los modelos siguientes.



Partes de Un Grupo (E) Respuestas



En este grupo hay 15 formas y 12 están rellenas.

$$\frac{12 \text{ formas rellenas}}{15 \text{ formas en el grupo}} = \frac{12}{15} = \frac{4}{5}$$

Escriba una fracción para cada uno de los modelos siguientes.

$$\frac{8}{24} = \frac{1}{3}$$

$$\frac{4}{24} = \frac{1}{6}$$

$$\frac{3}{15} = \frac{1}{5}$$

$$\frac{6}{8} = \frac{3}{4}$$

$$\frac{20}{24} = \frac{5}{6}$$

$$\frac{12}{18} = \frac{2}{3}$$

$$\frac{12}{15} = \frac{4}{5}$$

$$\frac{4}{8} = \frac{1}{2}$$