


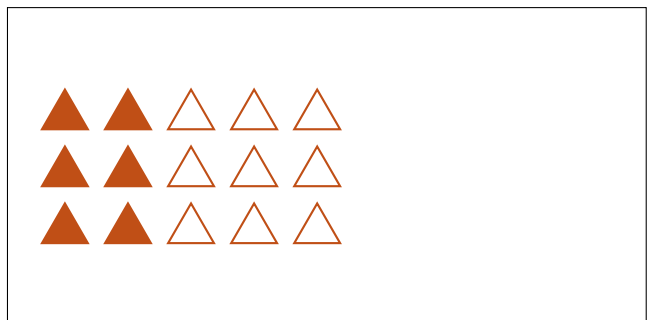


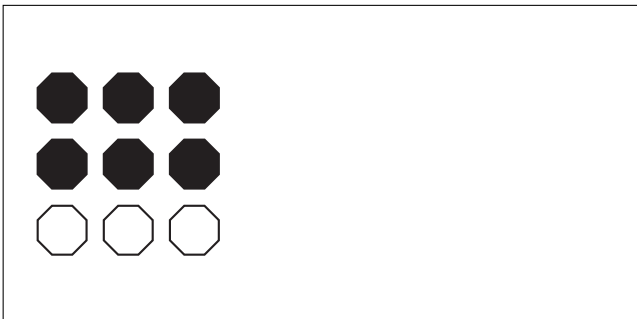



# Partes de Un Grupo (F)




En este grupo  
hay 10 formas y  
4 están rellenas.

$$\frac{4 \text{ formas rellenas}}{10 \text{ formas en el grupo}} = \frac{4}{10} = \frac{2}{5}$$

Escriba una fracción para cada uno de los modelos siguientes.



# Partes de Un Grupo (F) Respuestas



En este grupo  
hay 10 formas y  
4 están rellenas.

$$\frac{4 \text{ formas rellenas}}{10 \text{ formas en el grupo}} = \frac{4}{10} = \frac{2}{5}$$

Escriba una fracción para cada uno de los modelos siguientes.

$$\frac{1}{3}$$

$$\frac{3}{12} = \frac{1}{4}$$

$$\frac{4}{5}$$

$$\frac{10}{20} = \frac{1}{2}$$

$$\frac{6}{9} = \frac{2}{3}$$

$$\frac{10}{12} = \frac{5}{6}$$

$$\frac{2}{12} = \frac{1}{6}$$

$$\frac{6}{15} = \frac{2}{5}$$