





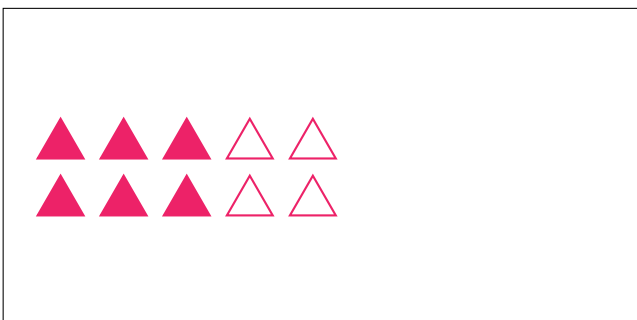

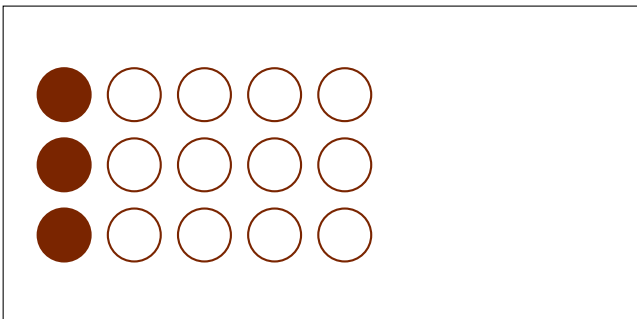
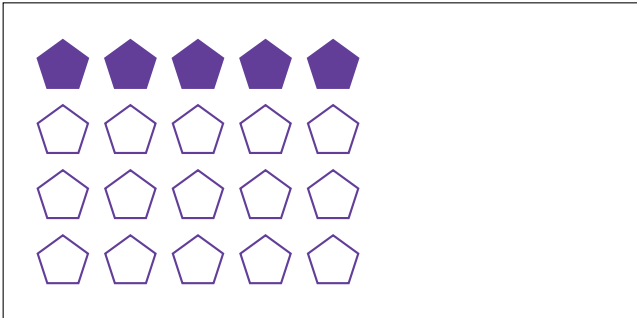
Partes de Un Grupo (I)




En este grupo
hay 16 formas y
4 están rellenas.

$$\frac{4 \text{ formas rellenas}}{16 \text{ formas en el grupo}} = \frac{4}{16} = \frac{1}{4}$$

Escriba una fracción para cada uno de los modelos siguientes.



Partes de Un Grupo (I) Respuestas



En este grupo
hay 16 formas y
4 están rellenas.

$$\frac{4 \text{ formas rellenas}}{16 \text{ formas en el grupo}} = \frac{4}{16} = \frac{1}{4}$$

Escriba una fracción para cada uno de los modelos siguientes.

$$\frac{5}{20} = \frac{1}{4}$$

$$\frac{3}{18} = \frac{1}{6}$$

$$\frac{3}{15} = \frac{1}{5}$$

$$\frac{12}{24} = \frac{1}{2}$$

$$\frac{6}{10} = \frac{3}{5}$$

$$\frac{5}{6}$$

$$\frac{2}{3}$$

$$\frac{8}{24} = \frac{1}{3}$$