



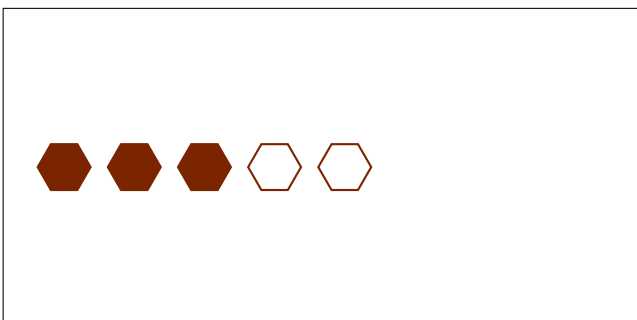

# Partes de Un Grupo (A)



En este grupo  
hay 3 formas y  
1 está rellena.

$$\frac{1 \text{ forma rellena}}{3 \text{ formas en el grupo}} = \frac{1}{3}$$

Escriba una fracción para cada uno de los modelos siguientes.



# Partes de Un Grupo (A) Respuestas



En este grupo  
hay 3 formas y  
1 está rellena.

$$\frac{1 \text{ forma rellena}}{3 \text{ formas en el grupo}} = \frac{1}{3}$$

Escriba una fracción para cada uno de los modelos siguientes.

$$\frac{2}{3}$$

$$\frac{1}{5}$$

$$\frac{1}{2}$$

$$\frac{7}{8}$$

$$\frac{3}{5}$$

$$\frac{3}{4}$$

$$\frac{1}{4}$$

$$\frac{3}{8}$$