


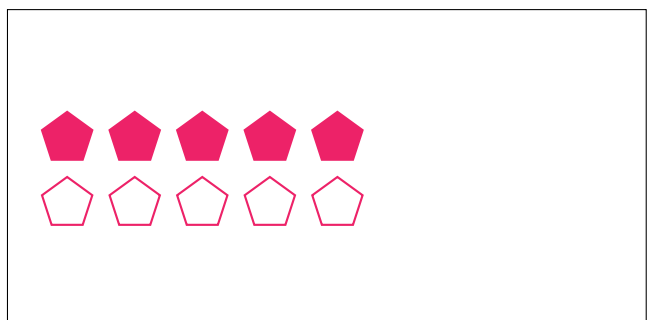

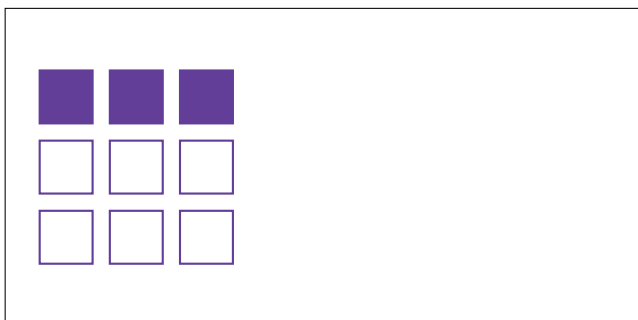
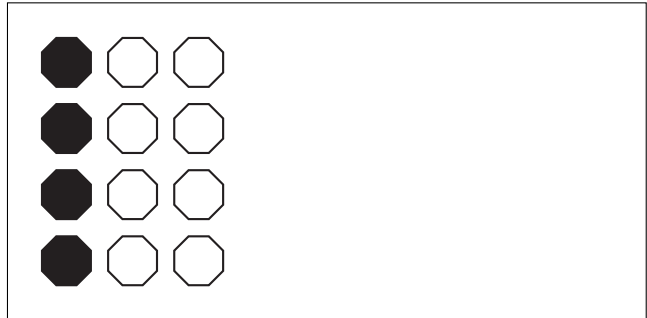
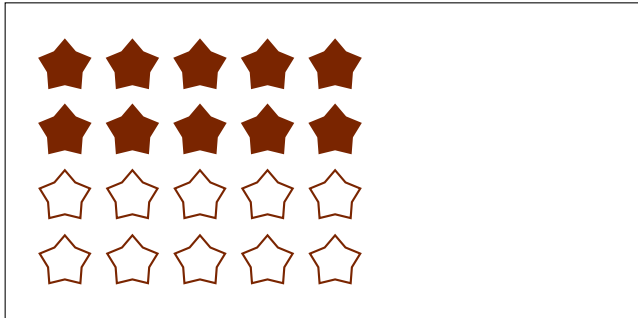
Partes de Un Grupo (B)




En este grupo
hay 24 formas y
12 están rellenas.

$$\frac{12 \text{ formas rellenas}}{24 \text{ formas en el grupo}} = \frac{12}{24} = \frac{1}{2}$$

Escriba una fracción para cada uno de los modelos siguientes.




Partes de Un Grupo (B) Respuestas




En este grupo hay 24 formas y 12 están rellenas.

$$\frac{12 \text{ formas rellenas}}{24 \text{ formas en el grupo}} = \frac{12}{24} = \frac{1}{2}$$

Escriba una fracción para cada uno de los modelos siguientes.



$$\frac{10}{20} = \frac{1}{2}$$




$$\frac{4}{12} = \frac{1}{3}$$



$$\frac{2}{4} = \frac{1}{2}$$




$$\frac{4}{6} = \frac{2}{3}$$



$$\frac{3}{9} = \frac{1}{3}$$



$$\frac{2}{6} = \frac{1}{3}$$



$$\frac{8}{16} = \frac{1}{2}$$



$$\frac{5}{10} = \frac{1}{2}$$