



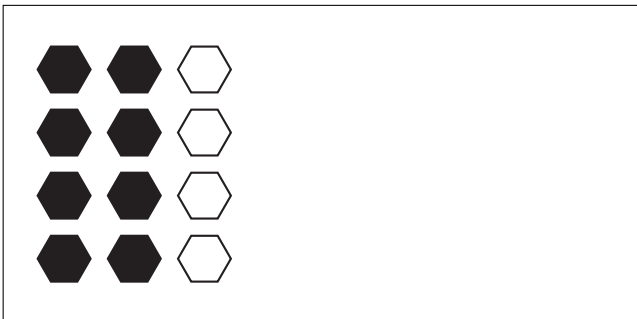
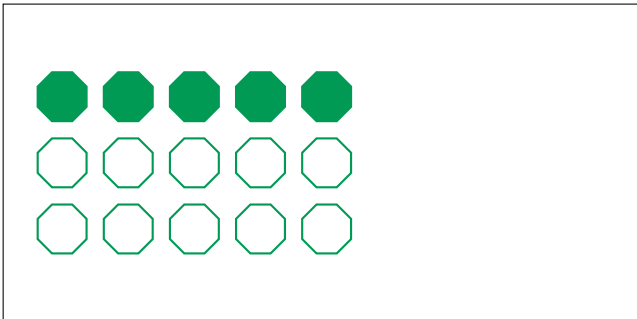


Partes de Un Grupo (E)




En este grupo
hay 12 formas y
6 están rellenas.

$$\frac{6 \text{ formas rellenas}}{12 \text{ formas en el grupo}} = \frac{6}{12} = \frac{1}{2}$$

Escriba una fracción para cada uno de los modelos siguientes.



Partes de Un Grupo (E) Respuestas



En este grupo
hay 12 formas y
6 están rellenas.

$$\frac{6 \text{ formas rellenas}}{12 \text{ formas en el grupo}} = \frac{6}{12} = \frac{1}{2}$$

Escriba una fracción para cada uno de los modelos siguientes.

$$\frac{1}{3}$$

$$\frac{10}{15} = \frac{2}{3}$$

$$\frac{5}{15} = \frac{1}{3}$$

$$\frac{2}{3}$$

$$\frac{8}{12} = \frac{2}{3}$$

$$\frac{2}{6} = \frac{1}{3}$$

$$\frac{5}{10} = \frac{1}{2}$$

$$\frac{2}{4} = \frac{1}{2}$$