


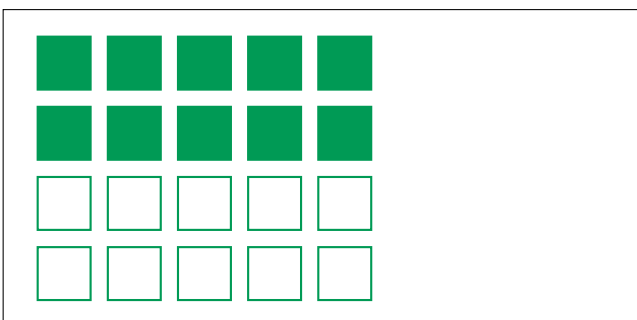
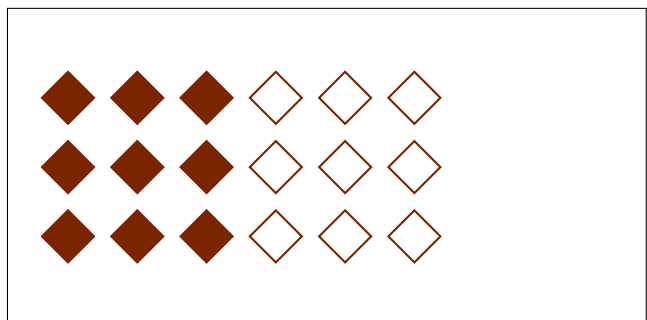

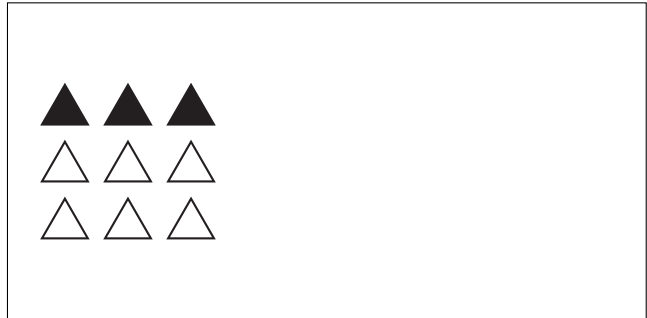
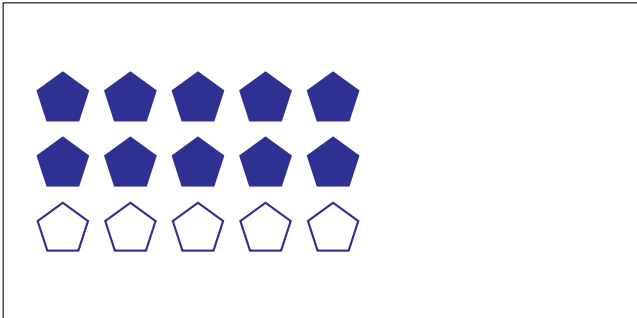
# Partes de Un Grupo (G)



En este grupo  
hay 3 formas y  
2 están rellenas.

$$\frac{2 \text{ formas rellenas}}{3 \text{ formas en el grupo}} = \frac{2}{3}$$

Escriba una fracción para cada uno de los modelos siguientes.



# Partes de Un Grupo (G) Respuestas



En este grupo  
hay 3 formas y  
2 están rellenas.

$$\frac{2 \text{ formas rellenas}}{3 \text{ formas en el grupo}} = \frac{2}{3}$$

Escriba una fracción para cada uno de los modelos siguientes.

$$\frac{10}{15} = \frac{2}{3}$$

$$\frac{3}{9} = \frac{1}{3}$$

$$\frac{8}{16} = \frac{1}{2}$$

$$\frac{12}{24} = \frac{1}{2}$$

$$\frac{4}{6} = \frac{2}{3}$$

$$\frac{9}{18} = \frac{1}{2}$$

$$\frac{10}{20} = \frac{1}{2}$$

$$\frac{2}{4} = \frac{1}{2}$$