

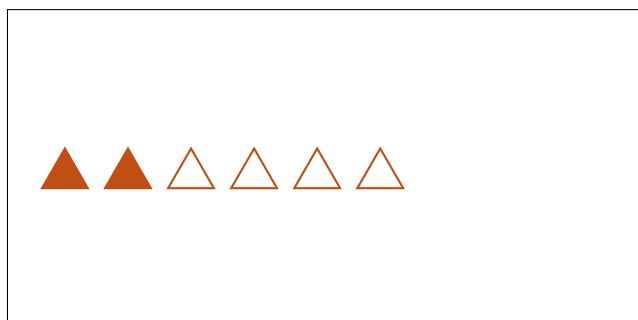


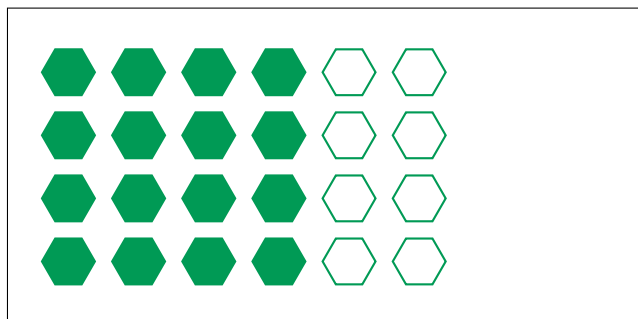

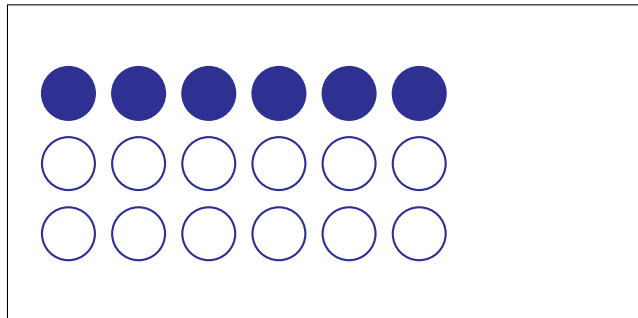
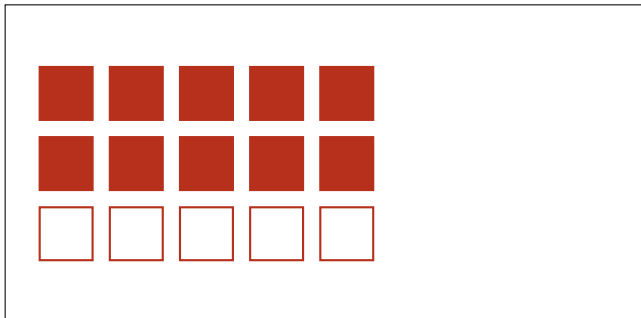
Partes de Un Grupo (H)



En este grupo
hay 3 formas y
1 está rellena.

$$\frac{1 \text{ forma rellena}}{3 \text{ formas en el grupo}} = \frac{1}{3}$$

Escriba una fracción para cada uno de los modelos siguientes.



Partes de Un Grupo (H) Respuestas



En este grupo hay 3 formas y 1 está rellena.

$$\frac{1 \text{ forma rellena}}{3 \text{ formas en el grupo}} = \frac{1}{3}$$

Escriba una fracción para cada uno de los modelos siguientes.

$$\frac{10}{15} = \frac{2}{3}$$

$$\frac{6}{18} = \frac{1}{3}$$

$$\frac{8}{24} = \frac{1}{3}$$

$$\frac{16}{24} = \frac{2}{3}$$

$$\frac{4}{8} = \frac{1}{2}$$

$$\frac{3}{9} = \frac{1}{3}$$

$$\frac{6}{12} = \frac{1}{2}$$

$$\frac{2}{6} = \frac{1}{3}$$