


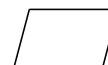
Clasificar Cuadriláteros (G)

Identifique cada cuadrilátero.























Clasificar Cuadriláteros (G) Respuesta

Identifique cada cuadrilátero.



cuadrado



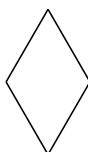
paralelogramo




rectángulo



paralelogramo



rombo



rectángulo



cuadrado



paralelogramo



cuadrado



rectángulo