






Mediatrices Perpendiculares (C)

Nombre: _____

Fecha: _____

Dibuje la mediatriz perpendicular de cada segmento.



Mediatrices Perpendiculares (C) Respuestas

Nombre: _____

Fecha: _____

Dibuje la mediatriz perpendicular de cada segmento.

