






Mediatrices Perpendiculares (H)

Nombre: _____

Fecha: _____

Dibuje la mediatriz perpendicular de cada segmento.



Mediatrices Perpendiculares (H) Respuestas

Nombre: _____

Fecha: _____

Dibuje la mediatriz perpendicular de cada segmento.

