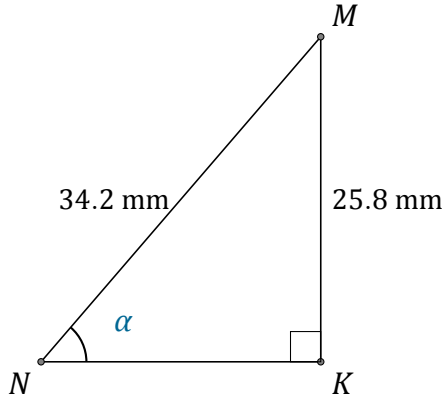


# Funciones Trigonómicas (G)

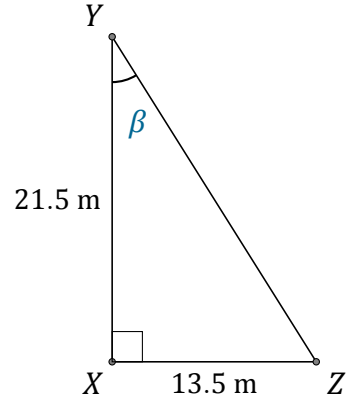
Nombre: \_\_\_\_\_

Fecha: \_\_\_\_\_

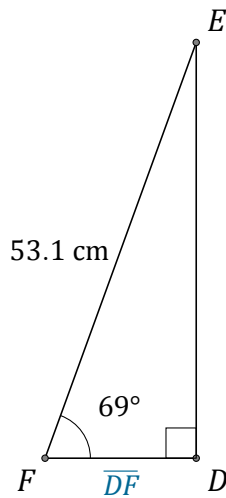
Calcule los valores de los ángulos y lados usando funciones trigonométricas



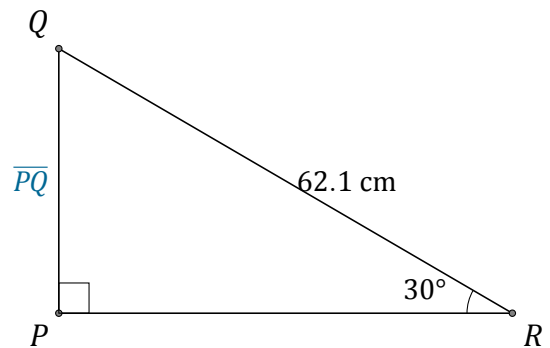
$$\alpha = \angle KNM = \underline{\hspace{2cm}}$$



$$\beta = \angle XYZ = \underline{\hspace{2cm}}$$



$$\overline{DF} = \underline{\hspace{2cm}}$$



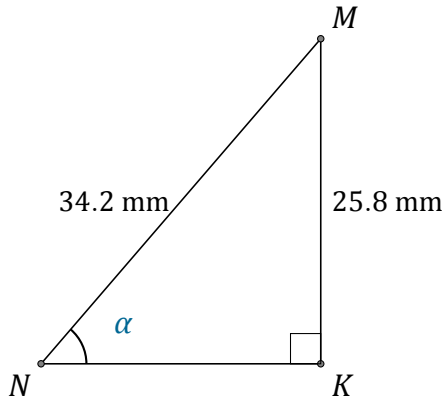
$$\overline{PQ} = \underline{\hspace{2cm}}$$

# Funciones Trigonómicas (G) Respuestas

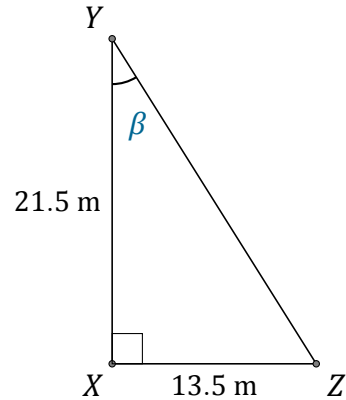
Nombre: \_\_\_\_\_

Fecha: \_\_\_\_\_

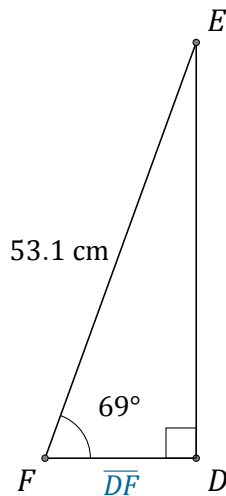
Calcule los valores de los ángulos y lados usando funciones trigonométricas



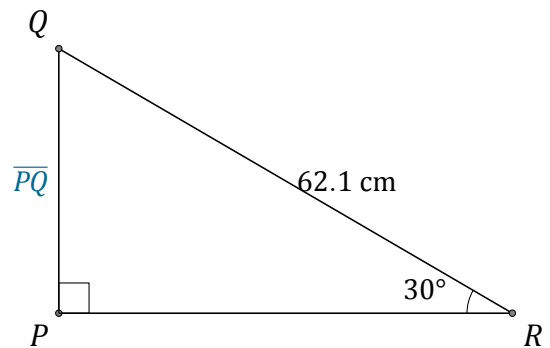
$$\alpha = \angle KNM = \underline{49^\circ}$$



$$\beta = \angle XYZ = \underline{32.1^\circ}$$



$$\overline{DF} = \underline{19 \text{ cm}}$$



$$\overline{PQ} = \underline{31.1 \text{ cm}}$$