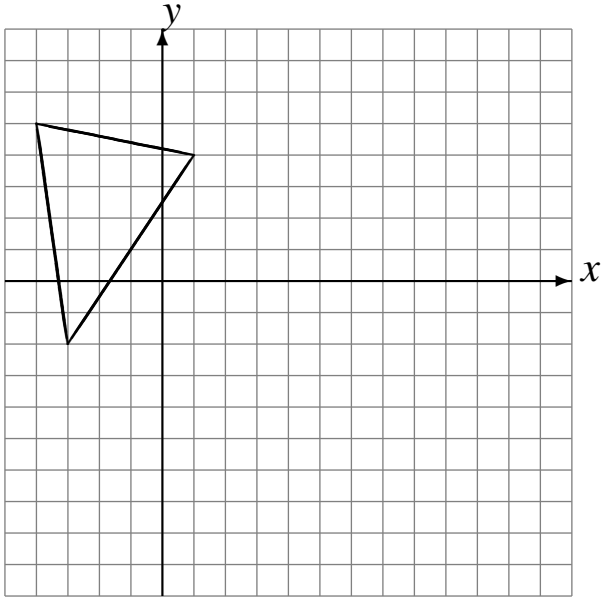


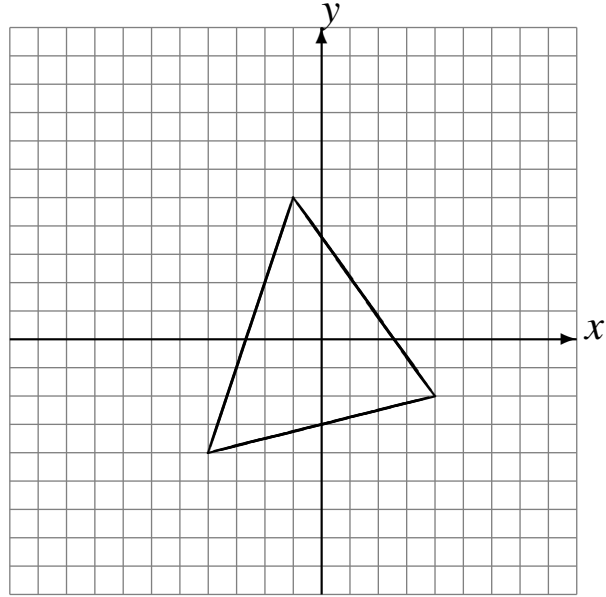
# Reflexiones (B)

Dibuje cada figura reflejada.

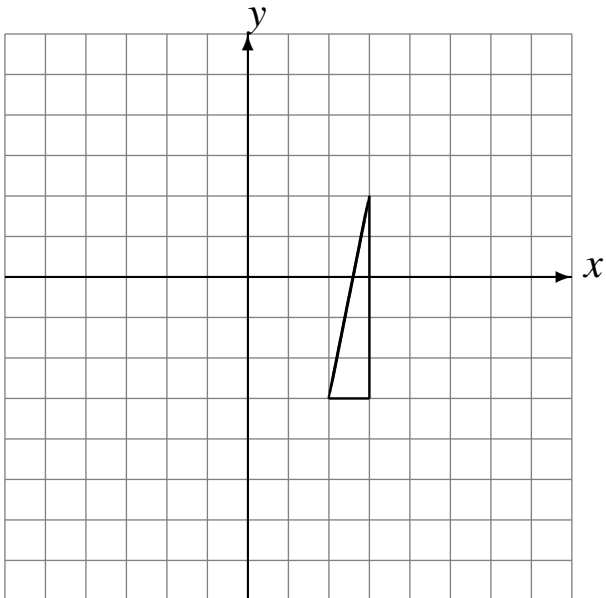
Refleje en  $y = -2$ .  
Refleje en  $y = -1$ .  
Refleje en  $x = 4$ .



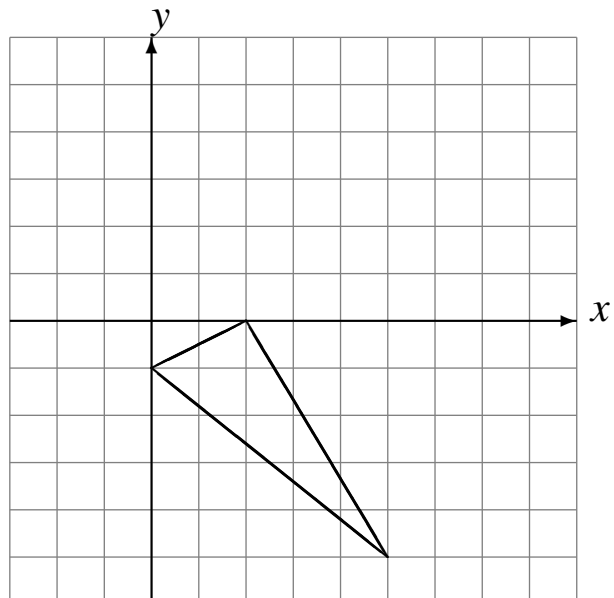
Refleje en  $x = 1$ .  
Refleje en  $x = 3$ .  
Refleje en  $x = -1$ .



Refleje en  $x = -1$ .  
Refleje en  $y = -1$ .  
Refleje en  $x = 1$ .



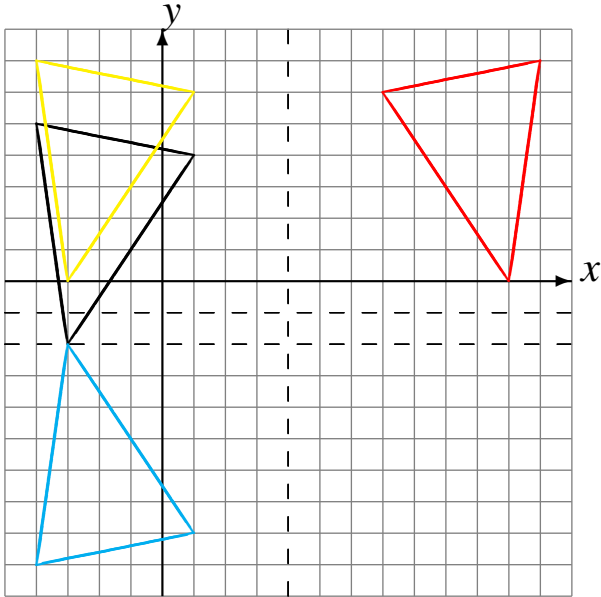
Refleje en  $y = -2$ .  
Refleje en  $y = 0$ .  
Refleje en  $y = 2$ .



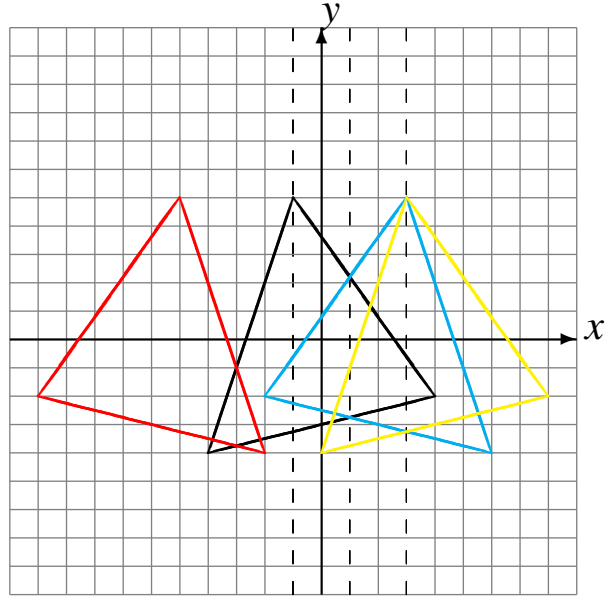
# Reflexiones (B) Respuestas

Dibuje cada figura reflejada.

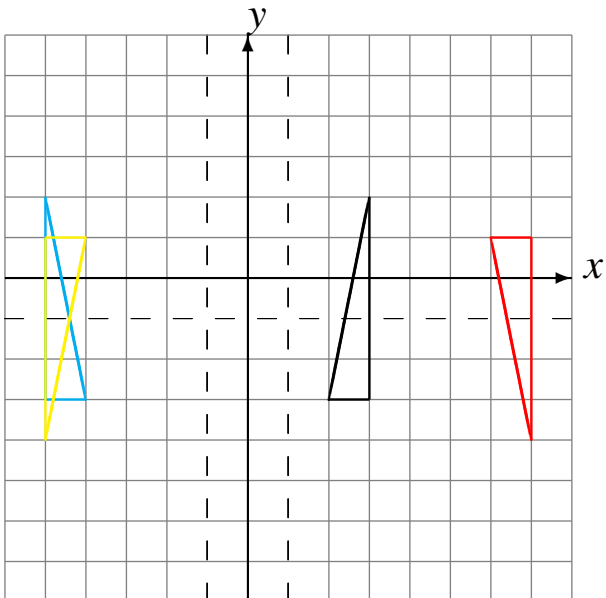
Refleje en  $y = -2$ .  
Refleje en  $y = -1$ .  
Refleje en  $x = 4$ .



Refleje en  $x = 1$ .  
Refleje en  $x = 3$ .  
Refleje en  $x = -1$ .



Refleje en  $x = -1$ .  
Refleje en  $y = -1$ .  
Refleje en  $x = 1$ .



Refleje en  $y = -2$ .  
Refleje en  $y = 0$ .  
Refleje en  $y = 2$ .

