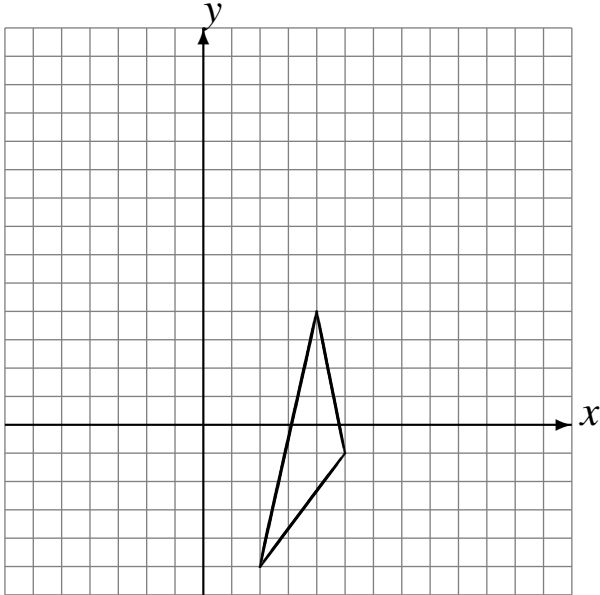


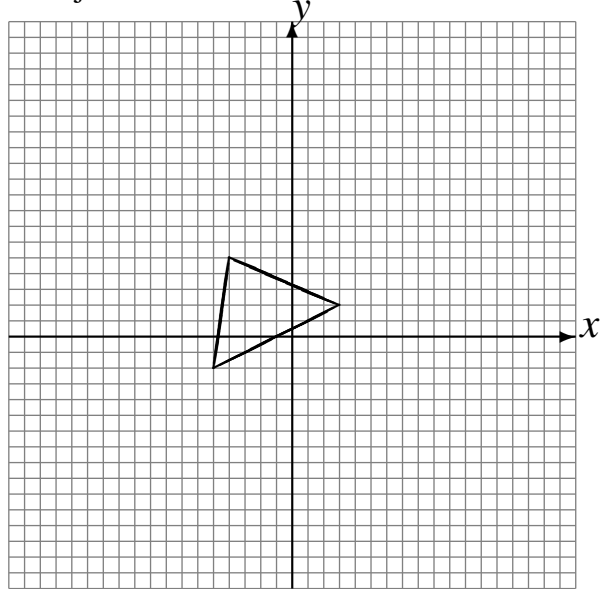
# Reflexiones (I)

Dibuje cada figura reflejada.

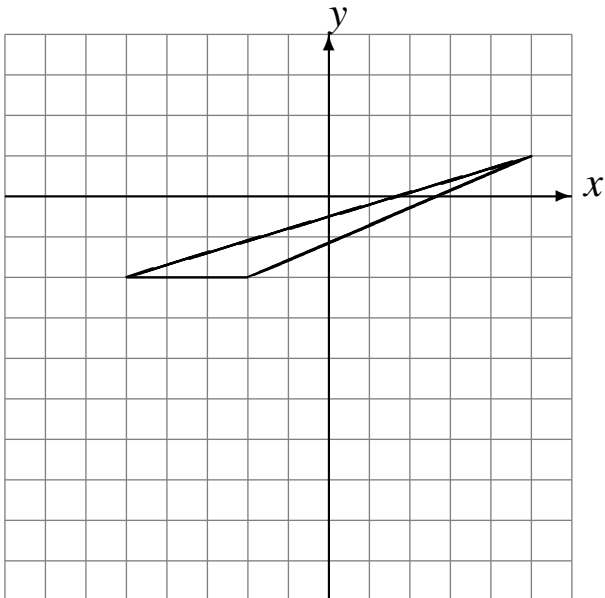
Refleje en  $x = 0$ .  
Refleje en  $x = 3$ .  
Refleje en  $y = 4$ .



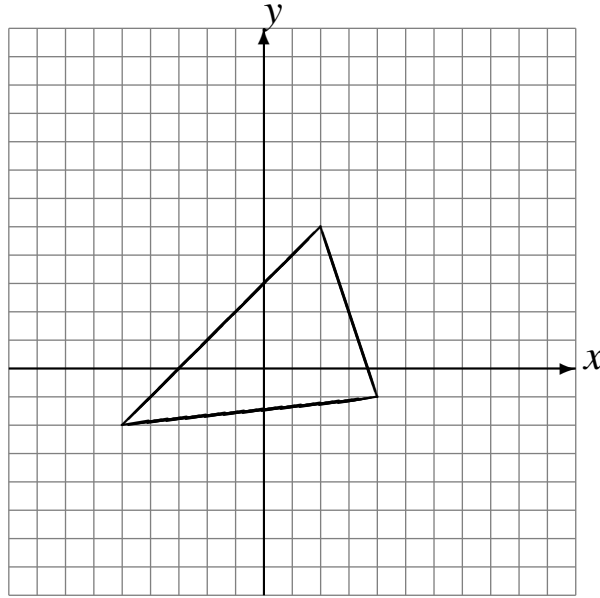
Refleje en  $x = 2$ .  
Refleje en  $x = -4$ .  
Refleje en  $x = 0$ .



Refleje en  $x = -1$ .  
Refleje en  $x = -1$ .  
Refleje en  $y = -3$ .



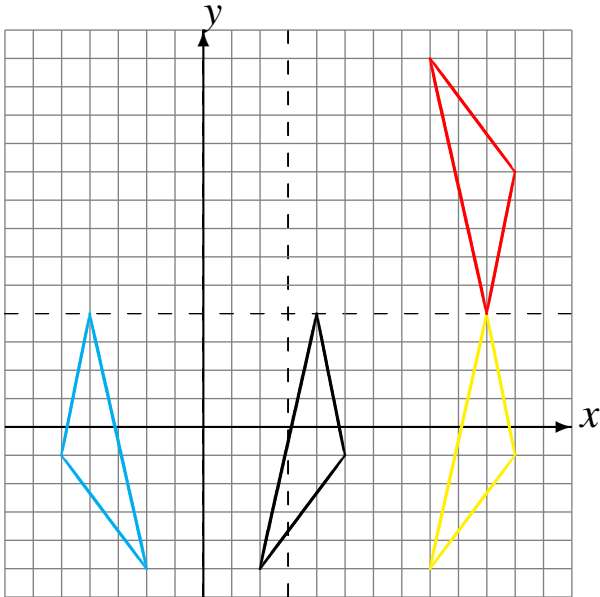
Refleje en  $x = -2$ .  
Refleje en  $x = 1$ .  
Refleje en  $x = 1$ .



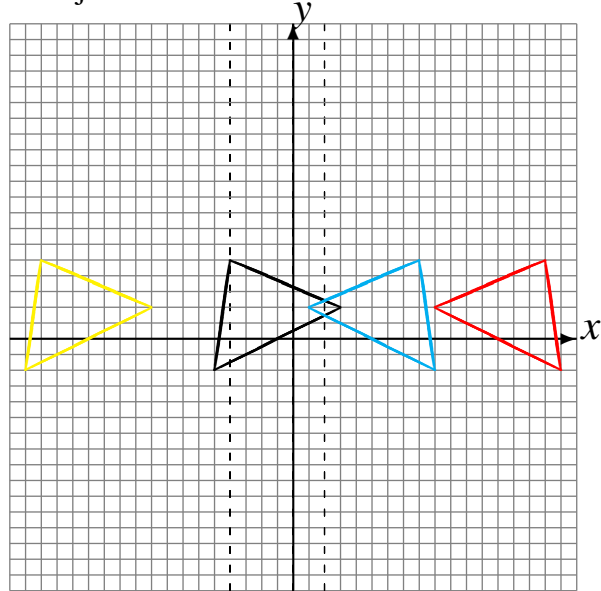
# Reflexiones (I) Respuestas

Dibuje cada figura reflejada.

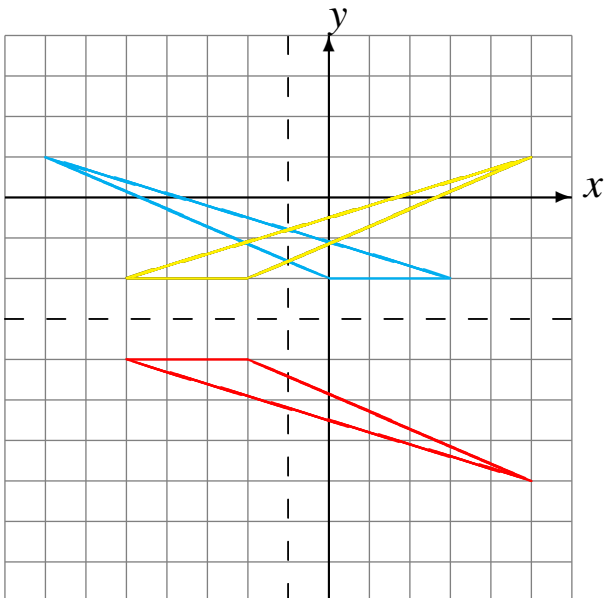
- Refleje en  $x = 0$ .
- Refleje en  $x = 3$ .
- Refleje en  $y = 4$ .



- Refleje en  $x = 2$ .
- Refleje en  $x = -4$ .
- Refleje en  $x = 0$ .



- Refleje en  $x = -1$ .
- Refleje en  $x = -1$ .
- Refleje en  $y = -3$ .



- Refleje en  $x = -2$ .
- Refleje en  $x = 1$ .
- Refleje en  $x = 1$ .

