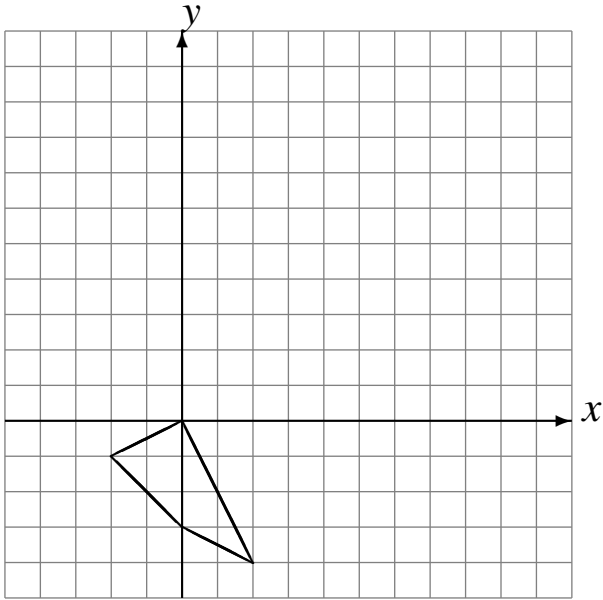


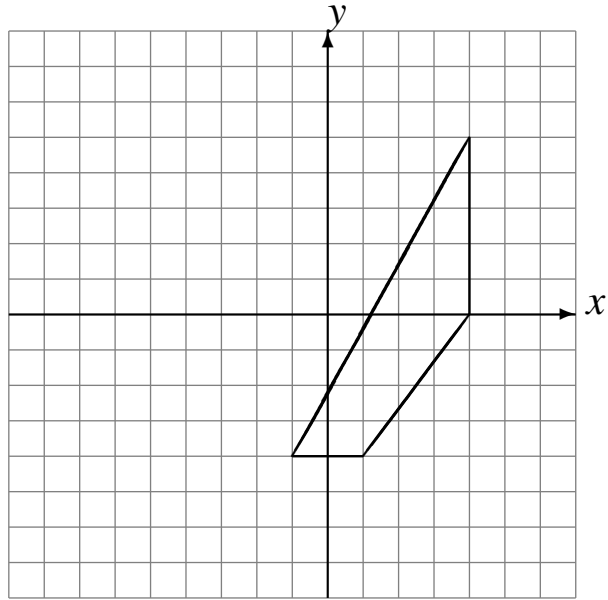
# Reflexiones (A)

Dibuje cada figura reflejada.

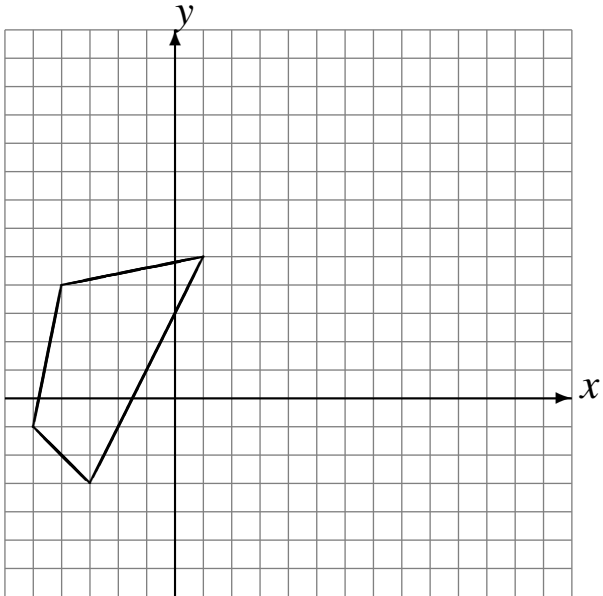
Refleje en  $y = 3$ .  
Refleje en  $x = 3$ .  
Refleje en  $x = 3$ .



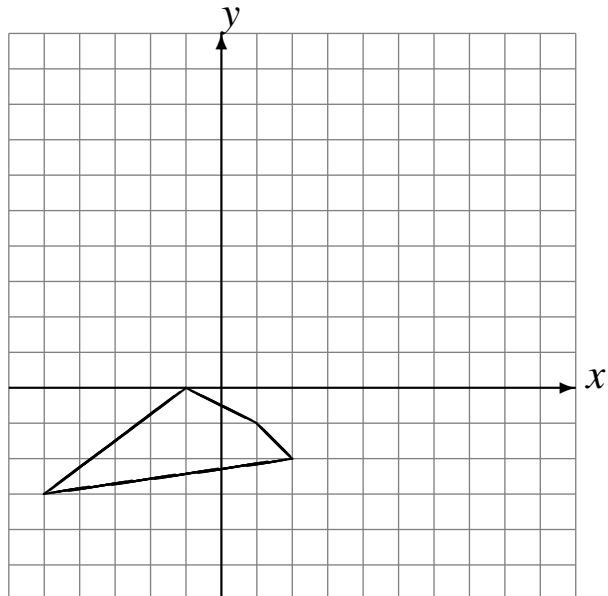
Refleje en  $x = -2$ .  
Refleje en  $y = 0$ .  
Refleje en  $x = -1$ .



Refleje en  $x = -2$ .  
Refleje en  $x = 4$ .  
Refleje en  $y = 3$ .



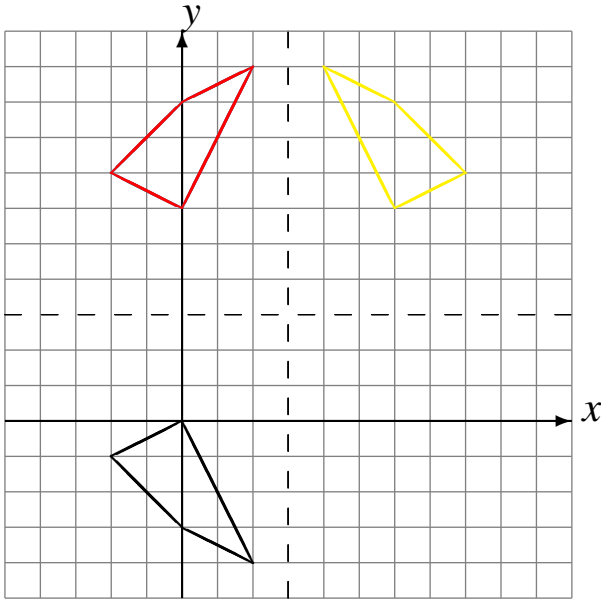
Refleje en  $y = 3$ .  
Refleje en  $x = 2$ .  
Refleje en  $y = 2$ .



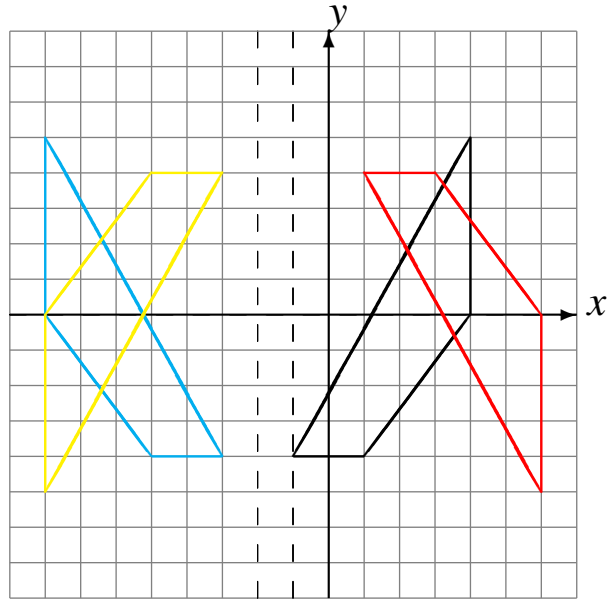
# Reflexiones (A) Respuestas

Dibuje cada figura reflejada.

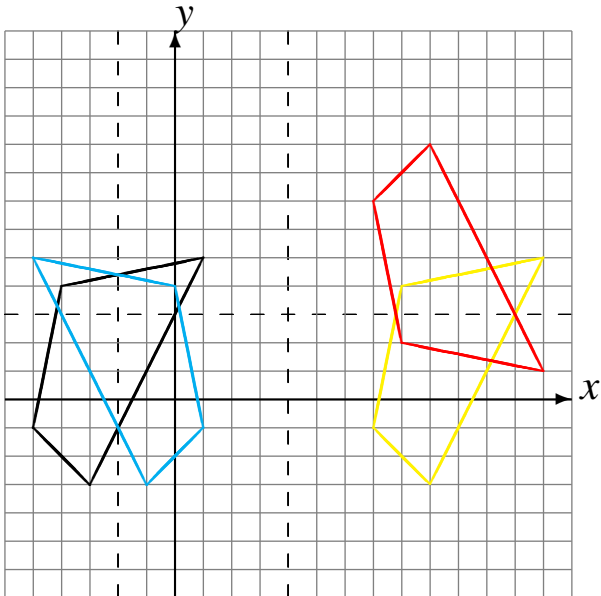
- Refleje en  $y = 3$ .
- Refleje en  $x = 3$ .
- Refleje en  $x = 3$ .



- Refleje en  $x = -2$ .
- Refleje en  $y = 0$ .
- Refleje en  $x = -1$ .



- Refleje en  $x = -2$ .
- Refleje en  $x = 4$ .
- Refleje en  $y = 3$ .



- Refleje en  $y = 3$ .
- Refleje en  $x = 2$ .
- Refleje en  $y = 2$ .

