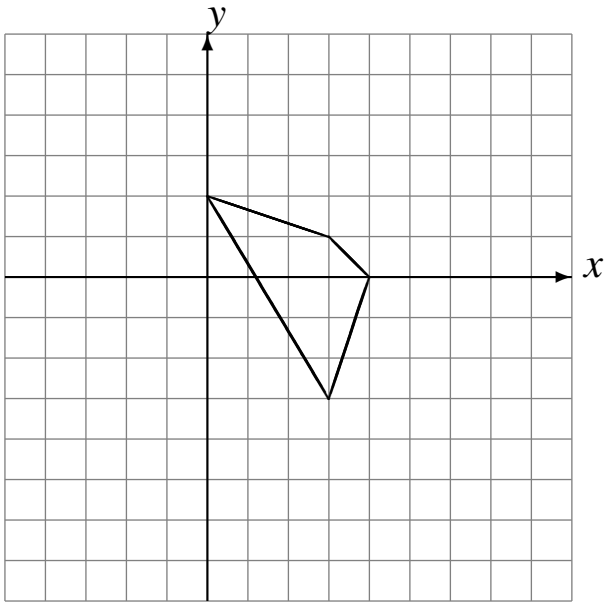


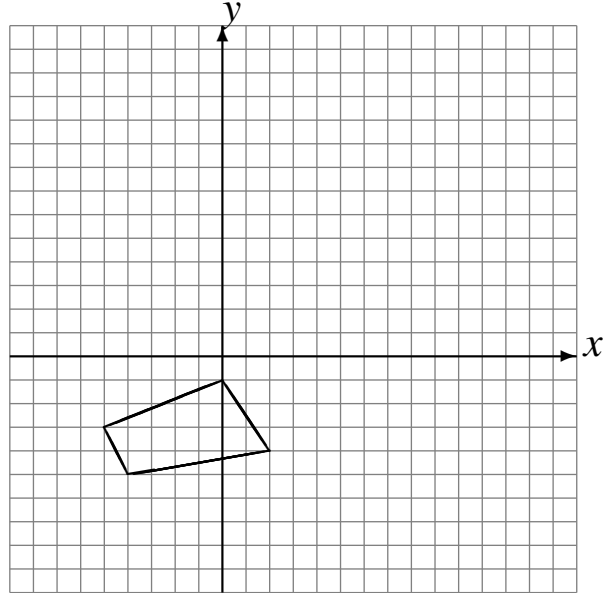
# Reflexiones (C)

Dibuje cada figura reflejada.

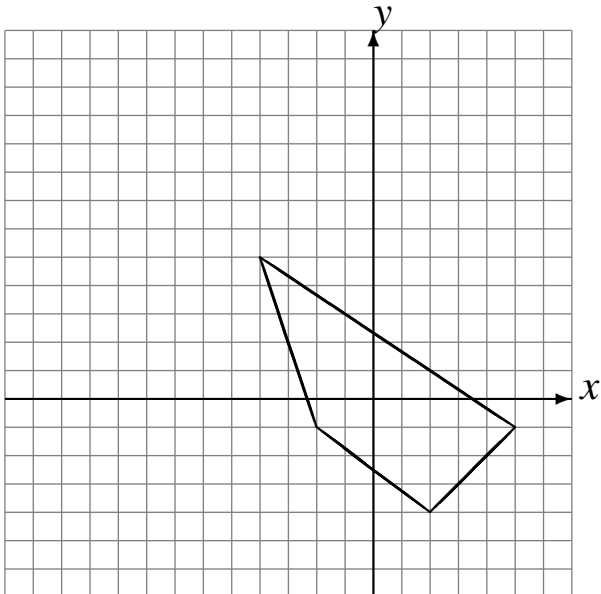
Refleje en  $y = 1$ .  
Refleje en  $y = -1$ .  
Refleje en  $y = -1$ .



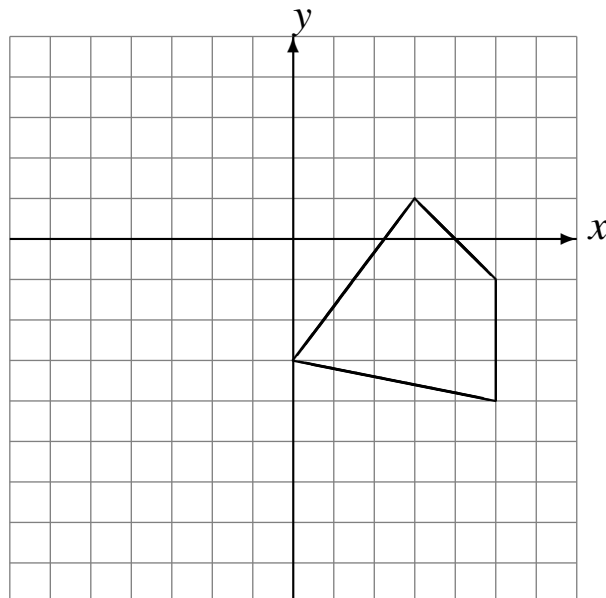
Refleje en  $x = 3$ .  
Refleje en  $y = 4$ .  
Refleje en  $y = 2$ .



Refleje en  $y = 3$ .  
Refleje en  $x = 1$ .  
Refleje en  $x = -3$ .



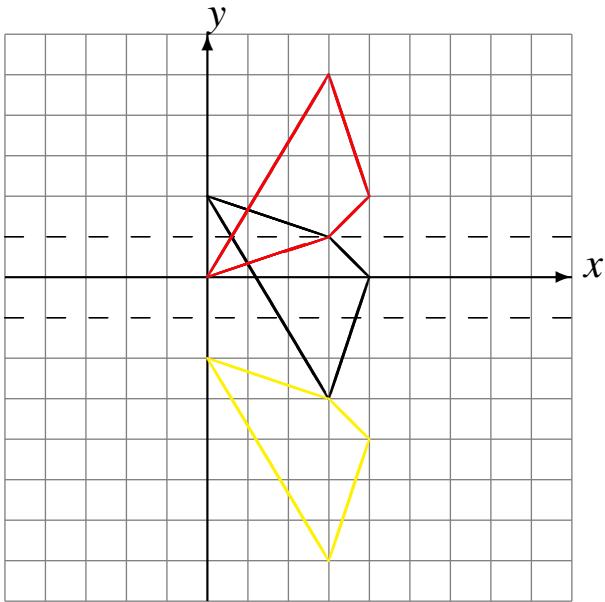
Refleje en  $x = 3$ .  
Refleje en  $x = 0$ .  
Refleje en  $y = -2$ .



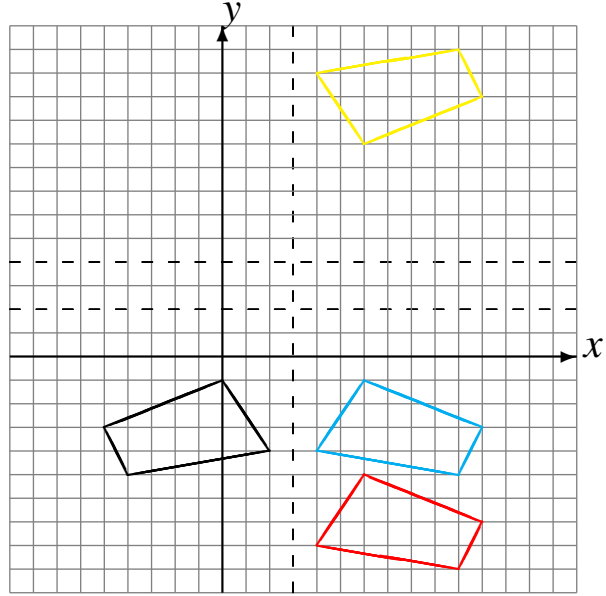
# Reflexiones (C) Respuestas

Dibuje cada figura reflejada.

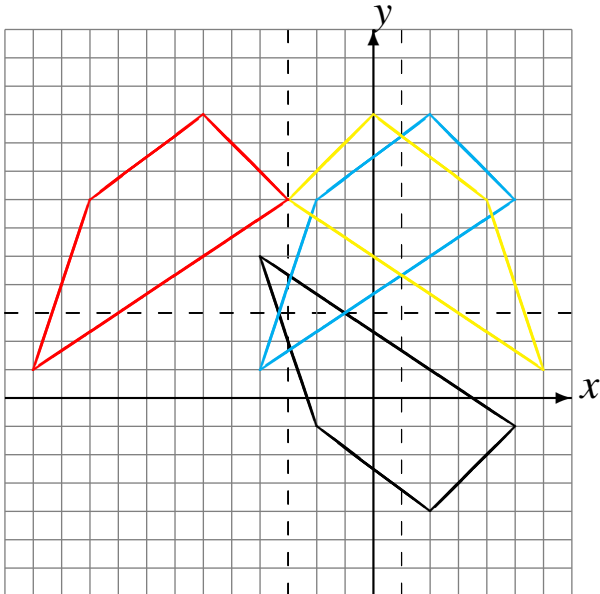
Refleje en  $y = 1$ .  
Refleje en  $y = -1$ .  
Refleje en  $y = -1$ .



Refleje en  $x = 3$ .  
Refleje en  $y = 4$ .  
Refleje en  $y = 2$ .



Refleje en  $y = 3$ .  
Refleje en  $x = 1$ .  
Refleje en  $x = -3$ .



Refleje en  $x = 3$ .  
Refleje en  $x = 0$ .  
Refleje en  $y = -2$ .

