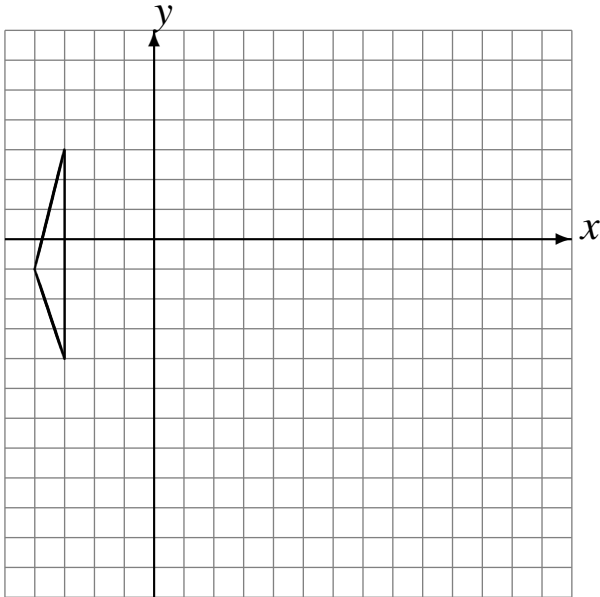


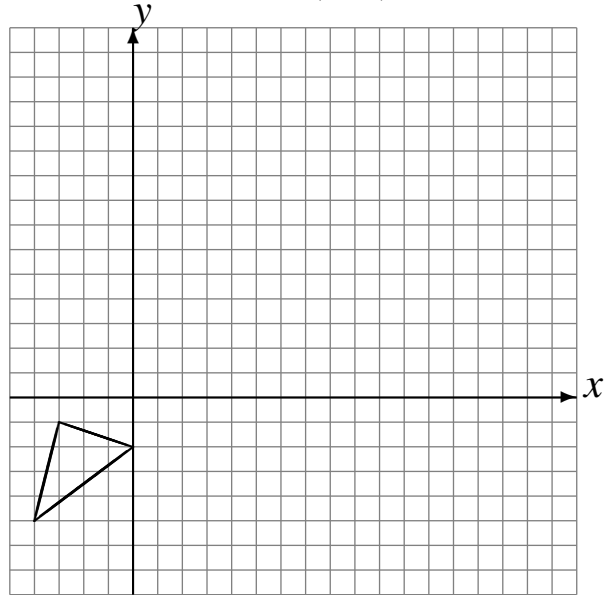
# Rotaciones (I)

Dibuje cada figura rotada.

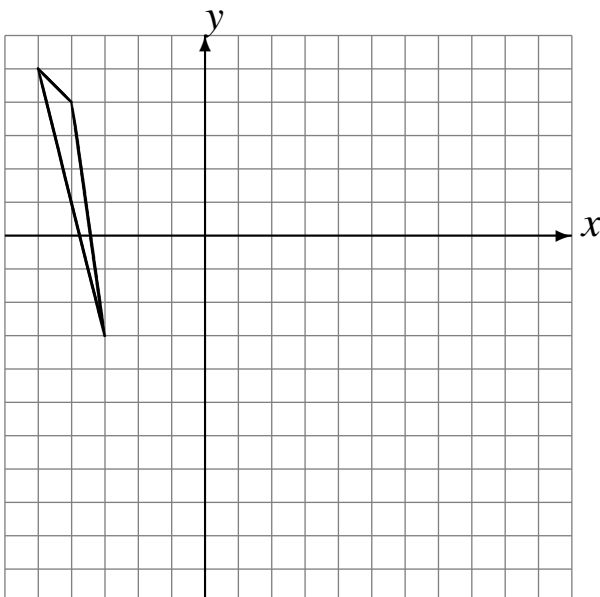
Rote  $180^\circ$  alrededor de  $(-1, -3)$ .  
Rote  $90^\circ$  alrededor de  $(1, 3)$ .



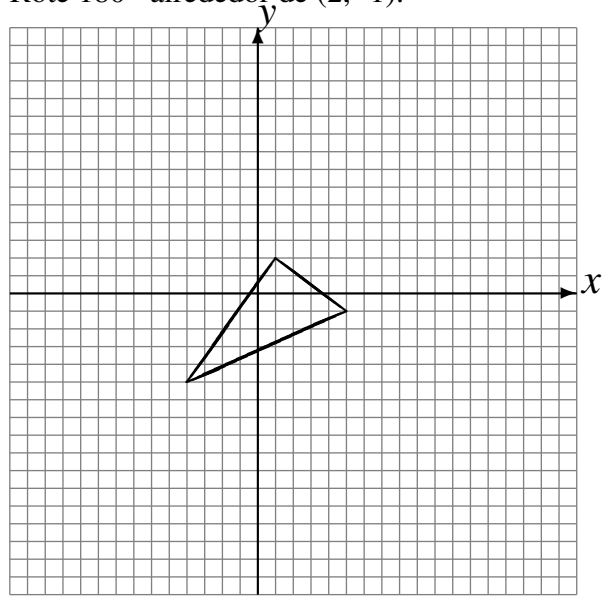
Rote  $-90^\circ$  alrededor de  $(4, 3)$ .  
Rote  $-90^\circ$  alrededor de  $(4, -2)$ .



Rote  $-90^\circ$  alrededor de  $(-2, -1)$ .  
Rote  $180^\circ$  alrededor de  $(3, -4)$ .



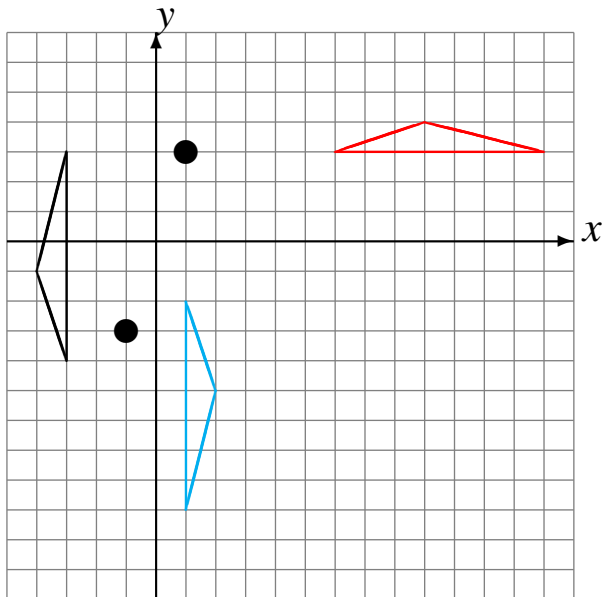
Rote  $180^\circ$  alrededor de  $(-4, 3)$ .  
Rote  $180^\circ$  alrededor de  $(2, -1)$ .



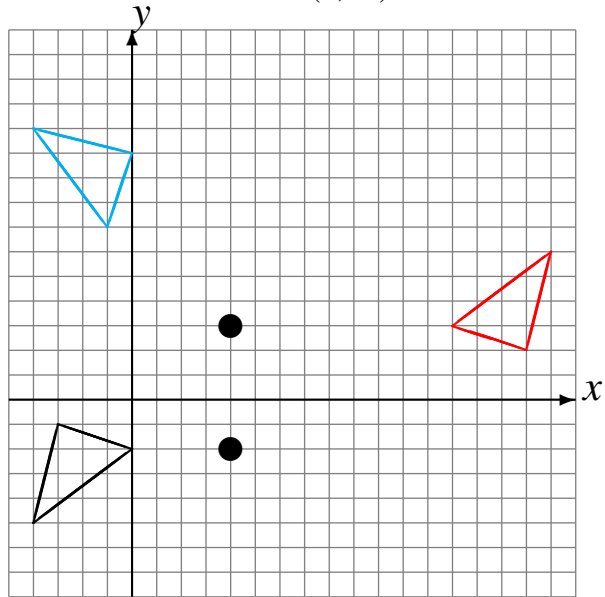
# Rotaciones (I) Respuestas

Dibuje cada figura rotada.

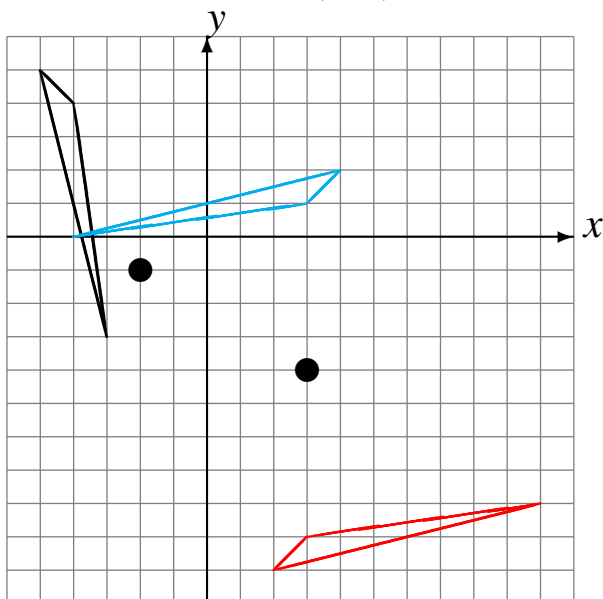
Rote  $180^\circ$  alrededor de  $(-1, -3)$ .  
Rote  $90^\circ$  alrededor de  $(1, 3)$ .



Rote  $-90^\circ$  alrededor de  $(4, 3)$ .  
Rote  $-90^\circ$  alrededor de  $(4, -2)$ .



Rote  $-90^\circ$  alrededor de  $(-2, -1)$ .  
Rote  $180^\circ$  alrededor de  $(3, -4)$ .



Rote  $180^\circ$  alrededor de  $(-4, 3)$ .  
Rote  $180^\circ$  alrededor de  $(2, -1)$ .

