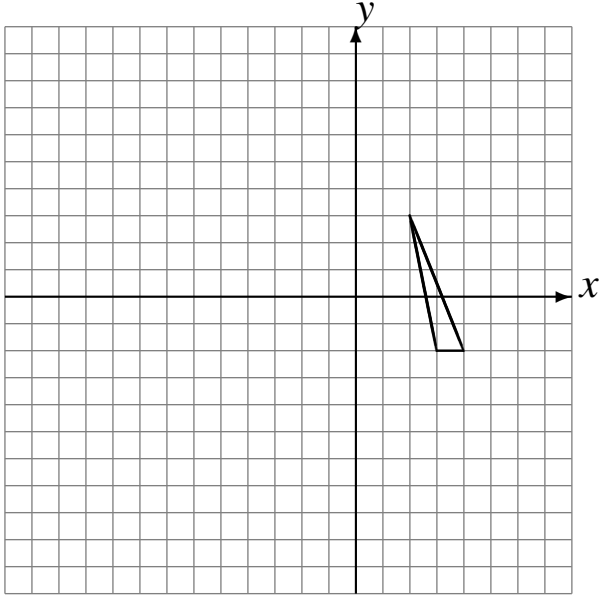


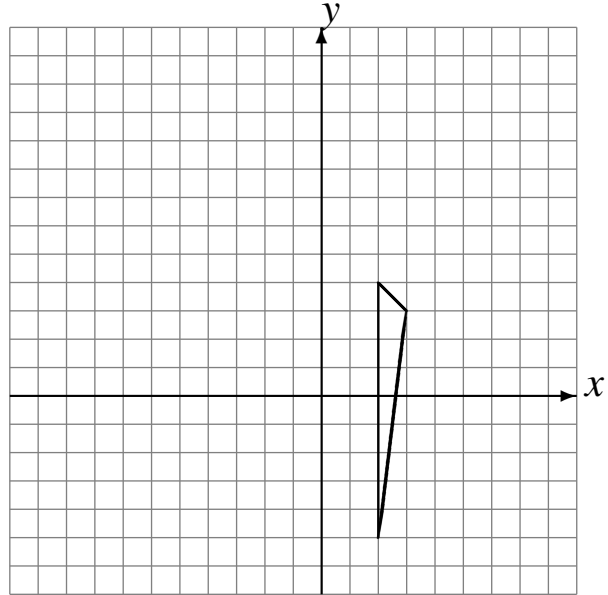
Rotaciones (E)

Dibuje cada figura rotada.

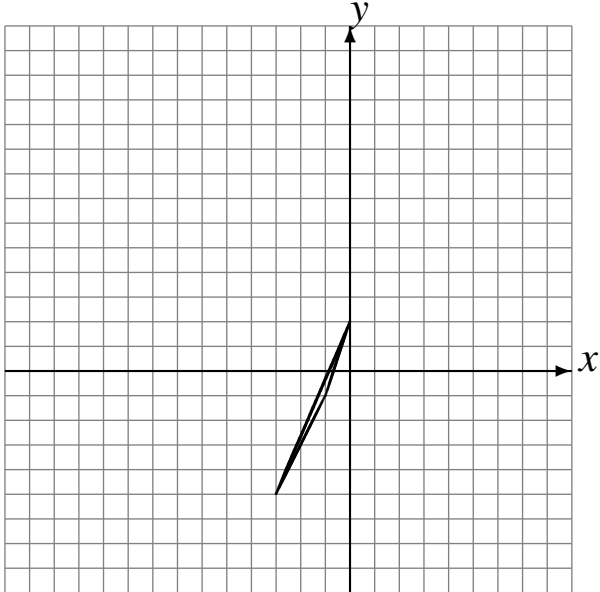
- Rote 90° alrededor de $(3, 2)$.
- Rote 180° alrededor de $(4, 3)$.
- Rote 180° alrededor de $(-3, -1)$.



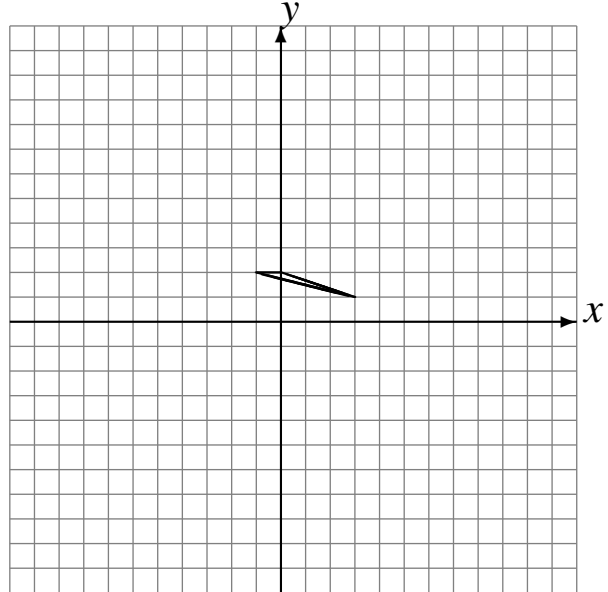
- Rote 90° alrededor de $(-2, -3)$.
- Rote -90° alrededor de $(4, -2)$.
- Rote 90° alrededor de $(-1, 2)$.



- Rote 90° alrededor de $(3, -2)$.
- Rote 90° alrededor de $(-4, 3)$.
- Rote 90° alrededor de $(0, 1)$.



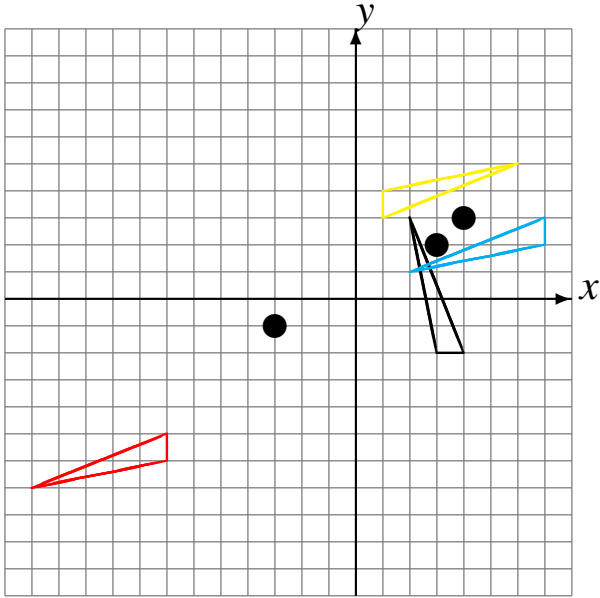
- Rote 180° alrededor de $(3, -4)$.
- Rote 180° alrededor de $(0, -4)$.
- Rote -90° alrededor de $(4, 0)$.



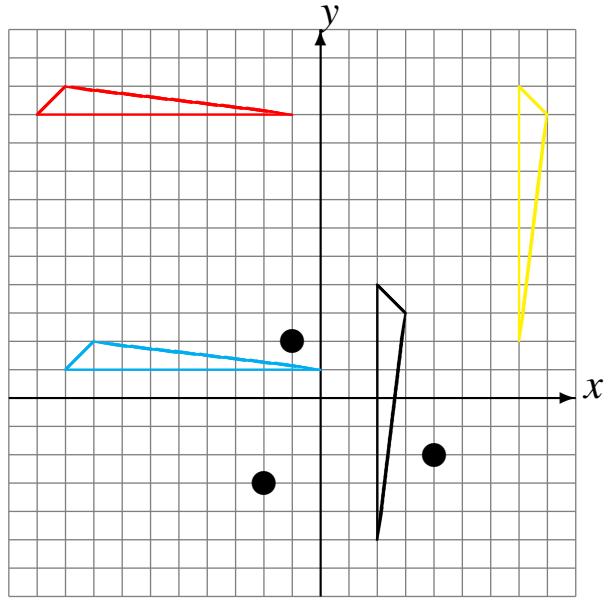
Rotaciones (E) Respuestas

Dibuje cada figura rotada.

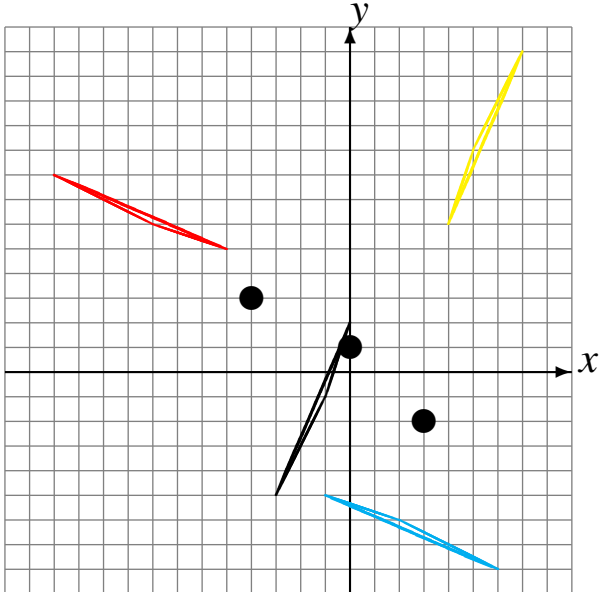
Rote 90° alrededor de $(3, 2)$.
 Rote 180° alrededor de $(4, 3)$.
 Rote 180° alrededor de $(-3, -1)$.



Rote 90° alrededor de $(-2, -3)$.
 Rote -90° alrededor de $(4, -2)$.
 Rote 90° alrededor de $(-1, 2)$.



Rote 90° alrededor de $(3, -2)$.
 Rote 90° alrededor de $(-4, 3)$.
 Rote 90° alrededor de $(0, 1)$.



Rote 180° alrededor de $(3, -4)$.
 Rote 180° alrededor de $(0, -4)$.
 Rote -90° alrededor de $(4, 0)$.

