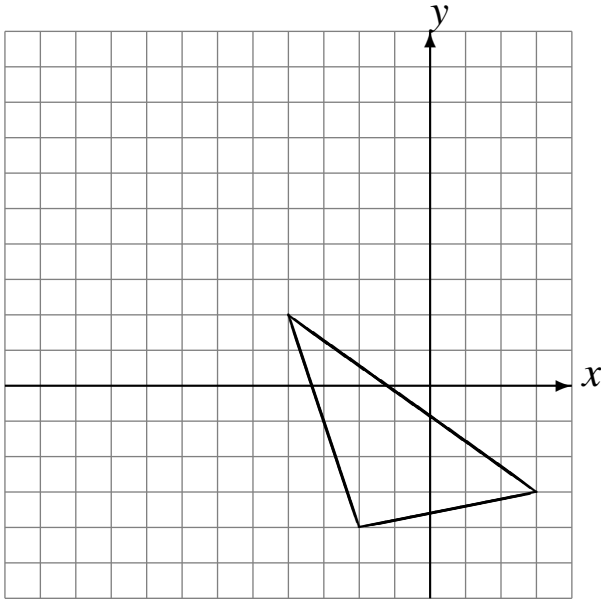


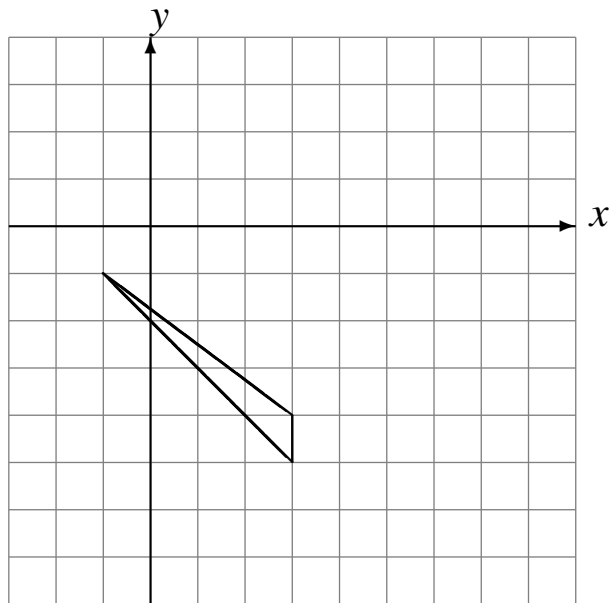
Rotaciones (F)

Dibuje cada figura rotada.

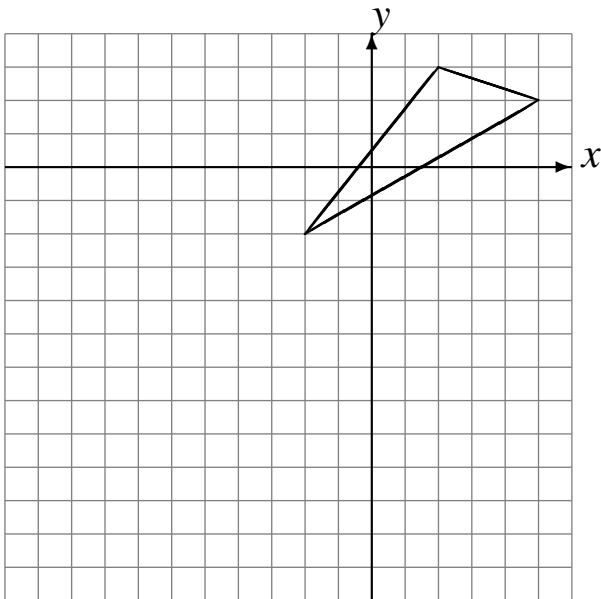
Rote 180° alrededor de $(-4, 2)$.
Rote 180° alrededor de $(-4, 2)$.
Rote 90° alrededor de $(-4, -2)$.



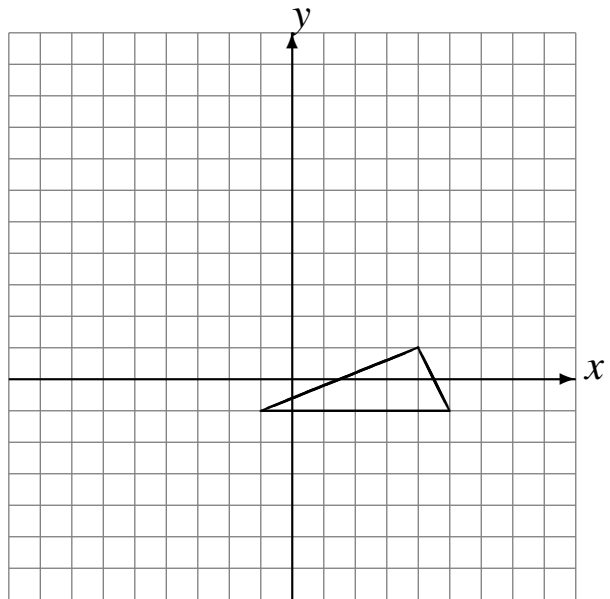
Rote -90° alrededor de $(4, -2)$.
Rote 180° alrededor de $(2, -2)$.
Rote 90° alrededor de $(0, -1)$.



Rote -90° alrededor de $(-3, -2)$.
Rote 180° alrededor de $(-4, -4)$.
Rote 90° alrededor de $(0, -2)$.



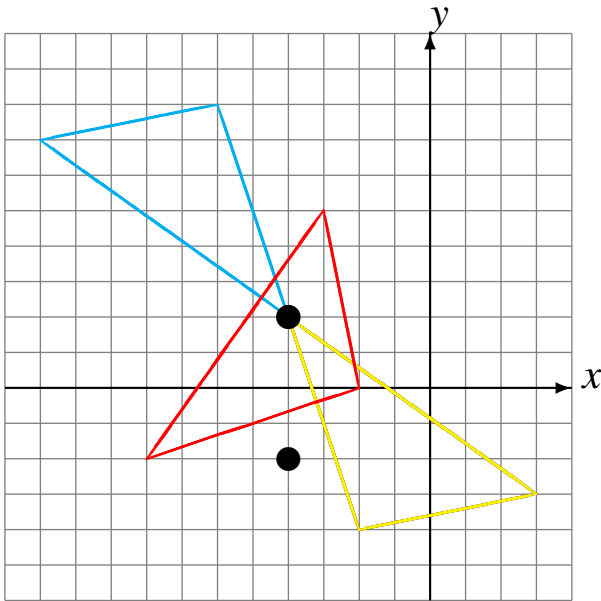
Rote 180° alrededor de $(0, 0)$.
Rote -90° alrededor de $(-1, -4)$.
Rote 180° alrededor de $(3, 2)$.



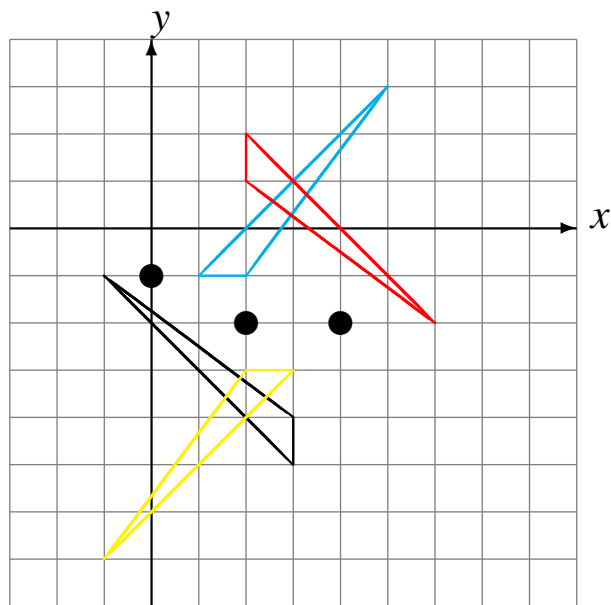
Rotaciones (F) Respuestas

Dibuje cada figura rotada.

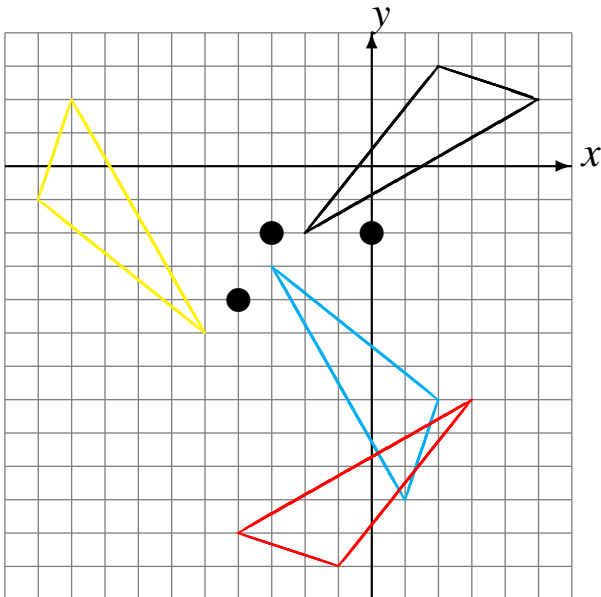
Rote 180° alrededor de $(-4, 2)$.
 Rote 180° alrededor de $(-4, 2)$.
 Rote 90° alrededor de $(-4, -2)$.



Rote -90° alrededor de $(4, -2)$.
 Rote 180° alrededor de $(2, -2)$.
 Rote 90° alrededor de $(0, -1)$.



Rote -90° alrededor de $(-3, -2)$.
 Rote 180° alrededor de $(-4, -4)$.
 Rote 90° alrededor de $(0, -2)$.



Rote 180° alrededor de $(0, 0)$.
 Rote -90° alrededor de $(-1, -4)$.
 Rote 180° alrededor de $(3, 2)$.

