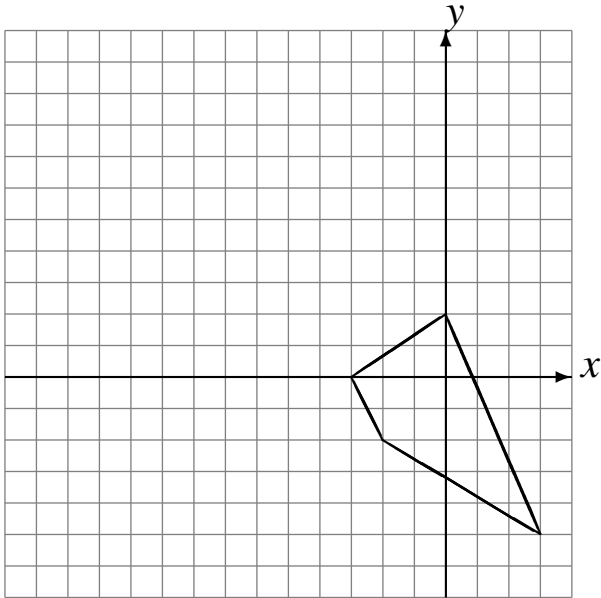


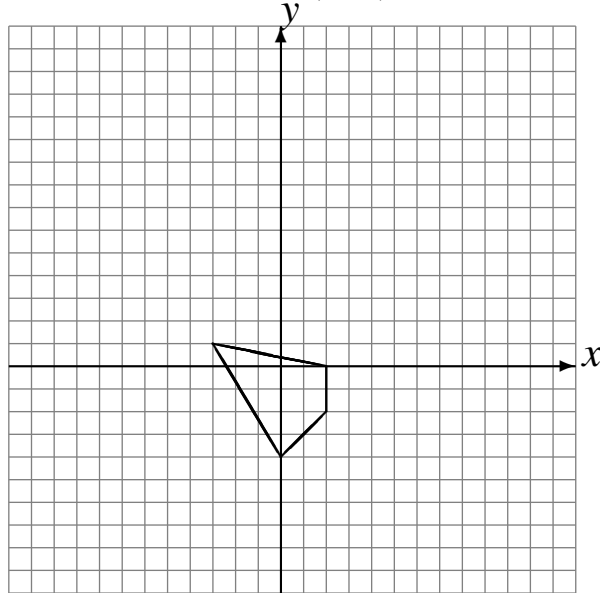
## Rotaciones (B)

Dibuje cada figura rotada.

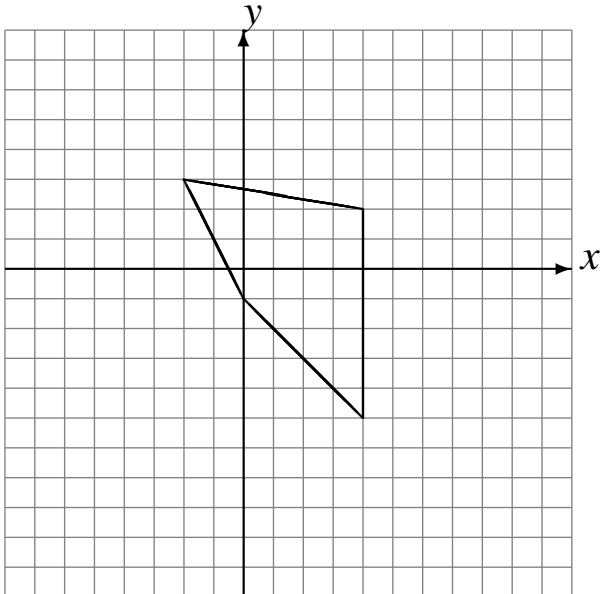
Rote  $-90^\circ$  alrededor de  $(1, 4)$ .  
Rote  $90^\circ$  alrededor de  $(-4, -1)$ .  
Rote  $-90^\circ$  alrededor de  $(-2, -3)$ .



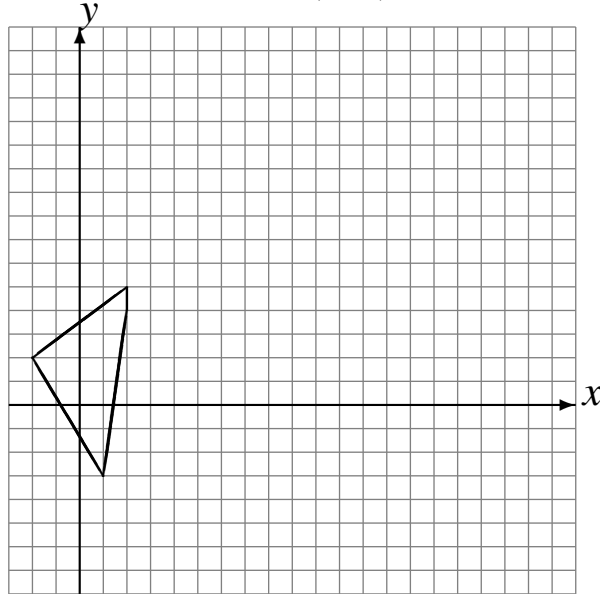
Rote  $-90^\circ$  alrededor de  $(1, -3)$ .  
Rote  $180^\circ$  alrededor de  $(-3, 1)$ .  
Rote  $-90^\circ$  alrededor de  $(2, -4)$ .



Rote  $-90^\circ$  alrededor de  $(-3, -3)$ .  
Rote  $180^\circ$  alrededor de  $(0, -3)$ .  
Rote  $-90^\circ$  alrededor de  $(4, 0)$ .



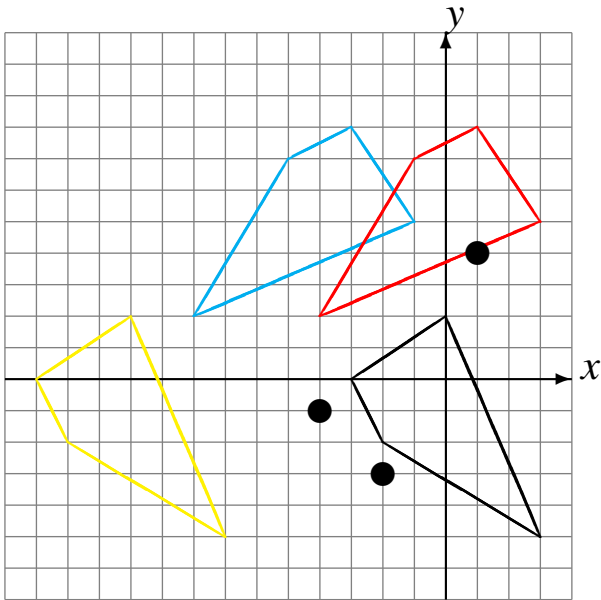
Rote  $-90^\circ$  alrededor de  $(2, -1)$ .  
Rote  $90^\circ$  alrededor de  $(-1, 4)$ .  
Rote  $-90^\circ$  alrededor de  $(3, -4)$ .



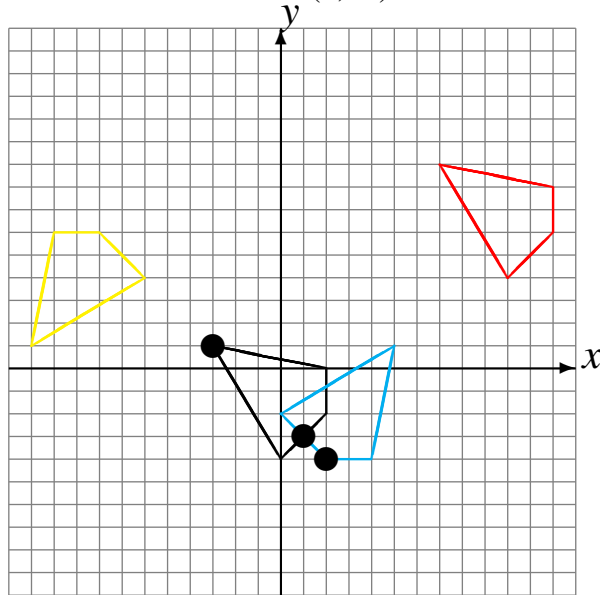
# Rotaciones (B) Respuestas

Dibuje cada figura rotada.

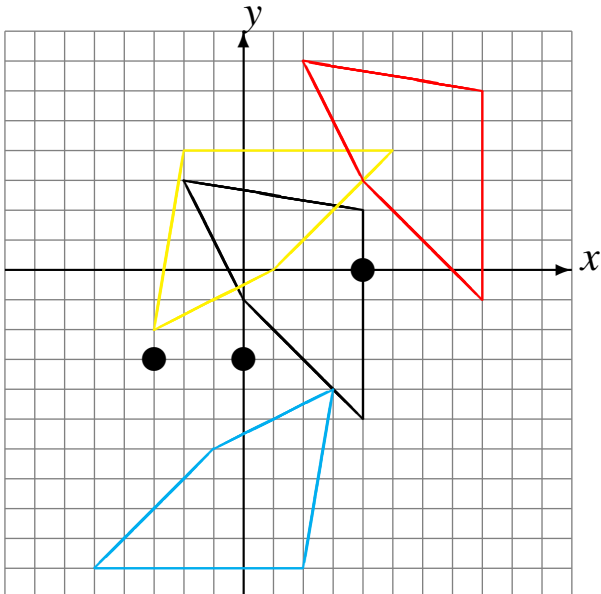
Rote  $-90^\circ$  alrededor de  $(1, 4)$ .  
 Rote  $90^\circ$  alrededor de  $(-4, -1)$ .  
 Rote  $-90^\circ$  alrededor de  $(-2, -3)$ .



Rote  $-90^\circ$  alrededor de  $(1, -3)$ .  
 Rote  $180^\circ$  alrededor de  $(-3, 1)$ .  
 Rote  $-90^\circ$  alrededor de  $(2, -4)$ .



Rote  $-90^\circ$  alrededor de  $(-3, -3)$ .  
 Rote  $180^\circ$  alrededor de  $(0, -3)$ .  
 Rote  $-90^\circ$  alrededor de  $(4, 0)$ .



Rote  $-90^\circ$  alrededor de  $(2, -1)$ .  
 Rote  $90^\circ$  alrededor de  $(-1, 4)$ .  
 Rote  $-90^\circ$  alrededor de  $(3, -4)$ .

