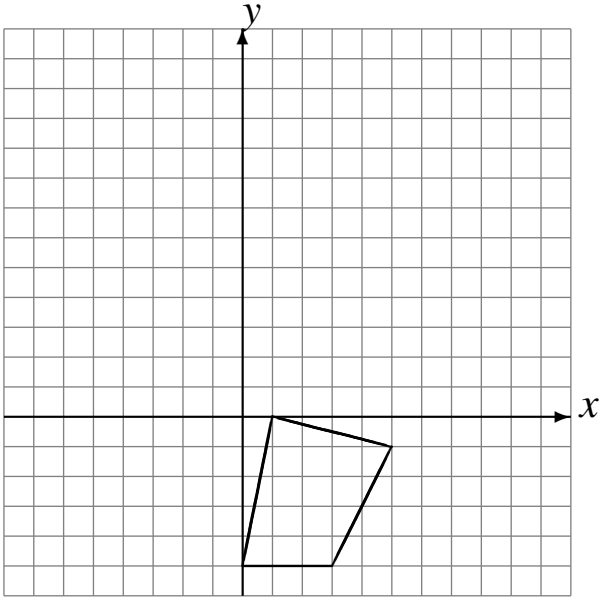


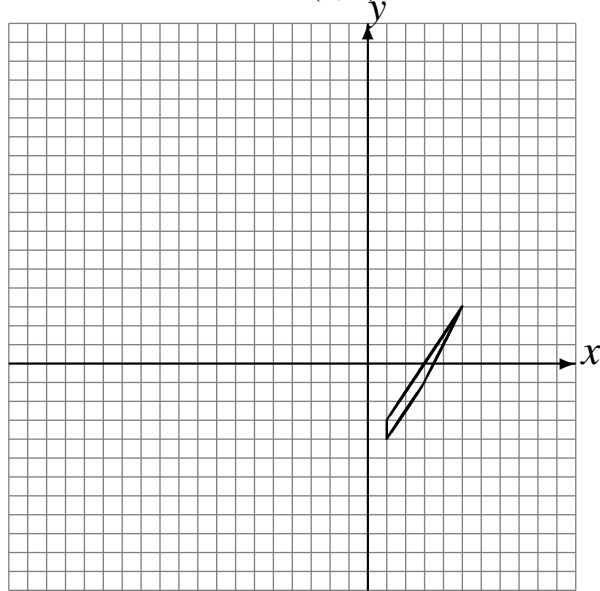
Rotaciones (I)

Dibuje cada figura rotada.

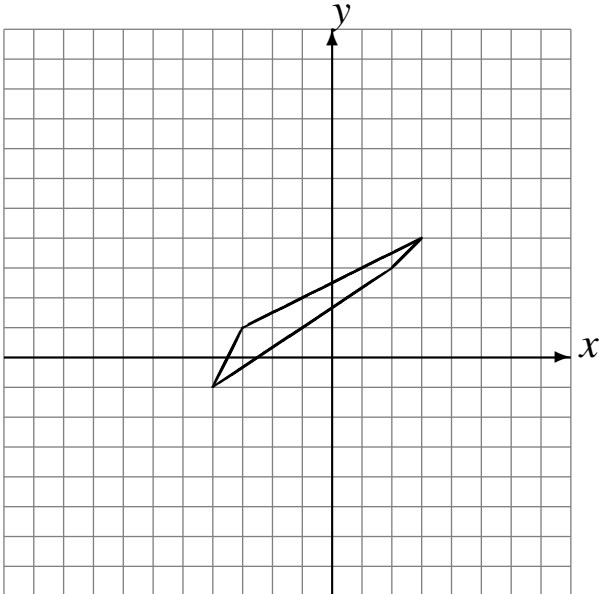
Rote 180° alrededor de $(-1, 0)$.
Rote -90° alrededor de $(-2, 3)$.
Rote -90° alrededor de $(4, 2)$.



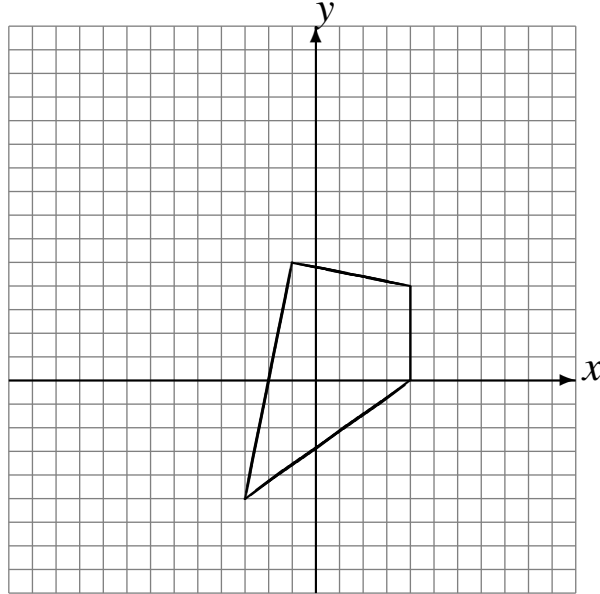
Rote 180° alrededor de $(2, -4)$.
Rote -90° alrededor de $(-1, 2)$.
Rote -90° alrededor de $(0, 3)$.



Rote 90° alrededor de $(-3, 4)$.
Rote 90° alrededor de $(3, 0)$.
Rote -90° alrededor de $(-4, -3)$.



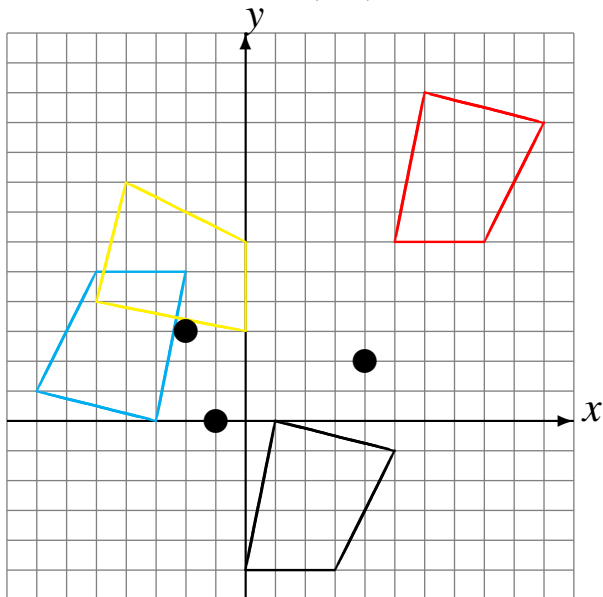
Rote 90° alrededor de $(0, -3)$.
Rote 180° alrededor de $(1, 3)$.
Rote 180° alrededor de $(-1, 3)$.



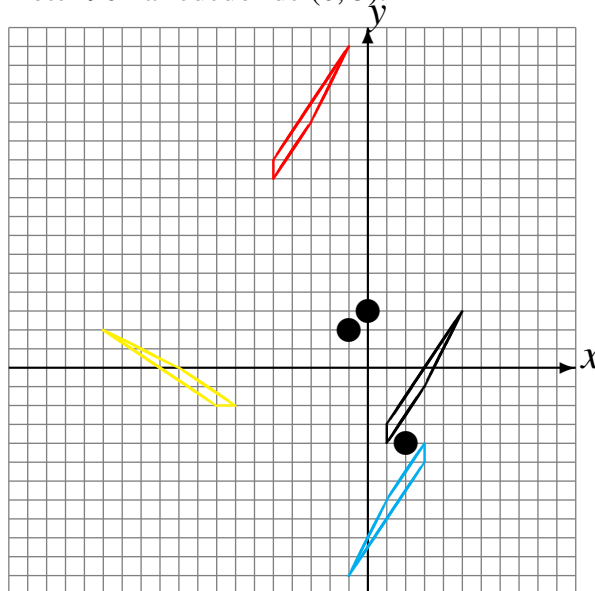
Rotaciones (I) Respuestas

Dibuje cada figura rotada.

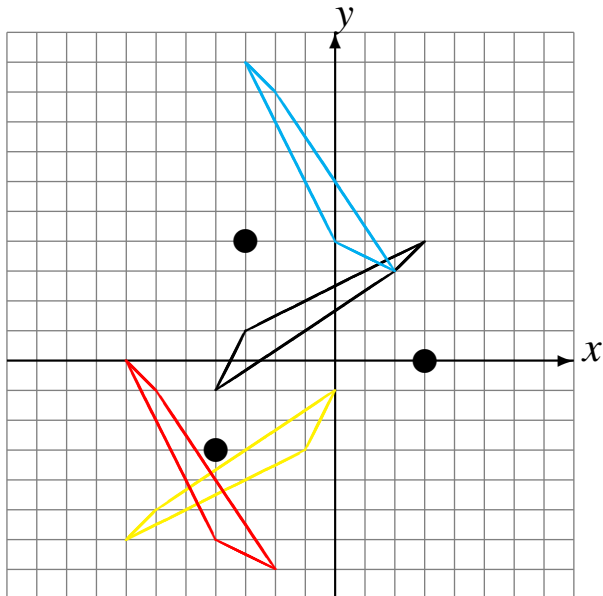
Rote 180° alrededor de $(-1, 0)$.
 Rote -90° alrededor de $(-2, 3)$.
 Rote -90° alrededor de $(4, 2)$.



Rote 180° alrededor de $(2, -4)$.
 Rote -90° alrededor de $(-1, 2)$.
 Rote -90° alrededor de $(0, 3)$.



Rote 90° alrededor de $(-3, 4)$.
 Rote 90° alrededor de $(3, 0)$.
 Rote -90° alrededor de $(-4, -3)$.



Rote 90° alrededor de $(0, -3)$.
 Rote 180° alrededor de $(1, 3)$.
 Rote 180° alrededor de $(-1, 3)$.

