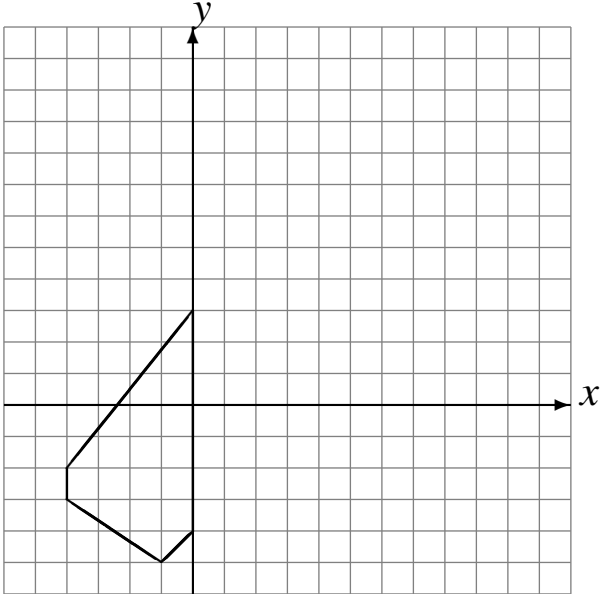


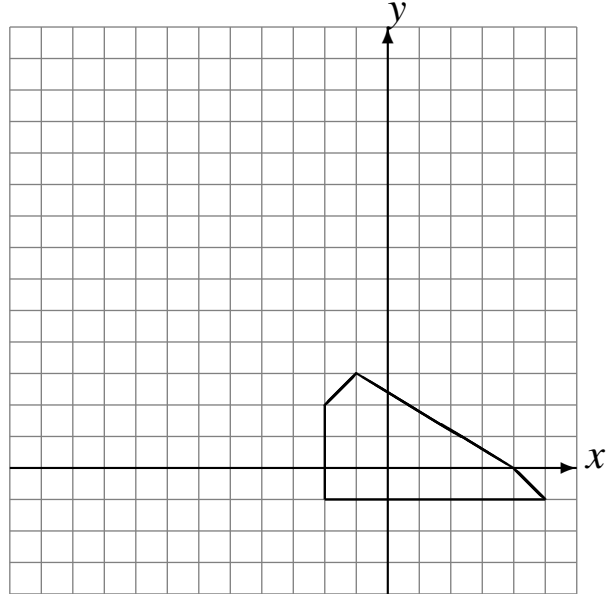
# Rotaciones (D)

Dibuje cada figura rotada.

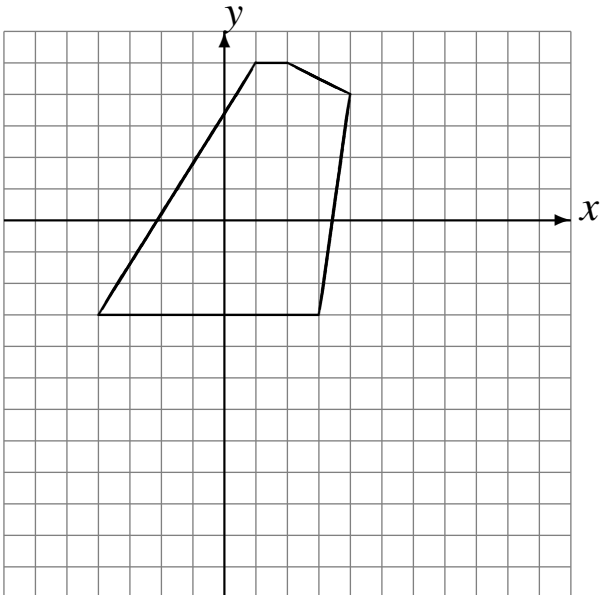
Rote  $180^\circ$  alrededor de  $(-1, 3)$ .  
Rote  $180^\circ$  alrededor de  $(4, 3)$ .



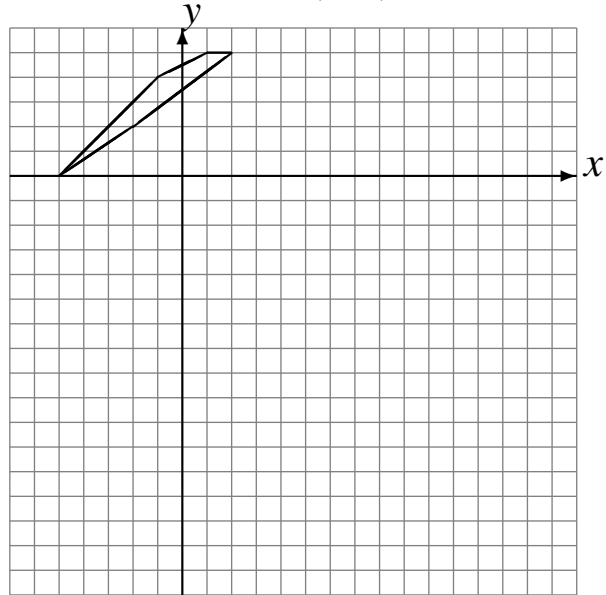
Rote  $90^\circ$  alrededor de  $(-1, 4)$ .  
Rote  $90^\circ$  alrededor de  $(-2, 1)$ .



Rote  $180^\circ$  alrededor de  $(2, -1)$ .  
Rote  $-90^\circ$  alrededor de  $(1, -4)$ .



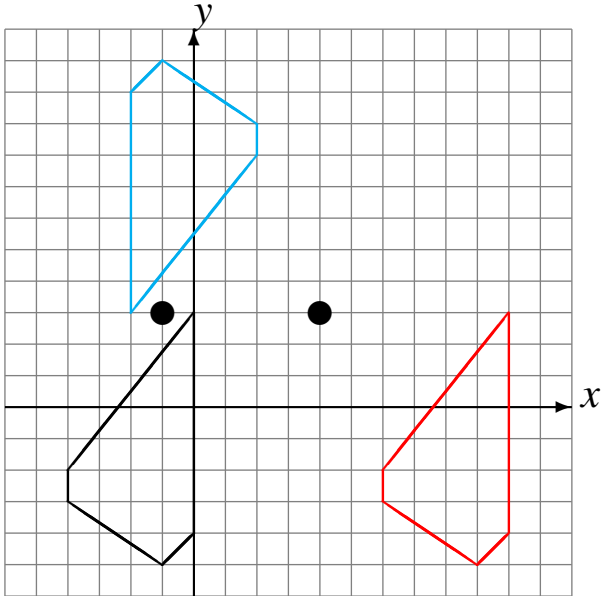
Rote  $180^\circ$  alrededor de  $(4, 2)$ .  
Rote  $-90^\circ$  alrededor de  $(-3, 0)$ .



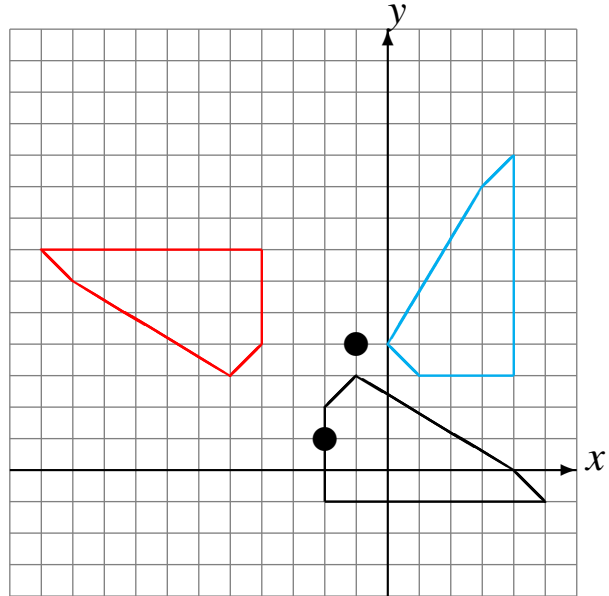
# Rotaciones (D) Respuestas

Dibuje cada figura rotada.

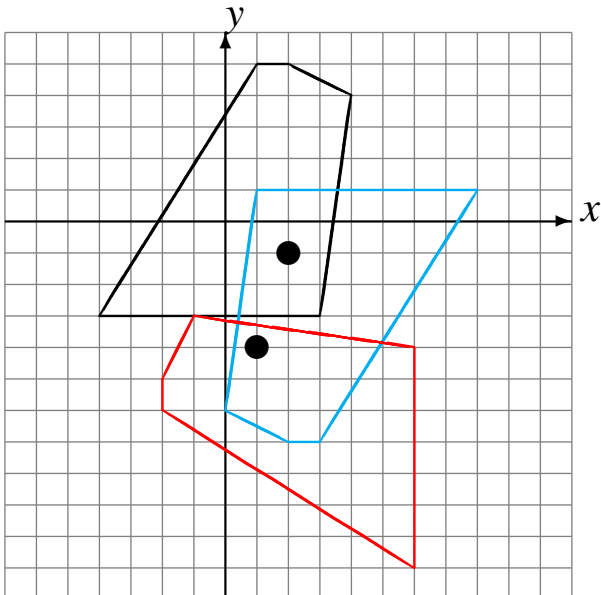
Rote  $180^\circ$  alrededor de  $(-1, 3)$ .  
Rote  $180^\circ$  alrededor de  $(4, 3)$ .



Rote  $90^\circ$  alrededor de  $(-1, 4)$ .  
Rote  $90^\circ$  alrededor de  $(-2, 1)$ .



Rote  $180^\circ$  alrededor de  $(2, -1)$ .  
Rote  $-90^\circ$  alrededor de  $(1, -4)$ .



Rote  $180^\circ$  alrededor de  $(4, 2)$ .  
Rote  $-90^\circ$  alrededor de  $(-3, 0)$ .

