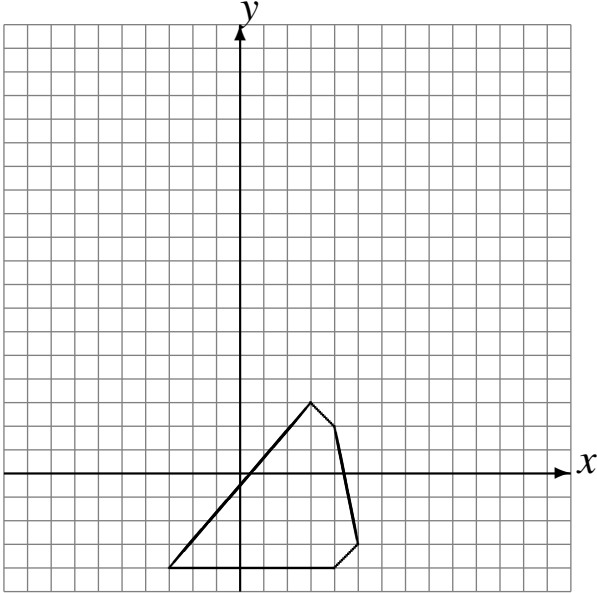


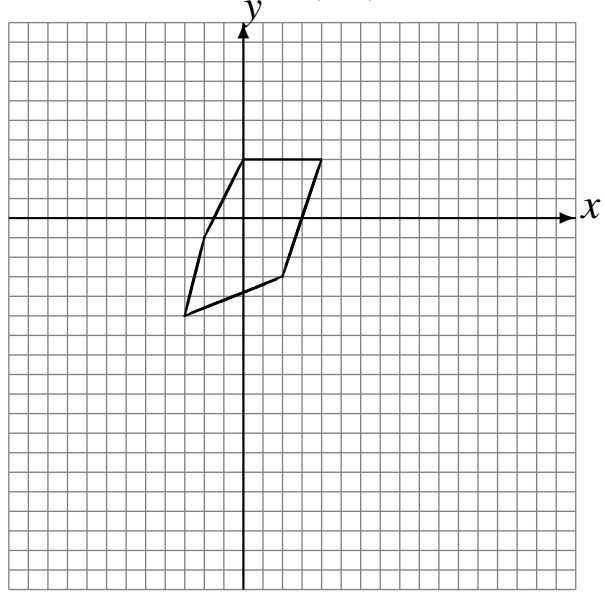
Rotaciones (C)

Dibuje cada figura rotada.

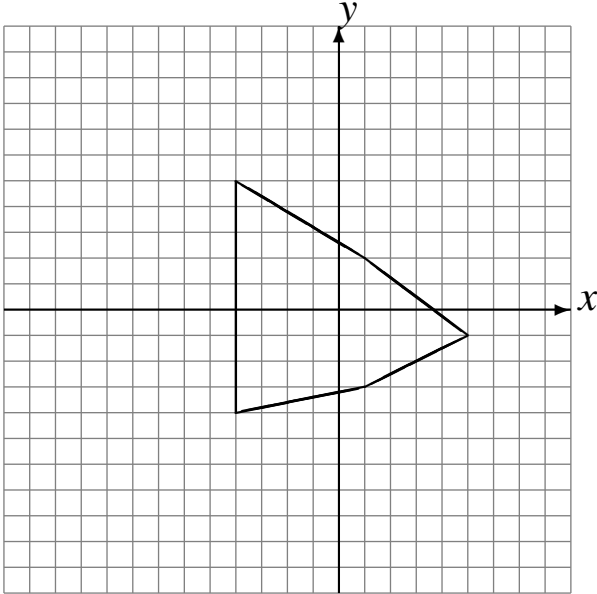
Rote 90° alrededor de $(-4, -2)$.
Rote -90° alrededor de $(2, -3)$.
Rote 90° alrededor de $(-3, 3)$.



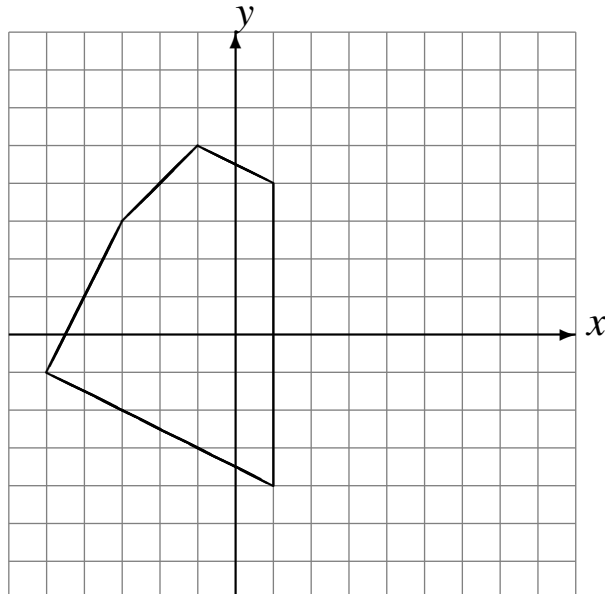
Rote 180° alrededor de $(-1, -4)$.
Rote 90° alrededor de $(3, 2)$.
Rote -90° alrededor de $(0, 4)$.



Rote 90° alrededor de $(2, -4)$.
Rote 180° alrededor de $(-4, -1)$.
Rote -90° alrededor de $(-3, 3)$.



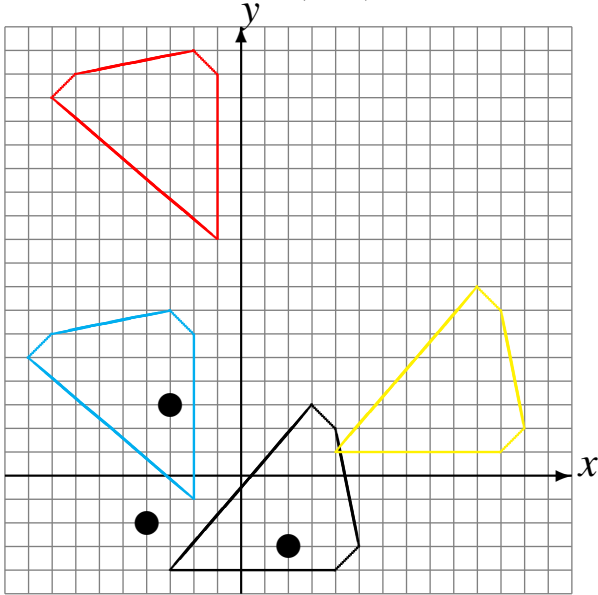
Rote -90° alrededor de $(-1, -4)$.
Rote 90° alrededor de $(1, -1)$.
Rote -90° alrededor de $(1, 1)$.



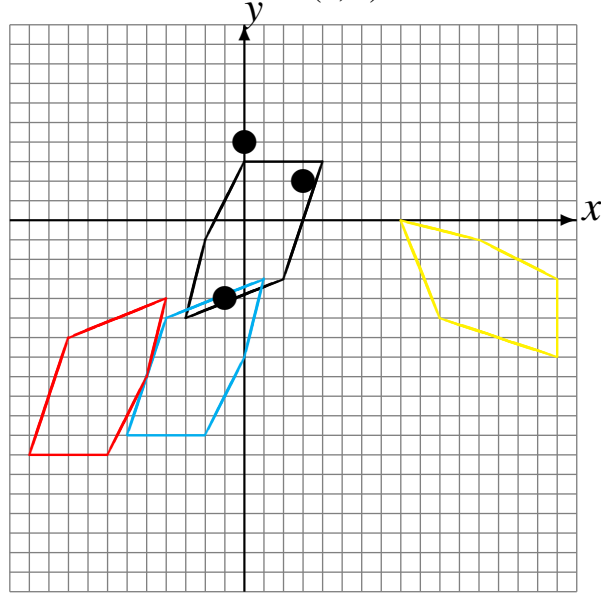
Rotaciones (C) Respuestas

Dibuje cada figura rotada.

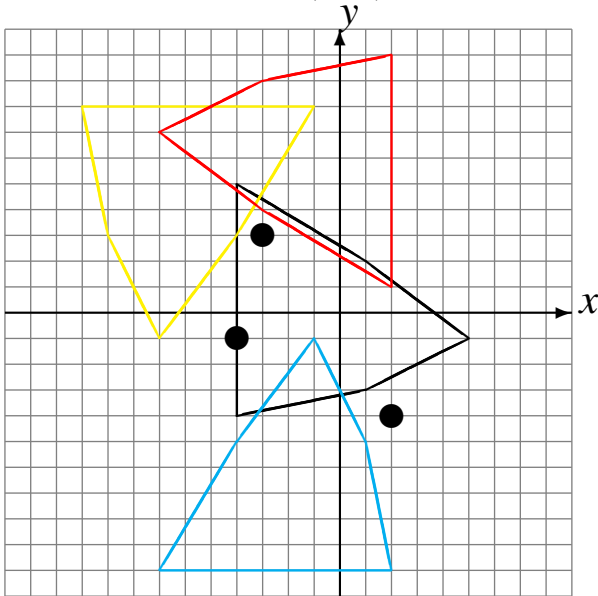
Rote 90° alrededor de $(-4, -2)$.
 Rote -90° alrededor de $(2, -3)$.
 Rote 90° alrededor de $(-3, 3)$.



Rote 180° alrededor de $(-1, -4)$.
 Rote 90° alrededor de $(3, 2)$.
 Rote -90° alrededor de $(0, 4)$.



Rote 90° alrededor de $(2, -4)$.
 Rote 180° alrededor de $(-4, -1)$.
 Rote -90° alrededor de $(-3, 3)$.



Rote -90° alrededor de $(-1, -4)$.
 Rote 90° alrededor de $(1, -1)$.
 Rote -90° alrededor de $(1, 1)$.

