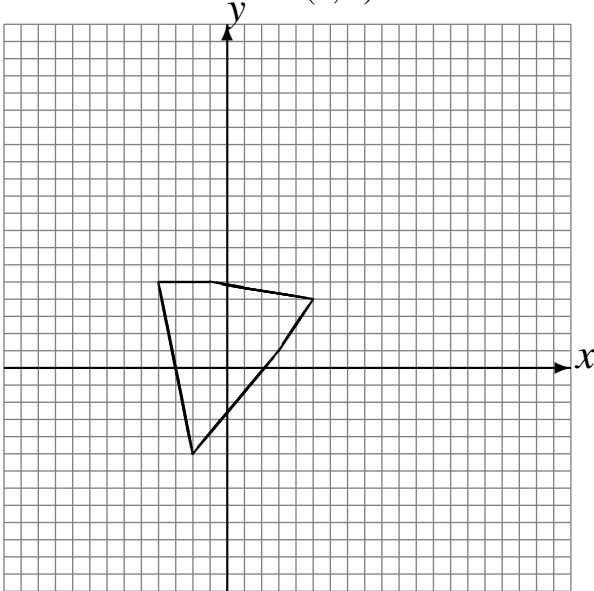


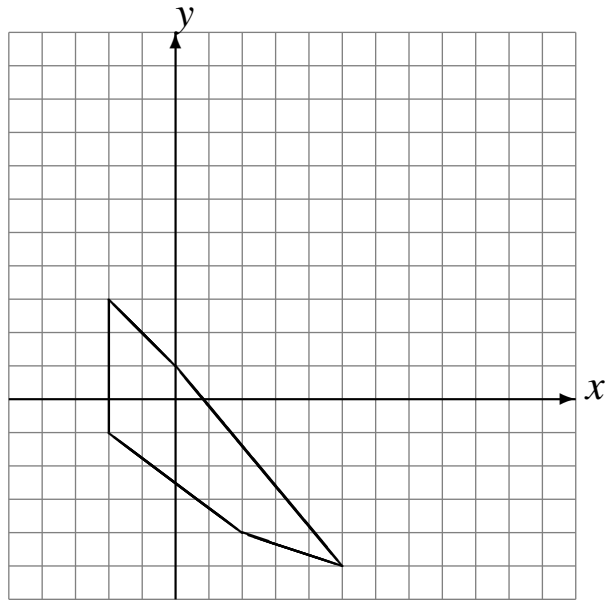
Rotaciones (F)

Dibuje cada figura rotada.

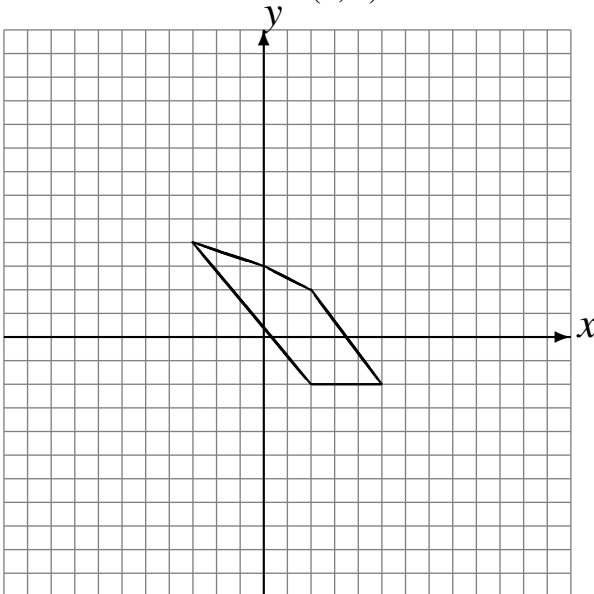
Rote -90° alrededor de $(-3, -2)$.
Rote 180° alrededor de $(-4, 3)$.
Rote -90° alrededor de $(4, 1)$.



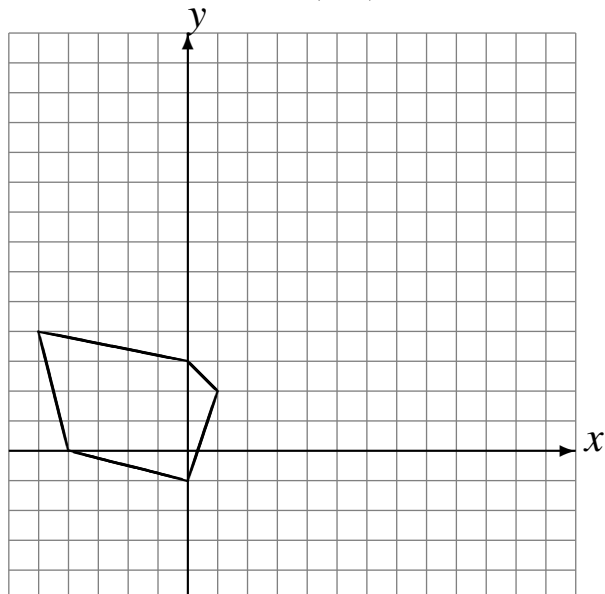
Rote -90° alrededor de $(1, -1)$.
Rote 90° alrededor de $(-1, 4)$.
Rote -90° alrededor de $(2, 3)$.



Rote 180° alrededor de $(4, -3)$.
Rote 180° alrededor de $(1, 1)$.
Rote 180° alrededor de $(0, 4)$.



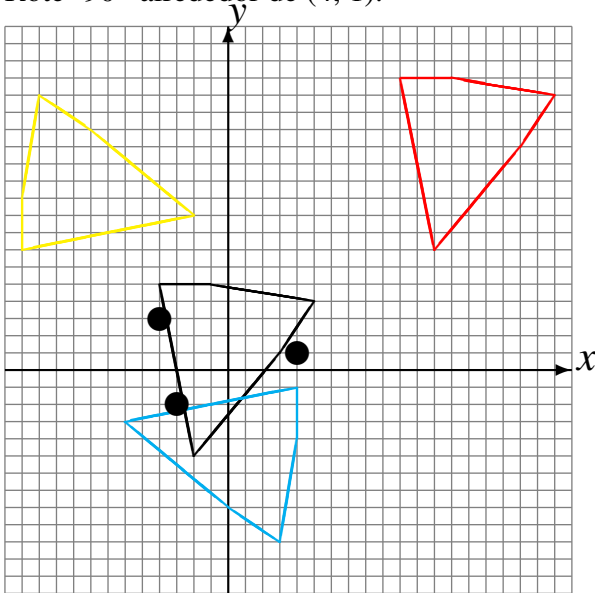
Rote 180° alrededor de $(3, 2)$.
Rote 90° alrededor de $(2, 4)$.
Rote -90° alrededor de $(0, 2)$.



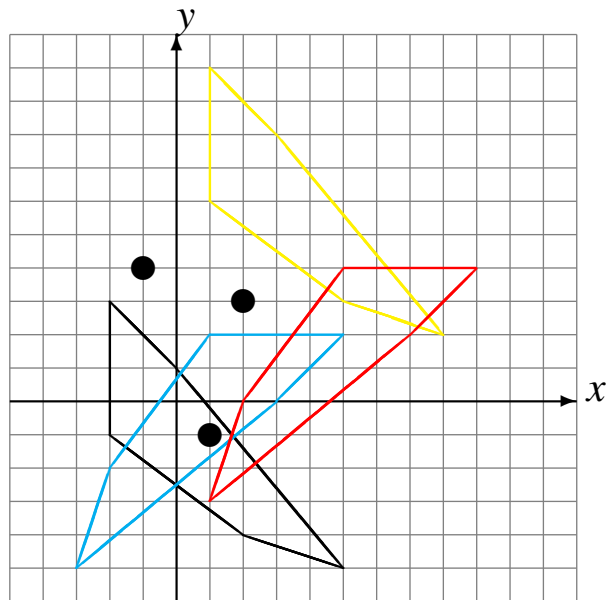
Rotaciones (F) Respuestas

Dibuje cada figura rotada.

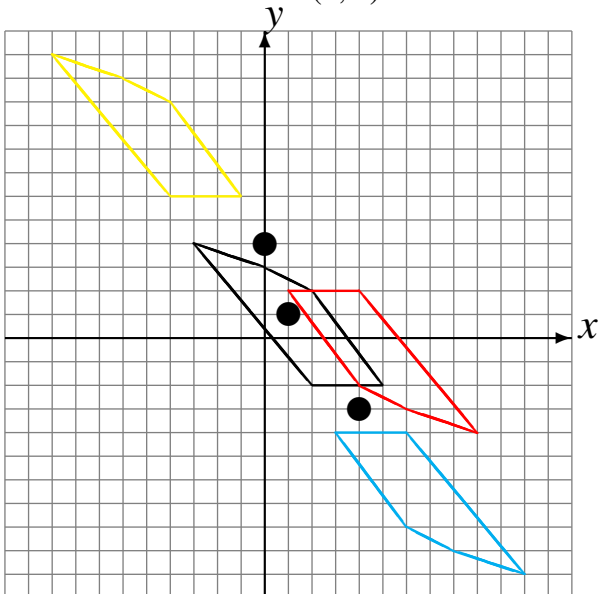
Rote -90° alrededor de $(-3, -2)$.
 Rote 180° alrededor de $(-4, 3)$.
 Rote -90° alrededor de $(4, 1)$.



Rote -90° alrededor de $(1, -1)$.
 Rote 90° alrededor de $(-1, 4)$.
 Rote -90° alrededor de $(2, 3)$.



Rote 180° alrededor de $(4, -3)$.
 Rote 180° alrededor de $(1, 1)$.
 Rote 180° alrededor de $(0, 4)$.



Rote 180° alrededor de $(3, 2)$.
 Rote 90° alrededor de $(2, 4)$.
 Rote -90° alrededor de $(0, 2)$.

