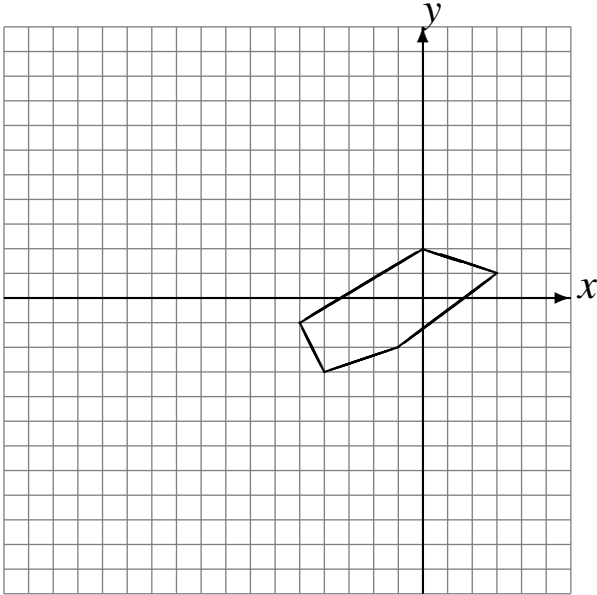


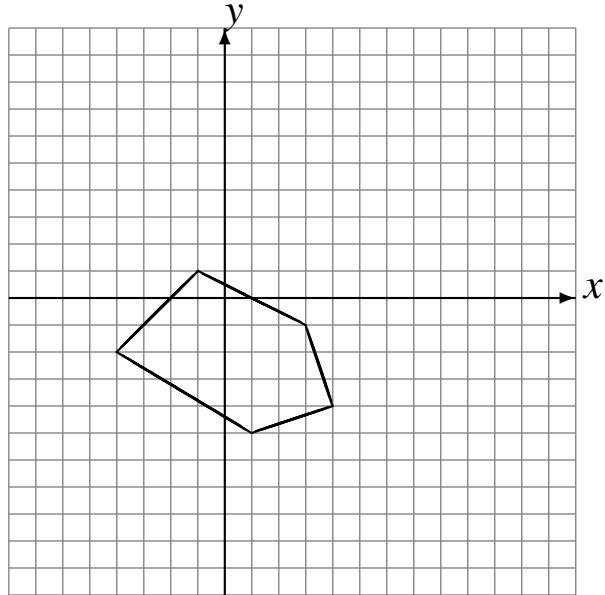
Rotaciones (G)

Dibuje cada figura rotada.

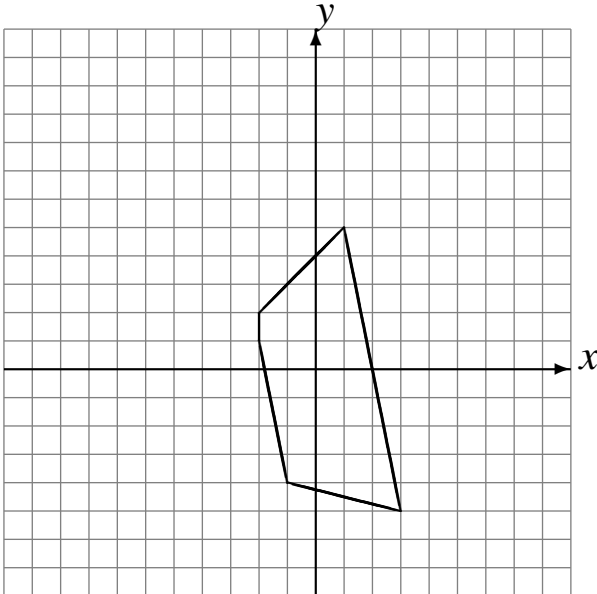
Rote 180° alrededor de $(-4, 2)$.
Rote 90° alrededor de $(-4, -4)$.
Rote -90° alrededor de $(-3, -2)$.



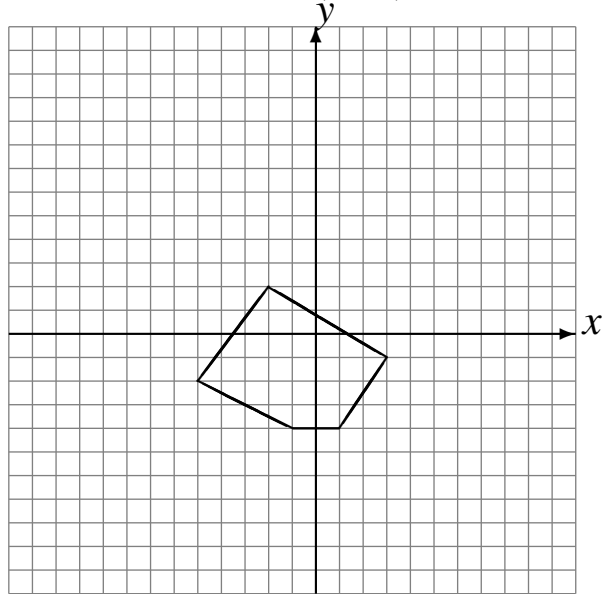
Rote 90° alrededor de $(-2, -4)$.
Rote 90° alrededor de $(-1, -1)$.
Rote 180° alrededor de $(4, -1)$.



Rote -90° alrededor de $(-2, -1)$.
Rote 90° alrededor de $(-4, 3)$.
Rote 180° alrededor de $(-1, 2)$.



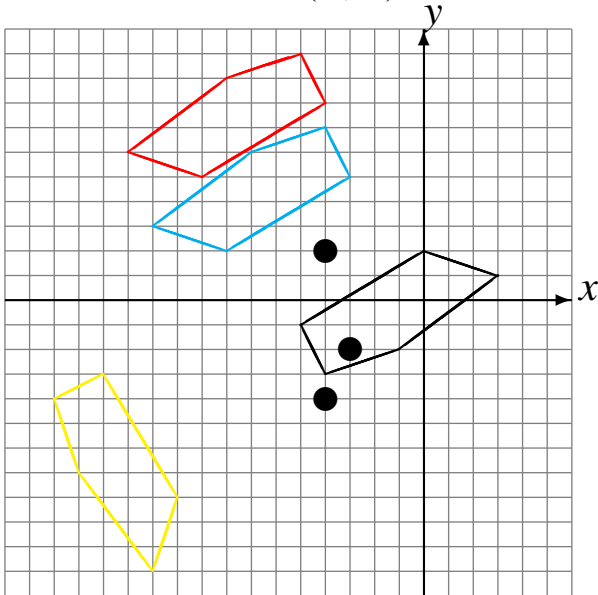
Rote -90° alrededor de $(4, 3)$.
Rote -90° alrededor de $(-3, 4)$.
Rote 180° alrededor de $(-1, -3)$.



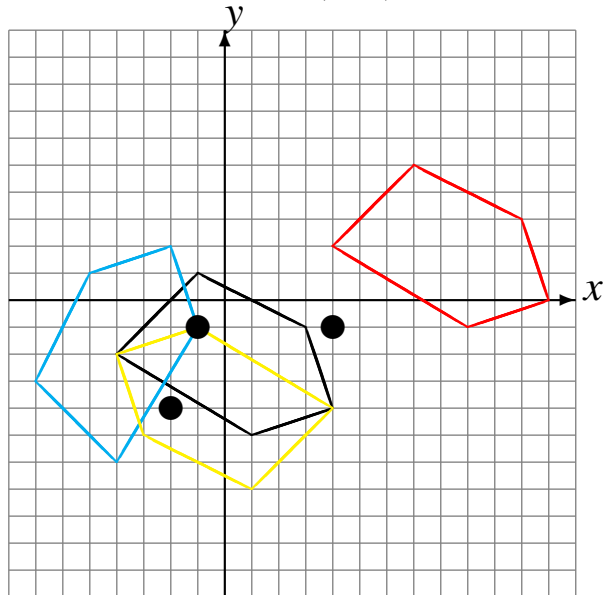
Rotaciones (G) Respuestas

Dibuje cada figura rotada.

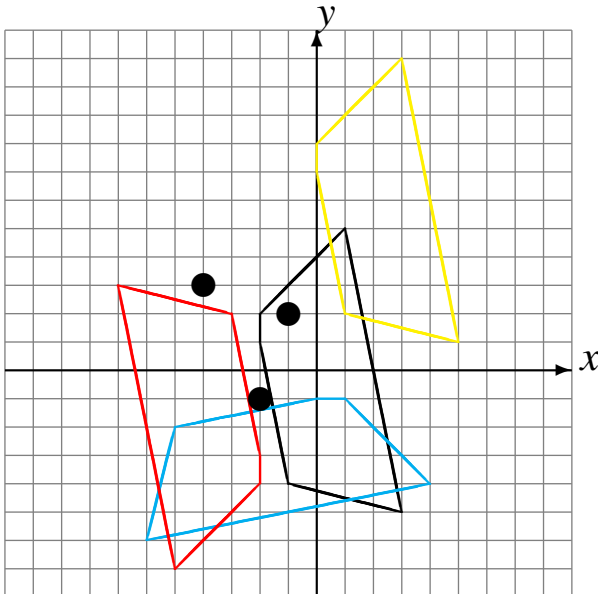
Rote 180° alrededor de $(-4, 2)$.
 Rote 90° alrededor de $(-4, -4)$.
 Rote -90° alrededor de $(-3, -2)$.



Rote 90° alrededor de $(-2, -4)$.
 Rote 90° alrededor de $(-1, -1)$.
 Rote 180° alrededor de $(4, -1)$.



Rote -90° alrededor de $(-2, -1)$.
 Rote 90° alrededor de $(-4, 3)$.
 Rote 180° alrededor de $(-1, 2)$.



Rote -90° alrededor de $(4, 3)$.
 Rote -90° alrededor de $(-3, 4)$.
 Rote 180° alrededor de $(-1, -3)$.

