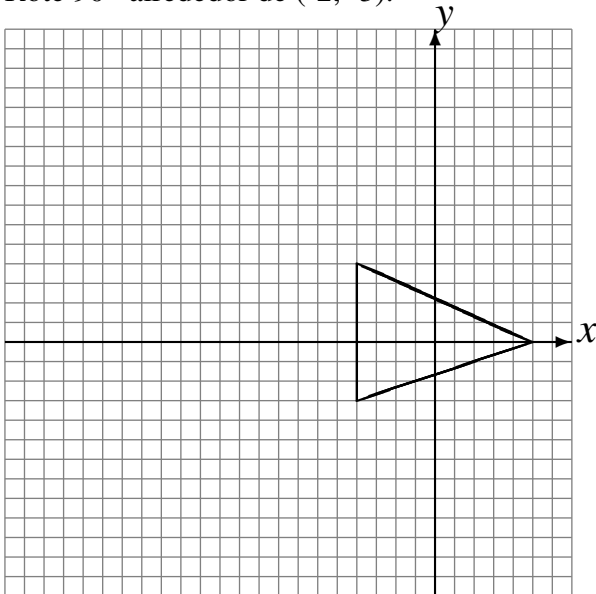


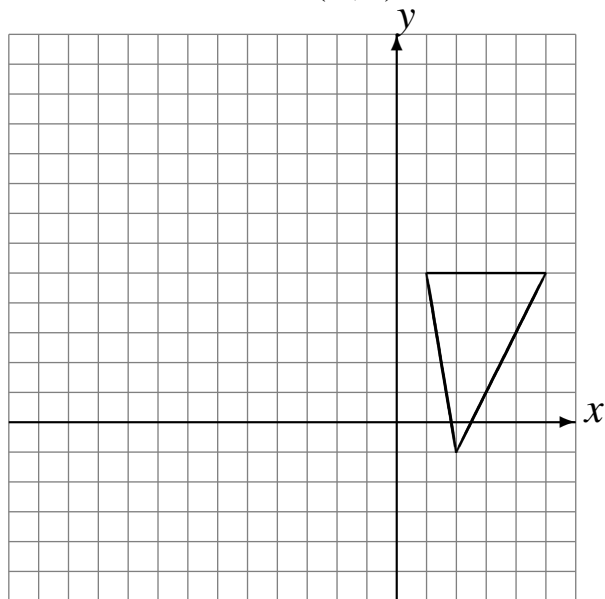
Transformaciones Combinadas (B)

Dibuje cada una de las transformaciones listadas.

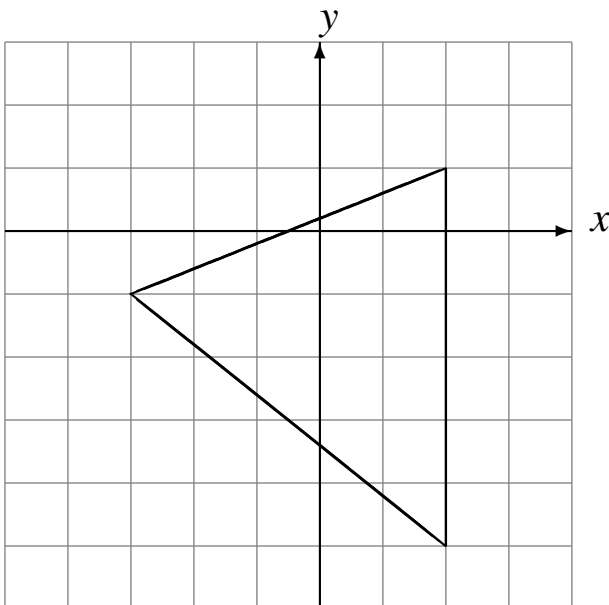
Rote 180° alrededor de $(-3, 6)$.
Rote 90° alrededor de $(-2, -3)$.



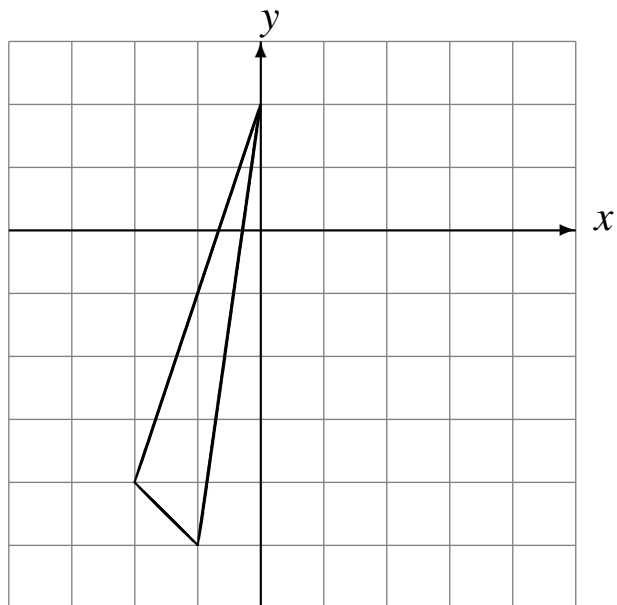
Rote 90° alrededor de $(0, 3)$.
Rote 180° alrededor de $(-4, 4)$.



Escale en $\frac{1}{3}$ usando como centro $(-1, 3)$.
Refleje en $x = -1$.



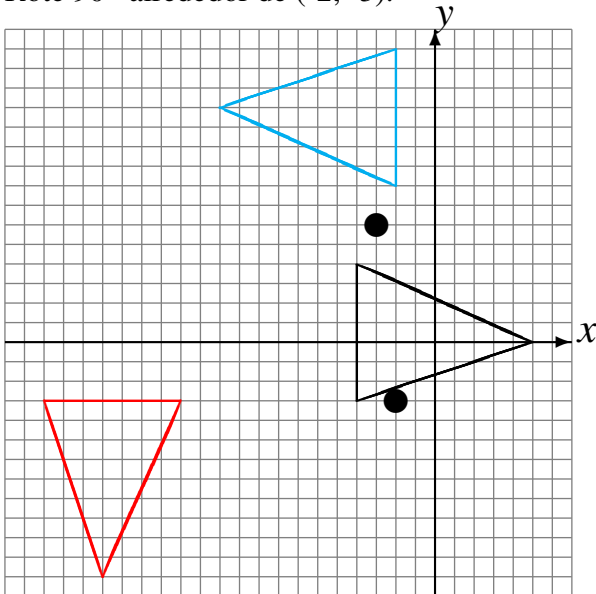
Escale en $\frac{1}{4}$ usando como centro $(-1, 3)$.
Traslade $(3, -2)$.



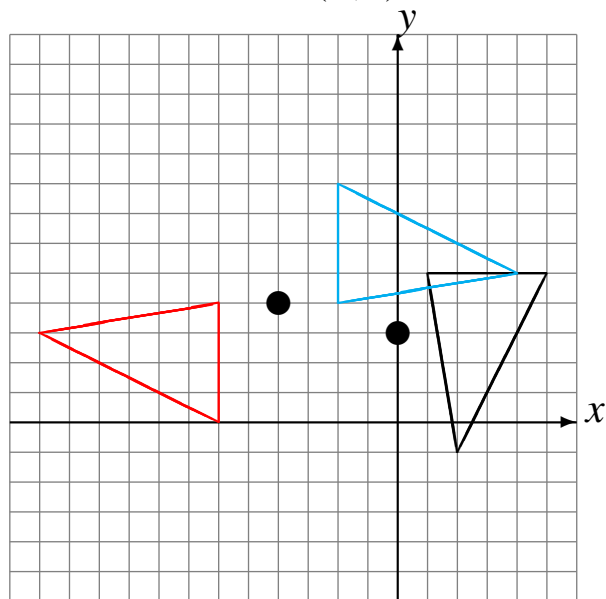
Transformaciones Combinadas (B) Respuestas

Dibuje cada una de las transformaciones listadas.

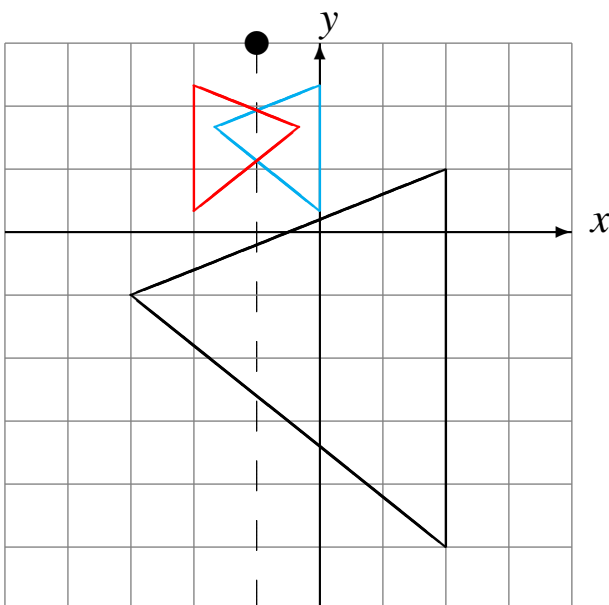
Rote 180° alrededor de $(-3, 6)$.
Rote 90° alrededor de $(-2, -3)$.



Rote 90° alrededor de $(0, 3)$.
Rote 180° alrededor de $(-4, 4)$.



Escale en $\frac{1}{3}$ usando como centro $(-1, 3)$.
Refleje en $x = -1$.



Escale en $\frac{1}{4}$ usando como centro $(-1, 3)$.
Traslade $(3, -2)$.

