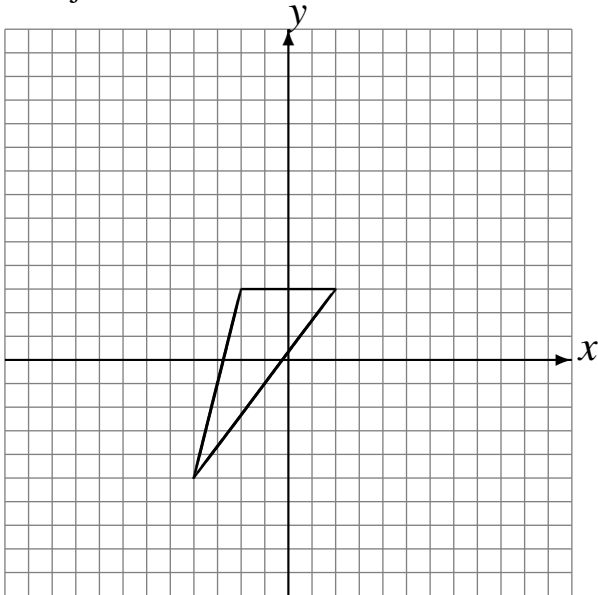


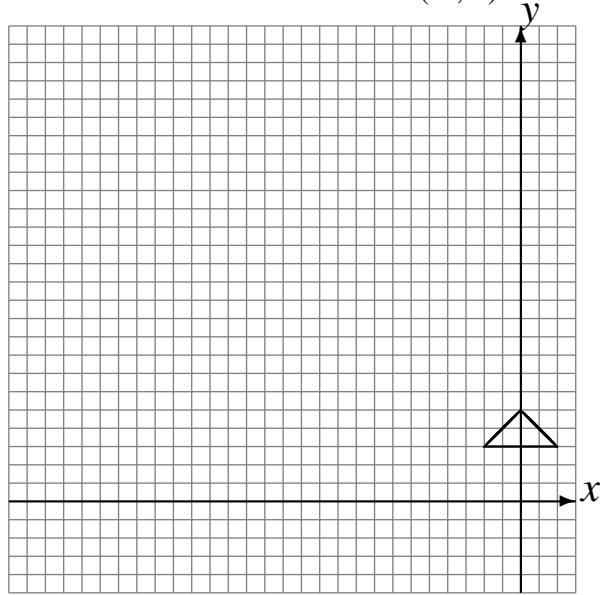
# Transformaciones Combinadas (F)

Dibuje cada una de las transformaciones listadas.

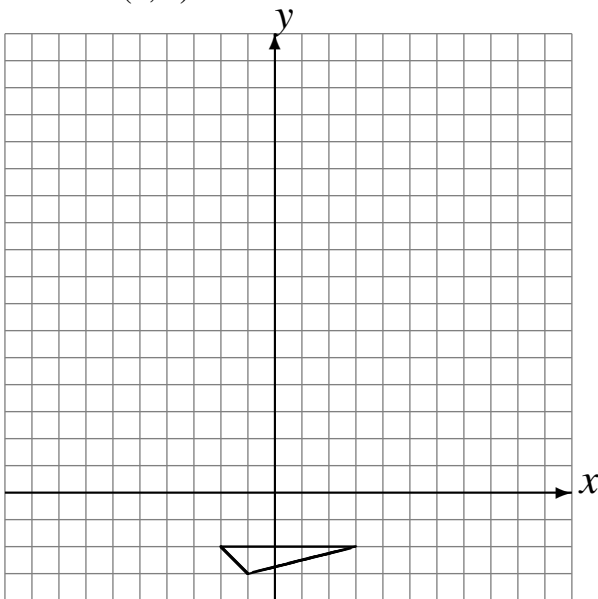
Refleje en  $y = 4$ .  
Refleje en  $y = 2$ .  
Refleje en  $x = 0$ .



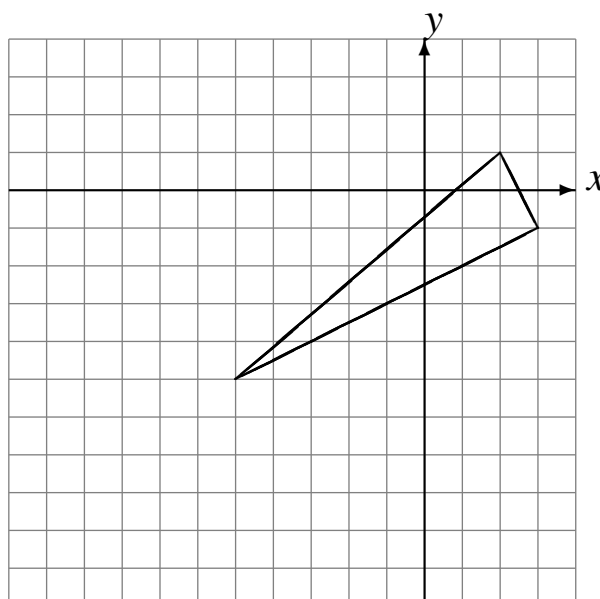
Refleje en  $x = -1$ .  
Escale en 2 usando como centro  $(3, 2)$ .  
Escale en 3 usando como centro  $(-3, 2)$ .



Traslade  $(-1, 0)$ .  
Rote  $180^\circ$  alrededor de  $(0, 5)$ .  
Traslade  $(0, 3)$ .



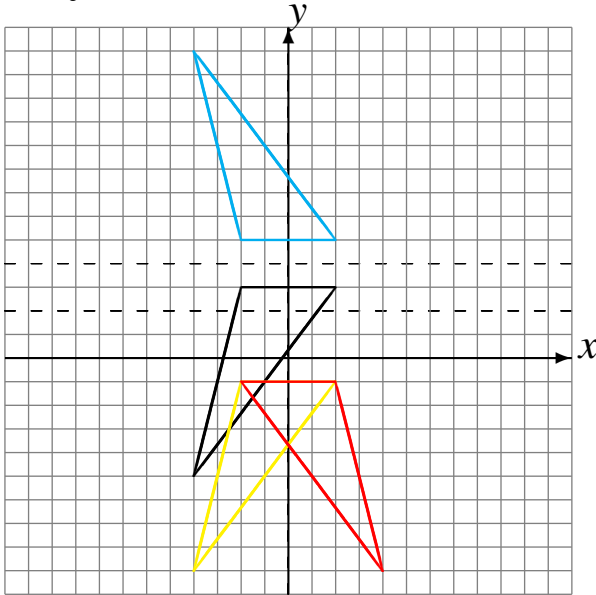
Refleje en  $x = -2$ .  
Traslade  $(-3, -4)$ .  
Rote  $90^\circ$  alrededor de  $(-5, -4)$ .



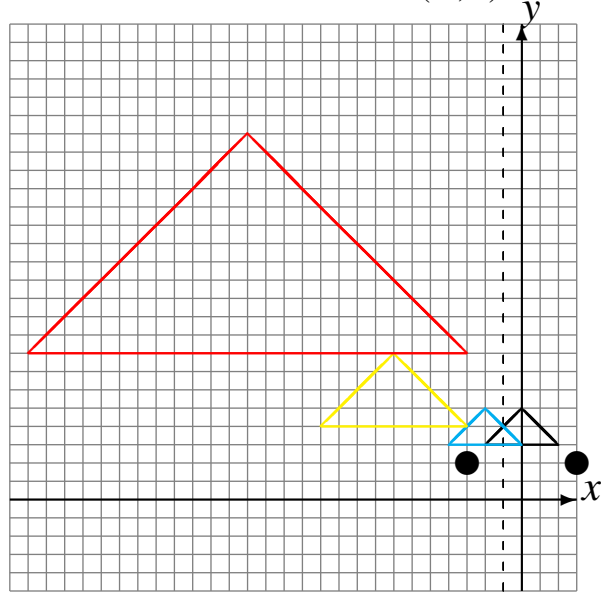
# Transformaciones Combinadas (F) Respuestas

Dibuje cada una de las transformaciones listadas.

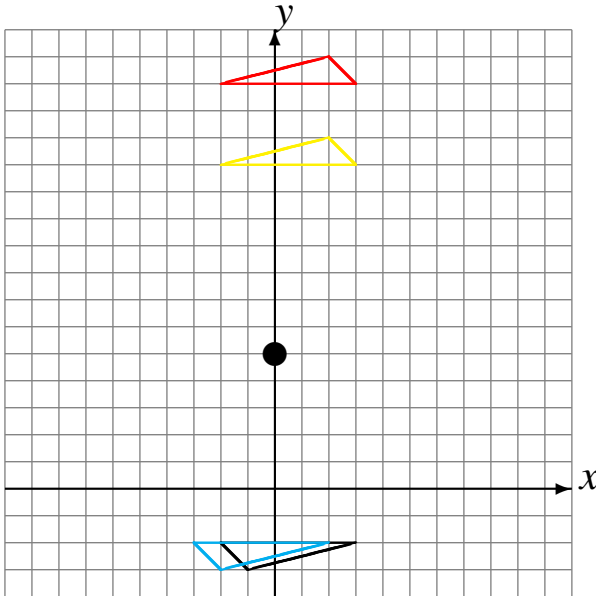
Refleje en  $y = 4$ .  
 Refleje en  $y = 2$ .  
 Refleje en  $x = 0$ .



Refleje en  $x = -1$ .  
 Escale en 2 usando como centro  $(3, 2)$ .  
 Escale en 3 usando como centro  $(-3, 2)$ .



Traslade  $(-1, 0)$ .  
 Rote  $180^\circ$  alrededor de  $(0, 5)$ .  
 Traslade  $(0, 3)$ .



Refleje en  $x = -2$ .  
 Traslade  $(-3, -4)$ .  
 Rote  $90^\circ$  alrededor de  $(-5, -4)$ .

