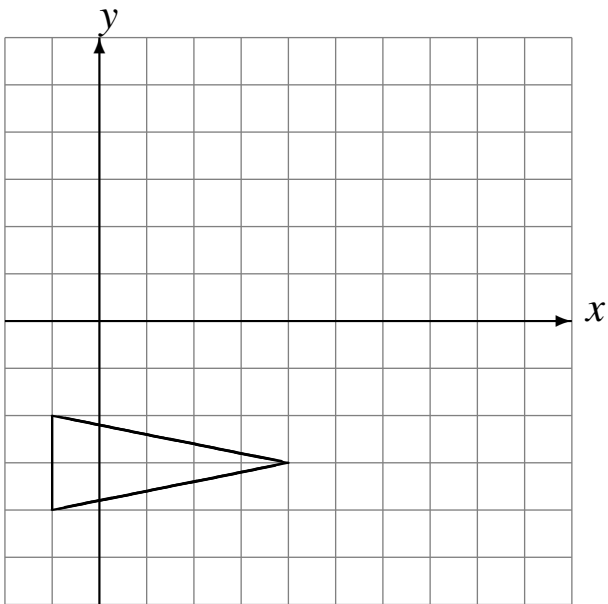


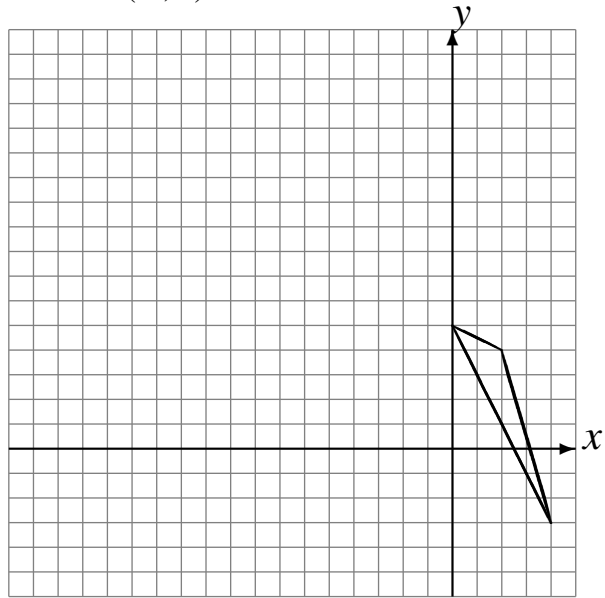
Transformaciones Combinadas (J)

Dibuje cada una de las transformaciones listadas.

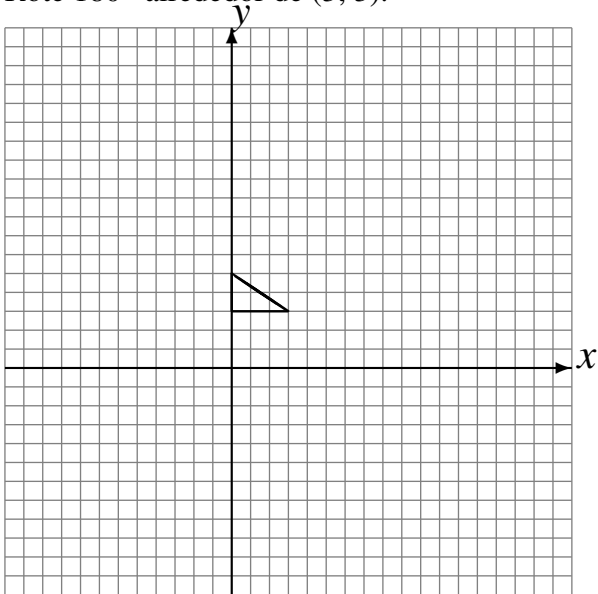
Traslade (0, 2).
Traslade (5, 4).
Traslade (-1, 0).



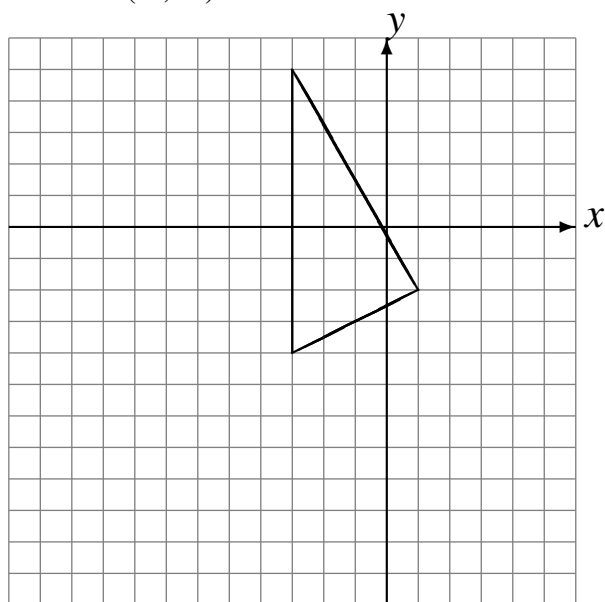
Rote 90° alrededor de (-4, -2).
Traslade (-4, 4).
Traslade (-2, 3).



Refleje en $y = -3$.
Traslade (-5, 0).
Rote 180° alrededor de (3, 3).



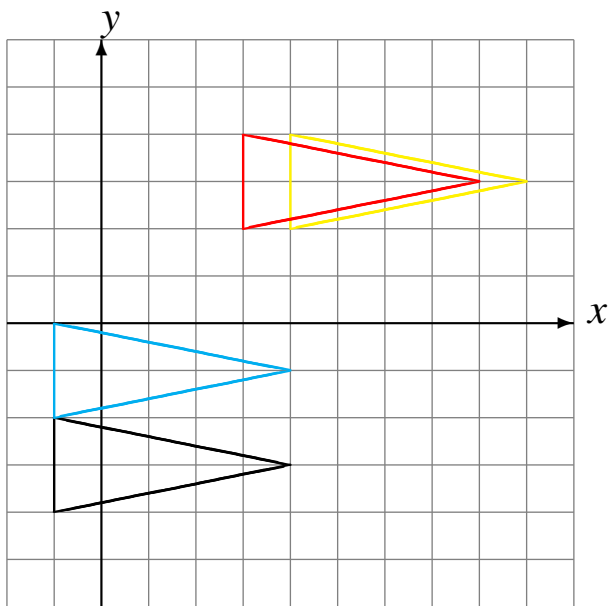
Refleje en $y = -3$.
Escale en $\frac{1}{2}$ usando como centro (-1, 3).
Traslade (-6, -5).



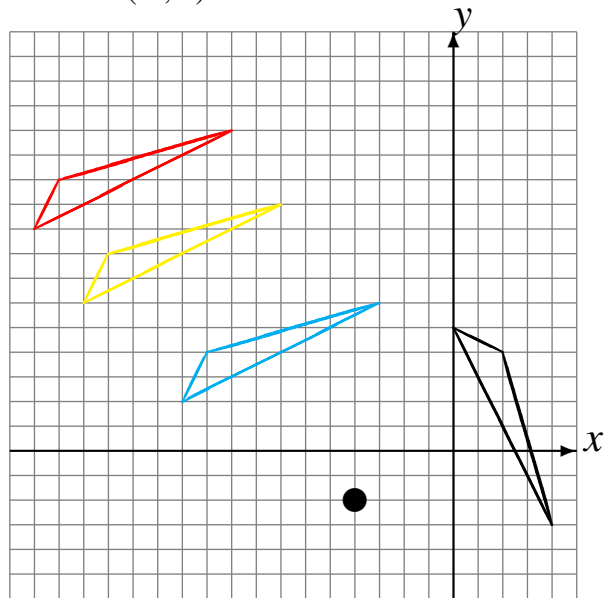
Transformaciones Combinadas (J) Respuestas

Dibuje cada una de las transformaciones listadas.

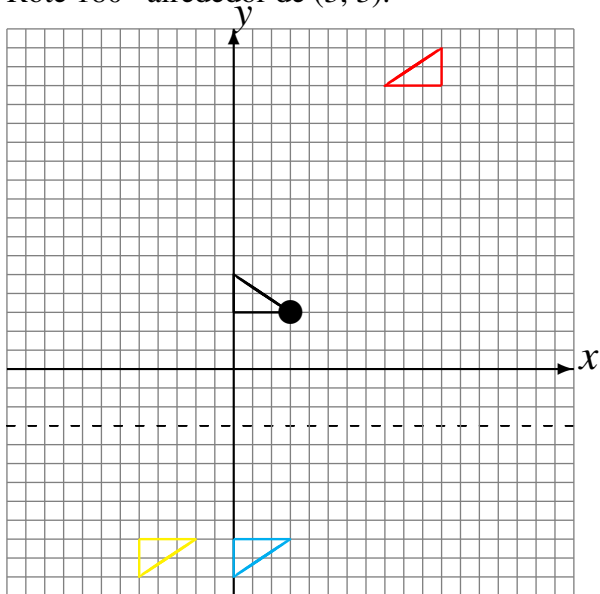
Traslade (0, 2).
Traslade (5, 4).
Traslade (-1, 0).



Rote 90° alrededor de (-4, -2).
Traslade (-4, 4).
Traslade (-2, 3).



Refleje en $y = -3$.
Traslade (-5, 0).
Rote 180° alrededor de (3, 3).



Refleje en $y = -3$.
Escale en $\frac{1}{2}$ usando como centro (-1, 3).
Traslade (-6, -5).

