

# CONTAR EN HALLOWEEN (D)

Nombre: \_\_\_\_\_

Fecha: \_\_\_\_\_


Puntuación: \_\_\_\_\_ /4

¡Si os atrevéis, contad la cantidad de objetos en cada grupo!


1. Hay  murciélagos.



2. Hay  brujas.



3. Hay  fantasmas.



4. Hay  cabezas de calabaza.



# CONTAR EN HALLOWEEN (D) RESPUESTAS


Nombre: \_\_\_\_\_ Fecha: \_\_\_\_\_ Puntuación: \_\_\_\_\_ /4

¡Si os atrevéis, contad la cantidad de objetos en cada grupo!


1. Hay  murciélagos.



2. Hay  brujas.



3. Hay  fantasmas.



4. Hay  cabezas de calabaza.

