


CONTAR EN HALLOWEEN (D)


Nombre: _____ Fecha: _____ Puntuación: _____ /4

¡Si os atrevéis, contad la cantidad de objetos en cada grupo!


1. Hay murciélagos.



2. Hay brujas.



3. Hay fantasmas.



4. Hay cabezas de calabaza.

