

CONTAR EN HALLOWEEN (F)

Nombre: _____

Fecha: _____


Puntuación: _____ /4

¡Si os atrevéis, contad la cantidad de objetos en cada grupo!


1. Hay cabezas de calabaza.



2. Hay fantasmas.



3. Hay brujas.



4. Hay murciélagos.



CONTAR EN HALLOWEEN (F) RESPUESTAS


Nombre: _____ Fecha: _____ Puntuación: _____ /4

¡Si os atrevéis, contad la cantidad de objetos en cada grupo!


1. Hay cabezas de calabaza.



2. Hay fantasmas.



3. Hay brujas.



4. Hay murciélagos.

