

# CONTAR EN HALLOWEEN (H)


Nombre: \_\_\_\_\_

Fecha: \_\_\_\_\_

Puntuación: \_\_\_\_\_ /4

¡Si os atrevéis, contad la cantidad de objetos en cada grupo!


1. Hay  brujas.



2. Hay  murciélagos.



3. Hay  fantasmas.



4. Hay  cabezas de calabaza.



# CONTAR EN HALLOWEEN (H) RESPUESTAS


Nombre: \_\_\_\_\_

Fecha: \_\_\_\_\_

Puntuación: \_\_\_\_\_ /4

¡Si os atrevéis, contad la cantidad de objetos en cada grupo!


1. Hay  brujas.



2. Hay  murciélagos.



3. Hay  fantasmas.



4. Hay  cabezas de calabaza.

