

CONTAR EN HALLOWEEN (A)

Nombre: _____

Fecha: _____


Puntuación: _____ /4

¡Si os atrevéis, contad la cantidad de objetos en cada grupo!

1. Hay cabezas de calabaza.




2. Hay brujas.



3. Hay murciélagos.



4. Hay fantasmas.



CONTAR EN HALLOWEEN (A) RESPUESTAS

Nombre: _____

Fecha: _____


Puntuación: _____ /4

¡Si os atrevéis, contad la cantidad de objetos en cada grupo!

1. Hay cabezas de calabaza.



2. Hay brujas.



3. Hay murciélagos.



4. Hay fantasmas.

