

CONTAR EN HALLOWEEN (F)


Nombre: _____ Fecha: _____ Puntuación: _____ /4

¡Si os atrevéis, contad la cantidad de objetos en cada grupo!


1. Hay brujas.



2. Hay murciélagos.



3. Hay fantasmas.



4. Hay cabezas de calabaza.



CONTAR EN HALLOWEEN (F) RESPUESTAS


Nombre: _____ Fecha: _____ Puntuación: _____ /4

¡Si os atrevéis, contad la cantidad de objetos en cada grupo!


1. Hay brujas.



2. Hay murciélagos.



3. Hay fantasmas.



4. Hay cabezas de calabaza.

