

# CONTAR EN HALLOWEEN (J)


Nombre: \_\_\_\_\_

Fecha: \_\_\_\_\_


Puntuación: \_\_\_\_\_ /4

¡Si os atrevéis, contad la cantidad de objetos en cada grupo!

1. Hay  murciélagos.




2. Hay  brujas.



3. Hay  cabezas de calabaza.



4. Hay  fantasmas.



# CONTAR EN HALLOWEEN (J) RESPUESTAS


Nombre: \_\_\_\_\_ Fecha: \_\_\_\_\_ Puntuación: \_\_\_\_\_ /4

¡Si os atrevéis, contad la cantidad de objetos en cada grupo!

1. Hay  murciélagos.



2. Hay  brujas.



3. Hay  cabezas de calabaza.



4. Hay  fantasmas.

