

CONTAR EN HALLOWEEN (E)


Nombre: _____

Fecha: _____

Puntuación: _____ /4

¡Si os atrevéis, contad la cantidad de objetos en cada grupo!


1. Hay brujas.




2. Hay cabezas de calabaza.



3. Hay murciélagos.



4. Hay fantasmas.



CONTAR EN HALLOWEEN (E) RESPUESTAS


Nombre: _____

Fecha: _____

Puntuación: _____ /4

¡Si os atrevéis, contad la cantidad de objetos en cada grupo!


1. Hay brujas.



2. Hay cabezas de calabaza.



3. Hay murciélagos.



4. Hay fantasmas.

