

# CONTAR EN HALLOWEEN (Q)


Nombre: \_\_\_\_\_

Fecha: \_\_\_\_\_


Puntuación: \_\_\_\_\_ /4

¡Si os atrevéis, contad la cantidad de objetos en cada grupo!

1. Hay  fantasmas.



2. Hay  brujas.



3. Hay  murciélagos.



4. Hay  cabezas de calabaza.



# CONTAR EN HALLOWEEN (Q) RESPUESTAS


Nombre: \_\_\_\_\_

Fecha: \_\_\_\_\_


Puntuación: \_\_\_\_\_ /4

¡Si os atrevéis, contad la cantidad de objetos en cada grupo!

1. Hay  fantasmas.



2. Hay  brujas.



3. Hay  murciélagos.



4. Hay  cabezas de calabaza.

