

# CONTAR EN HALLOWEEN (A)


Nombre: \_\_\_\_\_

Fecha: \_\_\_\_\_


Puntuación: \_\_\_\_\_ /4

¡Si os atrevéis, contad la cantidad de objetos en cada grupo!

1. Hay  murciélagos.




2. Hay  brujas.



3. Hay  cabezas de calabaza.



4. Hay  fantasmas.



# CONTAR EN HALLOWEEN (A) RESPUESTAS


Nombre: \_\_\_\_\_

Fecha: \_\_\_\_\_


Puntuación: \_\_\_\_\_ /4

¡Si os atrevéis, contad la cantidad de objetos en cada grupo!

1. Hay  murciélagos.




2. Hay  brujas.



3. Hay  cabezas de calabaza.



4. Hay  fantasmas.



# CONTAR EN HALLOWEEN (B)

Nombre: \_\_\_\_\_

Fecha: \_\_\_\_\_

Puntuación: \_\_\_\_\_ /4

¡Si os atrevéis, contad la cantidad de objetos en cada grupo!


1. Hay  cabezas de calabaza.



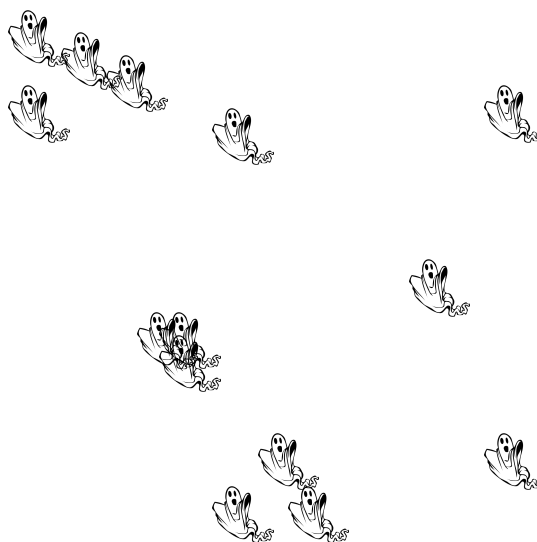
2. Hay  murciélagos.



3. Hay  brujas.



4. Hay  fantasmas.



# CONTAR EN HALLOWEEN (B) RESPUESTAS

Nombre: \_\_\_\_\_

Fecha: \_\_\_\_\_

Puntuación: \_\_\_\_\_ /4

¡Si os atrevéis, contad la cantidad de objetos en cada grupo!


1. Hay  cabezas de calabaza.



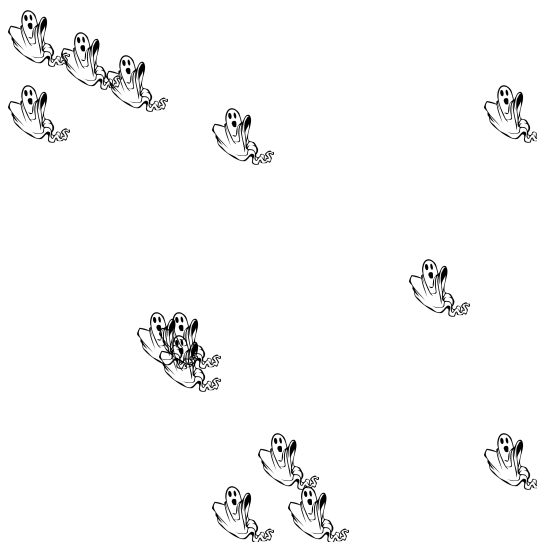
2. Hay  murciélagos.



3. Hay  brujas.



4. Hay  fantasmas.



# CONTAR EN HALLOWEEN (C)

Nombre: \_\_\_\_\_

Fecha: \_\_\_\_\_

Puntuación: \_\_\_\_\_ /4

¡Si os atrevéis, contad la cantidad de objetos en cada grupo!


1. Hay  cabezas de calabaza.




2. Hay  murciélagos.



3. Hay  brujas.



4. Hay  fantasmas.



# CONTAR EN HALLOWEEN (C) RESPUESTAS

Nombre: \_\_\_\_\_

Fecha: \_\_\_\_\_

Puntuación: \_\_\_\_\_ /4

¡Si os atrevéis, contad la cantidad de objetos en cada grupo!

1. Hay  cabezas de calabaza.




2. Hay  murciélagos.



3. Hay  brujas.



4. Hay  fantasmas.



# CONTAR EN HALLOWEEN (D)


Nombre: \_\_\_\_\_

Fecha: \_\_\_\_\_

Puntuación: \_\_\_\_\_ /4

¡Si os atrevéis, contad la cantidad de objetos en cada grupo!

1. Hay  brujas.




2. Hay  cabezas de calabaza.



3. Hay  murciélagos.



4. Hay  fantasmas.



# CONTAR EN HALLOWEEN (D) RESPUESTAS


Nombre: \_\_\_\_\_

Fecha: \_\_\_\_\_

Puntuación: \_\_\_\_\_ /4

¡Si os atrevéis, contad la cantidad de objetos en cada grupo!

1. Hay  brujas.




2. Hay  cabezas de calabaza.



3. Hay  murciélagos.



4. Hay  fantasmas.





# CONTAR EN HALLOWEEN (E)


Nombre: \_\_\_\_\_

Fecha: \_\_\_\_\_

Puntuación: \_\_\_\_\_ /4

¡Si os atrevéis, contad la cantidad de objetos en cada grupo!


1. Hay  brujas.




2. Hay  cabezas de calabaza.



3. Hay  murciélagos.



4. Hay  fantasmas.



# CONTAR EN HALLOWEEN (E) RESPUESTAS


Nombre: \_\_\_\_\_

Fecha: \_\_\_\_\_

Puntuación: \_\_\_\_\_ /4

¡Si os atrevéis, contad la cantidad de objetos en cada grupo!


1. Hay  brujas.




2. Hay  cabezas de calabaza.



3. Hay  murciélagos.



4. Hay  fantasmas.



# CONTAR EN HALLOWEEN (F)

Nombre: \_\_\_\_\_

Fecha: \_\_\_\_\_


Puntuación: \_\_\_\_\_ /4

¡Si os atrevéis, contad la cantidad de objetos en cada grupo!


1. Hay  cabezas de calabaza.



2. Hay  brujas.



3. Hay  fantasmas.



4. Hay  murciélagos.



# CONTAR EN HALLOWEEN (F) RESPUESTAS

Nombre: \_\_\_\_\_

Fecha: \_\_\_\_\_


Puntuación: \_\_\_\_\_ /4

¡Si os atrevéis, contad la cantidad de objetos en cada grupo!


1. Hay  cabezas de calabaza.



2. Hay  brujas.



3. Hay  fantasmas.



4. Hay  murciélagos.



# CONTAR EN HALLOWEEN (Q)


Nombre: \_\_\_\_\_

Fecha: \_\_\_\_\_


Puntuación: \_\_\_\_\_ /4

¡Si os atrevéis, contad la cantidad de objetos en cada grupo!

1. Hay  fantasmas.



2. Hay  brujas.



3. Hay  murciélagos.



4. Hay  cabezas de calabaza.



# CONTAR EN HALLOWEEN (Q) RESPUESTAS


Nombre: \_\_\_\_\_

Fecha: \_\_\_\_\_


Puntuación: \_\_\_\_\_ /4

¡Si os atrevéis, contad la cantidad de objetos en cada grupo!

1. Hay  fantasmas.



2. Hay  brujas.



3. Hay  murciélagos.



4. Hay  cabezas de calabaza.



# CONTAR EN HALLOWEEN (H)

Nombre: \_\_\_\_\_

Fecha: \_\_\_\_\_

Puntuación: \_\_\_\_\_ /4

¡Si os atrevéis, contad la cantidad de objetos en cada grupo!


1. Hay  cabezas de calabaza.




2. Hay  murciélagos.



3. Hay  brujas.



4. Hay  fantasmas.



# CONTAR EN HALLOWEEN (H) RESPUESTAS

Nombre: \_\_\_\_\_

Fecha: \_\_\_\_\_

Puntuación: \_\_\_\_\_ /4

¡Si os atrevéis, contad la cantidad de objetos en cada grupo!


1. Hay  cabezas de calabaza.




2. Hay  murciélagos.



3. Hay  brujas.



4. Hay  fantasmas.





# CONTAR EN HALLOWEEN (1)


Nombre: \_\_\_\_\_

Fecha: \_\_\_\_\_

Puntuación: \_\_\_\_\_ /4

¡Si os atrevéis, contad la cantidad de objetos en cada grupo!

1. Hay  brujas.




2. Hay  cabezas de calabaza.



3. Hay  murciélagos.



4. Hay  fantasmas.



# CONTAR EN HALLOWEEN (1) RESPUESTAS


Nombre: \_\_\_\_\_

Fecha: \_\_\_\_\_

Puntuación: \_\_\_\_\_ /4

¡Si os atrevéis, contad la cantidad de objetos en cada grupo!

1. Hay  brujas.




2. Hay  cabezas de calabaza.



3. Hay  murciélagos.



4. Hay  fantasmas.



# CONTAR EN HALLOWEEN (J)

Nombre: \_\_\_\_\_

Fecha: \_\_\_\_\_

Puntuación: \_\_\_\_\_ /4

¡Si os atrevéis, contad la cantidad de objetos en cada grupo!


1. Hay  cabezas de calabaza.




2. Hay  murciélagos.



3. Hay  brujas.



4. Hay  fantasmas.



# CONTAR EN HALLOWEEN (J) RESPUESTAS

Nombre: \_\_\_\_\_

Fecha: \_\_\_\_\_

Puntuación: \_\_\_\_\_ /4

¡Si os atrevéis, contad la cantidad de objetos en cada grupo!


1. Hay  cabezas de calabaza.



2. Hay  murciélagos.



3. Hay  brujas.



4. Hay  fantasmas.

