

CONTAR EN HALLOWEEN (C)


Nombre: _____

Fecha: _____


Puntuación: _____ /4

¡Si os atrevéis, contad la cantidad de objetos en cada grupo!

1. Hay fantasmas.




2. Hay murciélagos.



3. Hay cabezas de calabaza.



4. Hay brujas.



CONTAR EN HALLOWEEN (O) RESPUESTAS


Nombre: _____

Fecha: _____

Puntuación: _____ /4

¡Si os atrevéis, contad la cantidad de objetos en cada grupo!

1. Hay fantasmas.



2. Hay murciélagos.



3. Hay cabezas de calabaza.



4. Hay brujas.

