

# CONTAR EN HALLOWEEN (D)

Nombre: \_\_\_\_\_

Fecha: \_\_\_\_\_

Puntuación: \_\_\_\_\_ /4

¡Si os atrevéis, contad la cantidad de objetos en cada grupo!

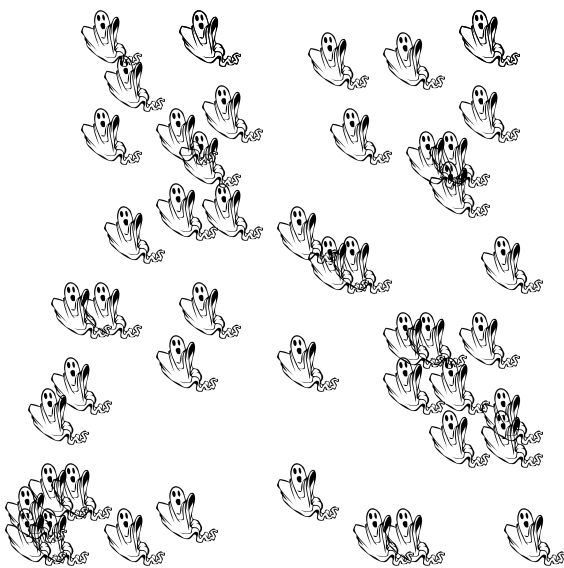
1. Hay  cabezas de calabaza.




2. Hay  murciélagos.



3. Hay  fantasmas.



4. Hay  brujas.



# CONTAR EN HALLOWEEN (D) RESPUESTAS

Nombre: \_\_\_\_\_

Fecha: \_\_\_\_\_

Puntuación: \_\_\_\_\_ /4

¡Si os atrevéis, contad la cantidad de objetos en cada grupo!

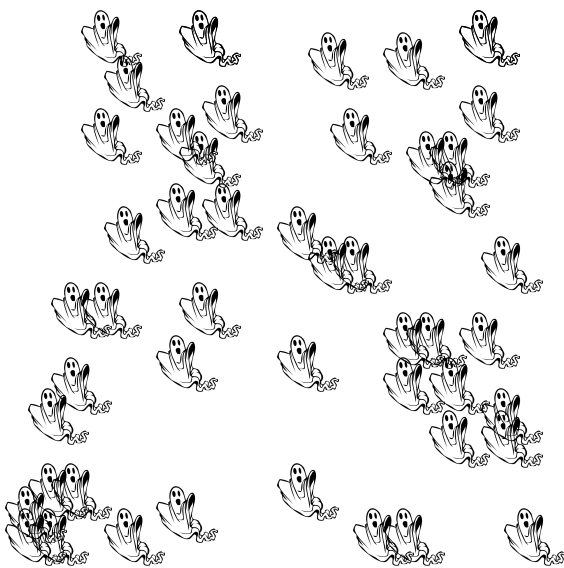
1. Hay  cabezas de calabaza.



2. Hay  murciélagos.



3. Hay  fantasmas.



4. Hay  brujas.

