

CONTAR EN HALLOWEEN (A)

Nombre: _____

Fecha: _____

Puntuación: _____ /4

¡Si os atrevéis, contad la cantidad de objetos en cada grupo!


1. Hay cabezas de calabaza.



2. Hay brujas.



3. Hay murciélagos.



4. Hay fantasmas.



CONTAR EN HALLOWEEN (A) RESPUESTAS

Nombre: _____ Fecha: _____ Puntuación: _____ /4

¡Si os atrevéis, contad la cantidad de objetos en cada grupo!


1. Hay cabezas de calabaza.




2. Hay brujas.



3. Hay murciélagos.



4. Hay fantasmas.



CONTAR EN HALLOWEEN (B)

Nombre: _____

Fecha: _____

Puntuación: _____ /4

¡Si os atrevéis, contad la cantidad de objetos en cada grupo!


1. Hay cabezas de calabaza.




2. Hay brujas.



3. Hay fantasmas.



4. Hay murciélagos.



CONTAR EN HALLOWEEN (B) RESPUESTAS


Nombre: _____ Fecha: _____ Puntuación: _____ /4

¡Si os atrevéis, contad la cantidad de objetos en cada grupo!


1. Hay cabezas de calabaza.




2. Hay brujas.



3. Hay fantasmas.



4. Hay murciélagos.



CONTAR EN HALLOWEEN (C)

Nombre: _____

Fecha: _____

Puntuación: _____ /4

¡Si os atrevéis, contad la cantidad de objetos en cada grupo!

1. Hay fantasmas.



2. Hay murciélagos.



3. Hay brujas.



4. Hay cabezas de calabaza.



CONTAR EN HALLOWEEN (C) RESPUESTAS

Nombre: _____ Fecha: _____ Puntuación: _____ /4

¡Si os atrevéis, contad la cantidad de objetos en cada grupo!

1. Hay fantasmas.



2. Hay murciélagos.



3. Hay brujas.



4. Hay cabezas de calabaza.



CONTAR EN HALLOWEEN (D)

Nombre: _____

Fecha: _____


Puntuación: _____ /4

¡Si os atrevéis, contad la cantidad de objetos en cada grupo!

1. Hay brujas.



2. Hay fantasmas.



3. Hay cabezas de calabaza.



4. Hay murciélagos.



CONTAR EN HALLOWEEN (D) RESPUESTAS


Nombre: _____ Fecha: _____ Puntuación: _____ /4

¡Si os atrevéis, contad la cantidad de objetos en cada grupo!

1. Hay brujas.



2. Hay fantasmas.



3. Hay cabezas de calabaza.



4. Hay murciélagos.



CONTAR EN HALLOWEEN (E)

Nombre: _____ Fecha: _____ Puntuación: _____ /4

¡Si os atrevéis, contad la cantidad de objetos en cada grupo!


1. Hay brujas.




2. Hay cabezas de calabaza.



3. Hay fantasmas.



4. Hay murciélagos.



CONTAR EN HALLOWEEN (E) RESPUESTAS

Nombre: _____

Fecha: _____

Puntuación: _____ /4

¡Si os atrevéis, contad la cantidad de objetos en cada grupo!


1. Hay brujas.




2. Hay cabezas de calabaza.



3. Hay fantasmas.



4. Hay murciélagos.



CONTAR EN HALLOWEEN (F)


Nombre: _____

Fecha: _____

Puntuación: _____ /4

¡Si os atrevéis, contad la cantidad de objetos en cada grupo!

1. Hay murciélagos.



2. Hay fantasmas.



3. Hay cabezas de calabaza.



4. Hay brujas.




CONTAR EN HALLOWEEN (F) RESPUESTAS

Nombre: _____ Fecha: _____ Puntuación: _____ /4

¡Si os atrevéis, contad la cantidad de objetos en cada grupo!

1. Hay murciélagos.



2. Hay fantasmas.



3. Hay cabezas de calabaza.



4. Hay brujas.



CONTAR EN HALLOWEEN (Q)

Nombre: _____

Fecha: _____

Puntuación: _____ /4

¡Si os atrevéis, contad la cantidad de objetos en cada grupo!

1. Hay fantasmas.



2. Hay brujas.



3. Hay cabezas de calabaza.



4. Hay murciélagos.



CONTAR EN HALLOWEEN (Q) RESPUESTAS

Nombre: _____ Fecha: _____ Puntuación: _____ /4

¡Si os atrevéis, contad la cantidad de objetos en cada grupo!

1. Hay fantasmas.



2. Hay brujas.



3. Hay cabezas de calabaza.



4. Hay murciélagos.



CONTAR EN HALLOWEEN (H)

Nombre: _____

Fecha: _____

Puntuación: _____ /4

¡Si os atrevéis, contad la cantidad de objetos en cada grupo!

1. Hay murciélagos.



2. Hay brujas.



3. Hay fantasmas.



4. Hay cabezas de calabaza.



CONTAR EN HALLOWEEN (H) RESPUESTAS

Nombre: _____ Fecha: _____ Puntuación: _____ /4

¡Si os atrevéis, contad la cantidad de objetos en cada grupo!

1. Hay murciélagos.



2. Hay brujas.



3. Hay fantasmas.



4. Hay cabezas de calabaza.



CONTAR EN HALLOWEEN (1)

Nombre: _____

Fecha: _____

Puntuación: _____ /4

¡Si os atrevéis, contad la cantidad de objetos en cada grupo!


1. Hay fantasmas.



2. Hay brujas.



3. Hay murciélagos.



4. Hay cabezas de calabaza.



CONTAR EN HALLOWEEN (1) RESPUESTAS


Nombre: _____ Fecha: _____ Puntuación: _____ /4

¡Si os atrevéis, contad la cantidad de objetos en cada grupo!


1. Hay fantasmas.



2. Hay brujas.



3. Hay murciélagos.



4. Hay cabezas de calabaza.



CONTAR EN HALLOWEEN (J)

Nombre: _____ Fecha: _____ Puntuación: _____ /4

¡Si os atrevéis, contad la cantidad de objetos en cada grupo!

1. Hay cabezas de calabaza.



2. Hay brujas.



3. Hay murciélagos.



4. Hay fantasmas.



CONTAR EN HALLOWEEN (J) RESPUESTAS

Nombre: _____

Fecha: _____

Puntuación: _____ /4

¡Si os atrevéis, contad la cantidad de objetos en cada grupo!

1. Hay cabezas de calabaza.



2. Hay brujas.



3. Hay murciélagos.



4. Hay fantasmas.

