

# CONTAR EN HALLOWEEN (A)

Nombre: \_\_\_\_\_

Fecha: \_\_\_\_\_


Puntuación: \_\_\_\_\_ /4

¡Si os atrevéis, contad la cantidad de objetos en cada grupo!

1. Hay  murciélagos.



2. Hay  fantasmas.



3. Hay  cabezas de calabaza.



4. Hay  brujas.



# CONTAR EN HALLOWEEN (A) RESPUESTAS

Nombre: \_\_\_\_\_

Fecha: \_\_\_\_\_


Puntuación: \_\_\_\_\_ /4

¡Si os atrevéis, contad la cantidad de objetos en cada grupo!

1. Hay  murciélagos.



2. Hay  fantasmas.



3. Hay  cabezas de calabaza.



4. Hay  brujas.



# CONTAR EN HALLOWEEN (B)


Nombre: \_\_\_\_\_

Fecha: \_\_\_\_\_

Puntuación: \_\_\_\_\_ /4

¡Si os atrevéis, contad la cantidad de objetos en cada grupo!

1. Hay  murciélagos.



2. Hay  fantasmas.



3. Hay  cabezas de calabaza.



4. Hay  brujas.



# CONTAR EN HALLOWEEN (B) RESPUESTAS


Nombre: \_\_\_\_\_

Fecha: \_\_\_\_\_

Puntuación: \_\_\_\_\_ /4

¡Si os atrevéis, contad la cantidad de objetos en cada grupo!

1. Hay  murciélagos.



2. Hay  fantasmas.



3. Hay  cabezas de calabaza.



4. Hay  brujas.



# CONTAR EN HALLOWEEN (C)

Nombre: \_\_\_\_\_

Fecha: \_\_\_\_\_


Puntuación: \_\_\_\_\_ /4

¡Si os atrevéis, contad la cantidad de objetos en cada grupo!

1. Hay  murciélagos.



2. Hay  brujas.



3. Hay  fantasmas.



4. Hay  cabezas de calabaza.



# CONTAR EN HALLOWEEN (C) RESPUESTAS


Nombre: \_\_\_\_\_ Fecha: \_\_\_\_\_ Puntuación: \_\_\_\_\_ /4

¡Si os atrevéis, contad la cantidad de objetos en cada grupo!

1. Hay  murciélagos.



2. Hay  brujas.



3. Hay  fantasmas.



4. Hay  cabezas de calabaza.



# CONTAR EN HALLOWEEN (D)


Nombre: \_\_\_\_\_

Fecha: \_\_\_\_\_

Puntuación: \_\_\_\_\_ /4

¡Si os atrevéis, contad la cantidad de objetos en cada grupo!


1. Hay  brujas.



2. Hay  murciélagos.



3. Hay  fantasmas.



4. Hay  cabezas de calabaza.



# CONTAR EN HALLOWEEN (D) RESPUESTAS


Nombre: \_\_\_\_\_

Fecha: \_\_\_\_\_

Puntuación: \_\_\_\_\_ /4

¡Si os atrevéis, contad la cantidad de objetos en cada grupo!


1. Hay  brujas.



2. Hay  murciélagos.



3. Hay  fantasmas.



4. Hay  cabezas de calabaza.





# CONTAR EN HALLOWEEN (E)


Nombre: \_\_\_\_\_

Fecha: \_\_\_\_\_


Puntuación: \_\_\_\_\_ /4

¡Si os atrevéis, contad la cantidad de objetos en cada grupo!

1. Hay  brujas.




2. Hay  fantasmas.



3. Hay  cabezas de calabaza.



4. Hay  murciélagos.



# CONTAR EN HALLOWEEN (E) RESPUESTAS


Nombre: \_\_\_\_\_ Fecha: \_\_\_\_\_ Puntuación: \_\_\_\_\_ /4

¡Si os atrevéis, contad la cantidad de objetos en cada grupo!

1. Hay  brujas.




2. Hay  fantasmas.



3. Hay  cabezas de calabaza.



4. Hay  murciélagos.



# CONTAR EN HALLOWEEN (F)

Nombre: \_\_\_\_\_

Fecha: \_\_\_\_\_


Puntuación: \_\_\_\_\_ /4

¡Si os atrevéis, contad la cantidad de objetos en cada grupo!

1. Hay  fantasmas.




2. Hay  murciélagos.



3. Hay  cabezas de calabaza.



4. Hay  brujas.



# CONTAR EN HALLOWEEN (F) RESPUESTAS

Nombre: \_\_\_\_\_

Fecha: \_\_\_\_\_


Puntuación: \_\_\_\_\_ /4

¡Si os atrevéis, contad la cantidad de objetos en cada grupo!

1. Hay  fantasmas.




2. Hay  murciélagos.



3. Hay  cabezas de calabaza.



4. Hay  brujas.



# CONTAR EN HALLOWEEN (9)


Nombre: \_\_\_\_\_

Fecha: \_\_\_\_\_

Puntuación: \_\_\_\_\_ /4

¡Si os atrevéis, contad la cantidad de objetos en cada grupo!

1. Hay  fantasmas.



2. Hay  cabezas de calabaza.



3. Hay  brujas.



4. Hay  murciélagos.



# CONTAR EN HALLOWEEN (Q) RESPUESTAS


Nombre: \_\_\_\_\_

Fecha: \_\_\_\_\_

Puntuación: \_\_\_\_\_ /4

¡Si os atrevéis, contad la cantidad de objetos en cada grupo!

1. Hay  fantasmas.



2. Hay  cabezas de calabaza.



3. Hay  brujas.



4. Hay  murciélagos.



# CONTAR EN HALLOWEEN (H)


Nombre: \_\_\_\_\_

Fecha: \_\_\_\_\_

Puntuación: \_\_\_\_\_ /4

¡Si os atrevéis, contad la cantidad de objetos en cada grupo!


1. Hay  murciélagos.




2. Hay  cabezas de calabaza.



3. Hay  fantasmas.



4. Hay  brujas.



# CONTAR EN HALLOWEEN (H) RESPUESTAS


Nombre: \_\_\_\_\_

Fecha: \_\_\_\_\_

Puntuación: \_\_\_\_\_ /4

¡Si os atrevéis, contad la cantidad de objetos en cada grupo!


1. Hay  murciélagos.




2. Hay  cabezas de calabaza.



3. Hay  fantasmas.



4. Hay  brujas.





# CONTAR EN HALLOWEEN (1)


Nombre: \_\_\_\_\_

Fecha: \_\_\_\_\_

Puntuación: \_\_\_\_\_ /4

¡Si os atrevéis, contad la cantidad de objetos en cada grupo!


1. Hay  fantasmas.



2. Hay  brujas.



3. Hay  murciélagos.



4. Hay  cabezas de calabaza.



# CONTAR EN HALLOWEEN (1) RESPUESTAS


Nombre: \_\_\_\_\_

Fecha: \_\_\_\_\_

Puntuación: \_\_\_\_\_ /4

¡Si os atrevéis, contad la cantidad de objetos en cada grupo!


1. Hay  fantasmas.



2. Hay  brujas.



3. Hay  murciélagos.



4. Hay  cabezas de calabaza.



# CONTAR EN HALLOWEEN (J)


Nombre: \_\_\_\_\_

Fecha: \_\_\_\_\_

Puntuación: \_\_\_\_\_ /4

¡Si os atrevéis, contad la cantidad de objetos en cada grupo!

1. Hay  murciélagos.



2. Hay  cabezas de calabaza.



3. Hay  brujas.



4. Hay  fantasmas.




# CONTAR EN HALLOWEEN (J) RESPUESTAS

Nombre: \_\_\_\_\_ Fecha: \_\_\_\_\_ Puntuación: \_\_\_\_\_ /4

¡Si os atrevéis, contad la cantidad de objetos en cada grupo!

1. Hay  murciélagos.



2. Hay  cabezas de calabaza.



3. Hay  brujas.



4. Hay  fantasmas.

