

CONTAR EN HALLOWEEN (9)


Nombre: _____

Fecha: _____


Puntuación: _____ /4

¡Si os atrevéis, contad la cantidad de objetos en cada grupo!

1. Hay murciélagos.



2. Hay brujas.



3. Hay cabezas de calabaza.



4. Hay fantasmas.



CONTAR EN HALLOWEEN (Q) RESPUESTAS


Nombre: _____

Fecha: _____


Puntuación: _____ /4

¡Si os atrevéis, contad la cantidad de objetos en cada grupo!

1. Hay murciélagos.



2. Hay brujas.



3. Hay cabezas de calabaza.



4. Hay fantasmas.

