











# CONTAR DE 2 EN 2 EN HALLOWEEN (B)

Nombre: \_\_\_\_\_ Fecha: \_\_\_\_\_ Puntuación: \_\_\_\_\_






Empiecen por el dos y cuenten dos más en cada paso.

 →  →  →  → 






→  →  →  →  →

 →  →  →  → 






→  →  →  →  →

 →  →  →  → 

→  →  →  →  →

 →  →  →  → 

→  →  →  →  →

 →  →  →  → 

→  →  →  →  →

# CONTAR DE 2 EN 2 EN HALLOWEEN (B) RESPUESTAS

Nombre: \_\_\_\_\_

Fecha: \_\_\_\_\_

Puntuación: \_\_\_\_\_

Empiecen por el dos y cuenten dos más en cada paso.



2



4



6



8



10



12



14



16



18



20



22



24



26



28



30



32



34



36



38



40



42



44



46



48



50

