


























CONTAR DE 2 EN 2 EN HALLOWEEN (A)

Nombre: _____ Fecha: _____ Puntuación: _____









Empiecen por el dos y cuenten dos más en cada paso.

					
<input type="text"/>	→ <input type="text"/>	→ <input type="text"/>	→ <input type="text"/>	→ <input type="text"/>	→
					
<input type="text"/>	→ <input type="text"/>	→ <input type="text"/>	→ <input type="text"/>	→ <input type="text"/>	→
					
<input type="text"/>	→ <input type="text"/>	→ <input type="text" value="26"/>	→ <input type="text"/>	→ <input type="text"/>	→
					
<input type="text"/>	→ <input type="text"/>	→ <input type="text"/>	→ <input type="text"/>	→ <input type="text"/>	→
					
<input type="text"/>	→ <input type="text" value="44"/>	→ <input type="text"/>	→ <input type="text"/>	→ <input type="text"/>	→

CONTAR DE 2 EN 2 EN HALLOWEEN (A) RESPUESTAS

Nombre: _____ Fecha: _____ Puntuación: _____






Empiecen por el dos y cuenten dos más en cada paso.

	→		→		→		→		→
2	→	4	→	6	→	8	→	10	→
	→		→		→		→		→
12	→	14	→	16	→	18	→	20	→
	→		→		→		→		→
22	→	24	→	26	→	28	→	30	→
	→		→		→		→		→
32	→	34	→	36	→	38	→	40	→
	→		→		→		→		→
42	→	44	→	46	→	48	→	50	→






CONTAR DE 2 EN 2 EN HALLOWEEN (B)

Nombre: _____ Fecha: _____ Puntuación: _____






Empiecen por el dos y cuenten dos más en cada paso.






→ → → → →






→ → → → →

→ → → → →

→ → → → →

→ → → → →

CONTAR DE 2 EN 2 EN HALLOWEEN (B) RESPUESTAS

Nombre: _____ Fecha: _____ Puntuación: _____

Empiecen por el dos y cuenten dos más en cada paso.



2



4



6



8



10



12



14



16



18



20



22



24



26



28



30



32



34



36



38



40



42



44



46



48



50








CONTAR DE 2 EN 2 EN HALLOWEEN (C)

Nombre: _____






Fecha: _____

Puntuación: _____






Empiecen por el dos y cuenten dos más en cada paso.






→ → → → →






→ → → → →

→ → → → →

→ → → → →

→ → → → →

CONTAR DE 2 EN 2 EN HALLOWEEN (C) RESPUESTAS

Nombre: _____

Fecha: _____

Puntuación: _____

Empiecen por el dos y cuenten dos más en cada paso.



2



4



6



8



10



12



14



16



18



20



22



24



26



28



30



32



34



36



38



40



42



44



46



48








50








CONTAR DE 2 EN 2 EN HALLOWEEN (D)

Nombre: _____ Fecha: _____ Puntuación: _____






Empiecen por el dos y cuenten dos más en cada paso.

 →  →  →  →  →






□ → □ → □ → □ → □ →

 →  →  →  →  →






□ → □ → □ → □ → □ →

 →  →  →  →  →

□ → □ → □ → 28 → □ →

 →  →  →  →  →

□ → □ → □ → □ → □ →

 →  →  →  →  →

□ → □ → 46 → □ → □ →

CONTAR DE 2 EN 2 EN HALLOWEEN (D) RESPUESTAS

Nombre: _____

Fecha: _____

Puntuación: _____

Empiecen por el dos y cuenten dos más en cada paso.



2



4



6



8



10



12



14



16



18



20



22



24



26



28



30



32



34



36



38



40



42



44



46



48








50








CONTAR DE 2 EN 2 EN HALLOWEEN (E)

Nombre: _____ Fecha: _____ Puntuación: _____






Empiecen por el dos y cuenten dos más en cada paso.

 →  →  →  →  →






□ → □ → □ → □ → □ →

 →  →  →  →  →






□ → □ → □ → □ → 20 →

 →  →  →  →  →

□ → □ → □ → □ → 30 →

 →  →  →  →  →

□ → □ → □ → □ → □ →

 →  →  →  →  →

□ → □ → □ → □ → □ →

CONTAR DE 2 EN 2 EN HALLOWEEN (E) RESPUESTAS

Nombre: _____

Fecha: _____

Puntuación: _____

Empiecen por el dos y cuenten dos más en cada paso.



2



4



6



8



10



12



14



16



18



20



22



24



26



28



30



32



34



36



38



40



42



44



46



48








50













CONTAR DE 2 EN 2 EN HALLOWEEN (F)






Nombre: _____ Fecha: _____ Puntuación: _____






Empiecen por el dos y cuenten dos más en cada paso.

 →  →  →  →  → →

 →  →  →  →  → →

 →  →  →  →  → →

 →  →  →  →  → →

 →  →  →  →  → →

CONTAR DE 2 EN 2 EN HALLOWEEN (F) RESPUESTAS

Nombre: _____ Fecha: _____ Puntuación: _____

Empiecen por el dos y cuenten dos más en cada paso.



2 → 4 → 6 → 8 → 10 →



12 → 14 → 16 → 18 → 20 →



22 → 24 → 26 → 28 → 30 →



32 → 34 → 36 → 38 → 40 →








42 → 44 → 46 → 48 → 50 →






CONTAR DE 2 EN 2 EN HALLOWEEN (Q)

Nombre: _____ Fecha: _____ Puntuación: _____






Empiecen por el dos y cuenten dos más en cada paso.

 →  →  →  →  →






□ → □ → □ → □ → □ →

 →  →  →  →  →






□ → □ → □ → □ → □ →

 →  →  →  →  →

□ → □ → □ → □ → □ →

 →  →  →  →  →

32 → 34 → □ → □ → □ →

 →  →  →  →  →

□ → □ → □ → □ → □ →

CONTAR DE 2 EN 2 EN HALLOWEEN (G) RESPUESTAS

Nombre: _____

Fecha: _____

Puntuación: _____

Empiecen por el dos y cuenten dos más en cada paso.



2



4



6



8



10



12



14



16



18



20



22



24



26



28



30



32



34



36



38



40



42



44



46



48








50








CONTAR DE 2 EN 2 EN HALLOWEEN (H)

Nombre: _____ Fecha: _____ Puntuación: _____






Empiecen por el dos y cuenten dos más en cada paso.

 →  →  →  →  →






□ → □ → □ → □ → □ →

 →  →  →  →  →






□ → 14 → □ → 18 → □ →

 →  →  →  →  →

□ → □ → □ → □ → □ →

 →  →  →  →  →

□ → □ → □ → □ → □ →

 →  →  →  →  →

□ → □ → □ → □ → □ →

CONTAR DE 2 EN 2 EN HALLOWEEN (H) RESPUESTAS

Nombre: _____

Fecha: _____

Puntuación: _____

Empiecen por el dos y cuenten dos más en cada paso.



2



4



6



8



10



12



14



16



18



20



22



24



26



28



30



32



34



36



38



40



42



44



46



48








50



CONTAR DE 2 EN 2 EN HALLOWEEN (I)






Nombre: _____ Fecha: _____ Puntuación: _____

Empiecen por el dos y cuenten dos más en cada paso.






→

→ → → → →






→

→ → → → →






→

→ → → → →

→

→ → → → →

→

→ → → → →

CONTAR DE 2 EN 2 EN HALLOWEEN (1) RESPUESTAS

Nombre: _____

Fecha: _____

Puntuación: _____

Empiecen por el dos y cuenten dos más en cada paso.



2



4



6



8



10



12



14



16



18



20



22



24



26



28



30



32



34



36



38



40



42



44



46



48








50








CONTAR DE 2 EN 2 EN HALLOWEEN (J)

Nombre: _____ Fecha: _____ Puntuación: _____






Empiecen por el dos y cuenten dos más en cada paso.

 →  →  →  →  →






□ → □ → □ → □ → □ →

 →  →  →  →  →






□ → □ → □ → □ → □ →

 →  →  →  →  →

22 → □ → □ → □ → □ →

 →  →  →  →  →

□ → □ → □ → □ → □ →

 →  →  →  →  →

□ → □ → □ → 48 → □ →



CONTAR DE 2 EN 2 EN HALLOWEEN (J) RESPUESTAS

Nombre: _____

Fecha: _____

Puntuación: _____

Empiecen por el dos y cuenten dos más en cada paso.

	→		→		→		→		→
2	→	4	→	6	→	8	→	10	→
	→		→		→		→		→
12	→	14	→	16	→	18	→	20	→
	→		→		→		→		→
22	→	24	→	26	→	28	→	30	→
	→		→		→		→		→
32	→	34	→	36	→	38	→	40	→
	→		→		→		→		→
42	→	44	→	46	→	48	→	50	→