
















CONTAR DE 5 EN 5 EN HALLOWEEN (F)






Nombre: _____ Fecha: _____ Puntuación: _____






Empiecen por el cinco y cuenten cinco más en cada paso.

	→		→		→		→		→
<input type="text"/>		<input type="text"/>		<input type="text"/>		<input type="text"/>		<input type="text"/>	

	→		→		→		→		→
<input type="text"/>		<input type="text" value="35"/>		<input type="text"/>		<input type="text"/>		<input type="text"/>	

	→		→		→		→		→
<input type="text"/>		<input type="text"/>		<input type="text"/>		<input type="text"/>		<input type="text"/>	

	→		→		→		→		→
<input type="text"/>		<input type="text"/>		<input type="text" value="90"/>		<input type="text"/>		<input type="text"/>	

	→		→		→		→		→
<input type="text"/>		<input type="text"/>		<input type="text"/>		<input type="text"/>		<input type="text"/>	











CONTAR DE 5 EN 5 EN HALLOWEEN (F) RESPUESTAS

Nombre: _____

Fecha: _____

Puntuación: _____

Empiecen por el cinco y cuenten cinco más en cada paso.

	→		→		→		→		→
5		10		15		20		25	
	→		→		→		→		→
30		35		40		45		50	
	→		→		→		→		→
55		60		65		70		75	
	→		→		→		→		→
80		85		90		95		100	
	→		→		→		→		→
105		110		115		120		125	