






# CONTAR DE 5 EN 5 EN HALLOWEEN (J)






Nombre: \_\_\_\_\_






Fecha: \_\_\_\_\_






Puntuación: \_\_\_\_\_






Empiecen por el cinco y cuenten cinco más en cada paso.

	→		→		→		→		→
<input type="text"/>		<input type="text"/>		<input type="text"/>		<input type="text"/>		<input type="text" value="25"/>	

	→		→		→		→		→
<input type="text"/>		<input type="text"/>		<input type="text"/>		<input type="text"/>		<input type="text"/>	

	→		→		→		→		→
<input type="text"/>		<input type="text"/>		<input type="text"/>		<input type="text"/>		<input type="text"/>	

	→		→		→		→		→
<input type="text"/>		<input type="text"/>		<input type="text"/>		<input type="text"/>		<input type="text"/>	

	→		→		→		→		→
<input type="text"/>		<input type="text"/>		<input type="text" value="115"/>		<input type="text"/>		<input type="text"/>	









# CONTAR DE 5 EN 5 EN HALLOWEEN (J) RESPUESTAS

Nombre: \_\_\_\_\_

Fecha: \_\_\_\_\_

Puntuación: \_\_\_\_\_

Empiecen por el cinco y cuenten cinco más en cada paso.

	→		→		→		→		→
5	→	10	→	15	→	20	→	25	→
	→		→		→		→		→
30	→	35	→	40	→	45	→	50	→
	→		→		→		→		→
55	→	60	→	65	→	70	→	75	→
	→		→		→		→		→
80	→	85	→	90	→	95	→	100	→
	→		→		→		→		→
105	→	110	→	115	→	120	→	125	→