

# CONTAR DE 5 EN 5 EN HALLOWEEN (A)

Nombre: \_\_\_\_\_ Fecha: \_\_\_\_\_ Puntuación: \_\_\_\_\_

Empiecen por el cinco y cuenten cinco más en cada paso.

	→		→		→		→		→
<input type="text"/>		<input type="text"/>		<input type="text" value="15"/>		<input type="text"/>		<input type="text"/>	
	→		→		→		→		→
<input type="text"/>		<input type="text"/>		<input type="text"/>		<input type="text"/>		<input type="text"/>	
	→		→		→		→		→
<input type="text"/>		<input type="text"/>		<input type="text"/>		<input type="text"/>		<input type="text"/>	
	→		→		→		→		→
<input type="text"/>		<input type="text"/>		<input type="text"/>		<input type="text"/>		<input type="text"/>	
	→		→		→		→		→
<input type="text"/>		<input type="text"/>		<input type="text"/>		<input type="text" value="120"/>		<input type="text"/>	

# CONTAR DE 5 EN 5 EN HALLOWEEN (A) RESPUESTAS

Nombre: \_\_\_\_\_

Fecha: \_\_\_\_\_

Puntuación: \_\_\_\_\_

Empiecen por el cinco y cuenten cinco más en cada paso.



5



10



15



20



25



30



35



40



45



50



55



60



65



70



75



80



85



90



95



100



105



110



115



120




125





# CONTAR DE 5 EN 5 EN HALLOWEEN (B)


Nombre: \_\_\_\_\_ Fecha: \_\_\_\_\_ Puntuación: \_\_\_\_\_


Empiecen por el cinco y cuenten cinco más en cada paso.

 →  →  →  →  →  →

 →  →  →  →  →  →

 →  →  →  →  →  →

 →  →  →  →  →  →

 →  →  →  →  →  →

→  →  →  →  →

# CONTAR DE 5 EN 5 EN HALLOWEEN (B) RESPUESTAS

Nombre: \_\_\_\_\_

Fecha: \_\_\_\_\_

Puntuación: \_\_\_\_\_

Empiecen por el cinco y cuenten cinco más en cada paso.



5



10



15



20



25



30



35



40



45



50



55



60



65



70



75



80



85



90



95



100



105



110



115



120




125





# CONTAR DE 5 EN 5 EN HALLOWEEN (C)


Nombre: \_\_\_\_\_ Fecha: \_\_\_\_\_ Puntuación: \_\_\_\_\_


Empiecen por el cinco y cuenten cinco más en cada paso.

  
[ ] → [ ] → [ ] → [ ] → [ ] → [ ]

  
[ ] → [ ] → [ ] → [ ] → [ ] → [ ]

  
[ ] → [ ] → **65** → [ ] → **75** → [ ]

  
[ ] → [ ] → [ ] → [ ] → [ ] → [ ]

  
[ ] → [ ] → [ ] → [ ] → [ ] → [ ]














# CONTAR DE 5 EN 5 EN HALLOWEEN (C) RESPUESTAS

Nombre: \_\_\_\_\_

Fecha: \_\_\_\_\_

Puntuación: \_\_\_\_\_

Empiecen por el cinco y cuenten cinco más en cada paso.

	→		→		→		→		→
5		10		15		20		25	
	→		→		→		→		→
30		35		40		45		50	
	→		→		→		→		→
55		60		65		70		75	
	→		→		→		→		→
80		85		90		95		100	
	→		→		→		→		→
105		110		115		120		125	






# CONTAR DE 5 EN 5 EN HALLOWEEN (D)






Nombre: \_\_\_\_\_






Fecha: \_\_\_\_\_






Puntuación: \_\_\_\_\_

Empiecen por el cinco y cuenten cinco más en cada paso.






 →  →  →  →  →

 →  →  →  →  →

 →  →  →  →  →

 →  →  →  →  →

**80** →  →  → **95** →  →

 →  →  →  →  →

→  →  →  →  →













# CONTAR DE 5 EN 5 EN HALLOWEEN (D) RESPUESTAS

Nombre: \_\_\_\_\_

Fecha: \_\_\_\_\_

Puntuación: \_\_\_\_\_

Empiecen por el cinco y cuenten cinco más en cada paso.


	→		→		→		→		→
5		10		15		20		25	
	→		→		→		→		→
30		35		40		45		50	
	→		→		→		→		→
55		60		65		70		75	
	→		→		→		→		→
80		85		90		95		100	
	→		→		→		→		→
105		110		115		120		125	





# CONTAR DE 5 EN 5 EN HALLOWEEN (E)


Nombre: \_\_\_\_\_ Fecha: \_\_\_\_\_ Puntuación: \_\_\_\_\_


Empiecen por el cinco y cuenten cinco más en cada paso.

 →  →  →  →  →  →

 →  →  →  →  →  →

 →  →  →  →  →  →

 →  →  →  →  →  →

 →  →  →  →  →  →

# CONTAR DE 5 EN 5 EN HALLOWEEN (E) RESPUESTAS

Nombre: \_\_\_\_\_

Fecha: \_\_\_\_\_

Puntuación: \_\_\_\_\_

Empiecen por el cinco y cuenten cinco más en cada paso.



5



10



15



20



25



30



35



40



45



50



55



60



65



70



75



80



85



90



95



100



105



110



115



120








125













# CONTAR DE 5 EN 5 EN HALLOWEEN (F)






Nombre: \_\_\_\_\_ Fecha: \_\_\_\_\_ Puntuación: \_\_\_\_\_






Empiecen por el cinco y cuenten cinco más en cada paso.

	→		→		→		→		→
<input type="text"/>		<input type="text"/>		<input type="text"/>		<input type="text"/>		<input type="text"/>	

	→		→		→		→		→
<input type="text"/>		<input type="text" value="35"/>		<input type="text"/>		<input type="text"/>		<input type="text"/>	

	→		→		→		→		→
<input type="text"/>		<input type="text"/>		<input type="text"/>		<input type="text"/>		<input type="text"/>	

	→		→		→		→		→
<input type="text"/>		<input type="text"/>		<input type="text" value="90"/>		<input type="text"/>		<input type="text"/>	

	→		→		→		→		→
<input type="text"/>		<input type="text"/>		<input type="text"/>		<input type="text"/>		<input type="text"/>	

# CONTAR DE 5 EN 5 EN HALLOWEEN (F) RESPUESTAS

Nombre: \_\_\_\_\_

Fecha: \_\_\_\_\_

Puntuación: \_\_\_\_\_

Empiecen por el cinco y cuenten cinco más en cada paso.



5



10



15



20



25



30



35



40



45



50



55



60



65



70



75



80



85



90



95



100



105



110



115



120



125



# CONTAR DE 5 EN 5 EN HALLOWEEN (Q)

Nombre: \_\_\_\_\_

Fecha: \_\_\_\_\_

Puntuación: \_\_\_\_\_

Empiecen por el cinco y cuenten cinco más en cada paso.



# CONTAR DE 5 EN 5 EN HALLOWEEN (G) RESPUESTAS

Nombre: \_\_\_\_\_

Fecha: \_\_\_\_\_

Puntuación: \_\_\_\_\_

Empiecen por el cinco y cuenten cinco más en cada paso.



5



10



15



20



25



30



35



40



45



50



55



60



65



70



75



80



85



90



95



100



105



110



115



120



125








# CONTAR DE 5 EN 5 EN HALLOWEEN (H)






Nombre: \_\_\_\_\_






Fecha: \_\_\_\_\_






Puntuación: \_\_\_\_\_






Empiecen por el cinco y cuenten cinco más en cada paso.

	→		→		→		→		→
<input type="text"/>		<input type="text"/>		<input type="text"/>		<input type="text"/>		<input type="text"/>	

	→		→		→		→		→
<input type="text"/>		<input type="text"/>		<input type="text"/>		<input type="text" value="45"/>		<input type="text" value="50"/>	

	→		→		→		→		→
<input type="text"/>		<input type="text"/>		<input type="text"/>		<input type="text"/>		<input type="text"/>	

	→		→		→		→		→
<input type="text"/>		<input type="text"/>		<input type="text"/>		<input type="text"/>		<input type="text"/>	

	→		→		→		→		→
<input type="text"/>		<input type="text"/>		<input type="text"/>		<input type="text"/>		<input type="text"/>	
















# CONTAR DE 5 EN 5 EN HALLOWEEN (H) RESPUESTAS

Nombre: \_\_\_\_\_

Fecha: \_\_\_\_\_

Puntuación: \_\_\_\_\_

Empiecen por el cinco y cuenten cinco más en cada paso.






	→		→		→		→		→
5		10		15		20		25	
	→		→		→		→		→
30		35		40		45		50	
	→		→		→		→		→
55		60		65		70		75	
	→		→		→		→		→
80		85		90		95		100	
	→		→		→		→		→
105		110		115		120		125	













# CONTAR DE 5 EN 5 EN HALLOWEEN (1)






Nombre: \_\_\_\_\_ Fecha: \_\_\_\_\_ Puntuación: \_\_\_\_\_






Empiecen por el cinco y cuenten cinco más en cada paso.

	→		→		→		→		→
<input type="text"/>		10		<input type="text"/>		20		<input type="text"/>	

	→		→		→		→		→
<input type="text"/>		<input type="text"/>		<input type="text"/>		<input type="text"/>		<input type="text"/>	

	→		→		→		→		→
<input type="text"/>		<input type="text"/>		<input type="text"/>		<input type="text"/>		<input type="text"/>	

	→		→		→		→		→
<input type="text"/>		<input type="text"/>		<input type="text"/>		<input type="text"/>		<input type="text"/>	

	→		→		→		→		→
<input type="text"/>		<input type="text"/>		<input type="text"/>		<input type="text"/>		<input type="text"/>	

# CONTAR DE 5 EN 5 EN HALLOWEEN (1) RESPUESTAS

Nombre: \_\_\_\_\_

Fecha: \_\_\_\_\_

Puntuación: \_\_\_\_\_

Empiecen por el cinco y cuenten cinco más en cada paso.



5



10



15



20



25



30



35



40



45



50



55



60



65



70



75



80



85



90



95



100



105



110



115



120



125








# CONTAR DE 5 EN 5 EN HALLOWEEN (J)






Nombre: \_\_\_\_\_






Fecha: \_\_\_\_\_






Puntuación: \_\_\_\_\_






Empiecen por el cinco y cuenten cinco más en cada paso.

	→		→		→		→		→
<input type="text"/>		<input type="text"/>		<input type="text"/>		<input type="text"/>		<input type="text" value="25"/>	

	→		→		→		→		→
<input type="text"/>		<input type="text"/>		<input type="text"/>		<input type="text"/>		<input type="text"/>	

	→		→		→		→		→
<input type="text"/>		<input type="text"/>		<input type="text"/>		<input type="text"/>		<input type="text"/>	

	→		→		→		→		→
<input type="text"/>		<input type="text"/>		<input type="text"/>		<input type="text"/>		<input type="text"/>	

	→		→		→		→		→
<input type="text"/>		<input type="text"/>		<input type="text" value="115"/>		<input type="text"/>		<input type="text"/>	

# CONTAR DE 5 EN 5 EN HALLOWEEN (J) RESPUESTAS

Nombre: \_\_\_\_\_

Fecha: \_\_\_\_\_

Puntuación: \_\_\_\_\_

Empiecen por el cinco y cuenten cinco más en cada paso.



5



10



15



20



25



30



35



40



45



50



55



60



65



70



75



80



85



90



95



100



105



110



115



120



125

