


























# CONTAR DE 10 EN 10 EN HALLOWEEN (B)

Nombre: \_\_\_\_\_ Fecha: \_\_\_\_\_ Puntuación: \_\_\_\_\_

Empiecen por el diez y cuenten diez más en cada paso.

	→		→		→		→		→
<input type="text"/>		<input type="text"/>		<input type="text"/>		<input type="text"/>		<input type="text"/>	
	→		→		→		→		→
<input type="text"/>		<input type="text"/>		<input type="text"/>		<input type="text"/>		<input type="text"/>	
	→		→		→		→		→
<input type="text"/>		<input type="text"/>		<input type="text"/>		<input type="text"/>		<input type="text" value="150"/>	
	→		→		→		→		→
<input type="text"/>		<input type="text" value="170"/>		<input type="text"/>		<input type="text"/>		<input type="text"/>	
	→		→		→		→		→
<input type="text"/>		<input type="text"/>		<input type="text"/>		<input type="text"/>		<input type="text"/>	