
















# CONTAR DE 10 EN 10 EN HALLOWEEN (J)






Nombre: \_\_\_\_\_ Fecha: \_\_\_\_\_ Puntuación: \_\_\_\_\_






Empiecen por el diez y cuenten diez más en cada paso.

					
<input type="text"/>	→ <input type="text"/>	→ <input type="text"/>	→ <input type="text"/>	→ <input type="text"/>	→

					
<input type="text"/>	→ <input type="text"/>	→ <input type="text"/>	→ <input type="text" value="90"/>	→ <input type="text"/>	→

					
<input type="text"/>	→ <input type="text"/>	→ <input type="text" value="130"/>	→ <input type="text"/>	→ <input type="text"/>	→

					
<input type="text"/>	→ <input type="text"/>	→ <input type="text"/>	→ <input type="text"/>	→ <input type="text"/>	→

					
<input type="text"/>	→ <input type="text"/>	→ <input type="text"/>	→ <input type="text"/>	→ <input type="text"/>	→

# CONTAR DE 10 EN 10 EN HALLOWEEN (J) RESPUESTAS

Nombre: \_\_\_\_\_

Fecha: \_\_\_\_\_

Puntuación: \_\_\_\_\_

Empiecen por el diez y cuenten diez más en cada paso.



10



20



30



40



50



60



70



80



90



100



110



120



130



140



150



160



170



180



190



200



210



220



230



240



250